

きゅうこうちゅうのしゅくだい

9/1 (水) ^{すい} ~ 9/3 (金) ^{きん}

なまえ

☆とりくむひづけがかいてあります。そのひのぶんだけやりましょう。

☆こくごのいちぶと、さんすうはこたえがあります。こたえはみないでじぶんのちからでとりくみましょう。

☆おわったらみなおしをして、おうちのひとに〇つけをしてもらいましょう。

☆^{くがつむいか} 9月6日 (月) ^{げつ}、がっこうにもってきます。

ハジメのうたのこころをさくらこころに

（金） 8:00 ~ 10:00 PM

〜 花びら

♪ 花びら散るころに 春の風が吹くころに 花びら散るころに 春の風が吹くころに
♪ 花びら散るころに 春の風が吹くころに 花びら散るころに 春の風が吹くころに

〜 花びら

♪ 花びら散るころに 春の風が吹くころに 花びら散るころに 春の風が吹くころに

♪ 花びら散るころに 春の風が吹くころに (ED) 花びら

9/1
(すい)

なまえ

かたかな なぞりがきシート 1

◇かたかなをかきました。

テ	タ	セ	サ	ケ	カ	エ	ア
ト	チ	ソ	シ	コ	キ	オ	イ
	ツ		ス		ク		ウ

ラ	ヤ	メ	マ	ヘ	ハ	ネ	ナ
リ	ユ	モ	ミ	ホ	ヒ	ノ	ニ
ル	ヨ		ム		フ		ヌ










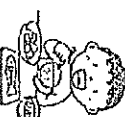




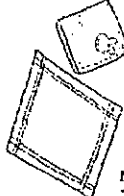








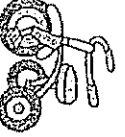




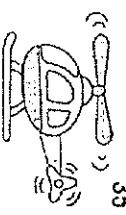



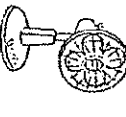

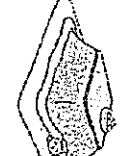
◇かたかなを かきましよう。

かたかな なぞりがきシート 2

なまえ

1-2

はじめ

7	 ボタッ ボタ ボタッ	6	 へんきとお へんきよう へんき	5	 かぼちや かぼちよ かぼちや	4	 はっけん はっけん はっけん	3	 おどと おどおど おどと	2	 おかく おんかく おんかく	1	 きつき きつき きつき
14	 エスカレータ エスカレータ エスカレータ	13	 ちよちゃん ちよちゃん ちよちゃん	12	 しゃくじ しゃくじ しゃくじ	11	 ほべた ほべった ほべた	10	 ちせう ちせお ちせ	9	 しごと しごと しごと	8	 かたる かたる かたる
21	 ハカチ リンカチ ハンカチ	20	 リヤイテ リヤイテ リヤイテ	19	 ちやわん ちやんわ ちやわん	18	 まっくろ まっくろ まっくろ	17	 ニやぐ ニやぐ ニやぐ	16	 うばわき うわはき うわはき	15	 ひよこ ひよこ ひよこ
28	 パイナップル パイナップル パイナップル	27	 ニうちよせんせい ニうちやうせんせい ニうちよせんせい	26	 さんりんしゃ さんりんしゃ さんりんしゃ	25	 はびき はびき はびき	24	 うんどおかい うんどうかい うんどうかい	23	 のこぎり のこぎ のこぎり	22	 かいる かえる かえる
35	 ヘコリブタ ヘコリブタ ヘコリブタ	34	 しょうじよう ひょうじよう しょうじよ	33	 しんじよ しんじゆ しんじゆ	32	 いぶん いぶん いぶん	31	 せんぶうき せんぶうき せんぶうき	30	 ざいかに ざりかに ざりかに	29	 こた こたつ こたし

片 () 物長 () 物 () 促 () 長 () 濁 () 濁 ()

テスト①の合計

30

くだもの

かかれていゝる くだものを 五つさがし カタカナで かきましよう。

ス	モ	メ	イ	グ
イ	モ	ロ	チ	レ
カ	マ	ン	ゴ	ー
キ	バ	ナ	ナ	プ
リ	ン	ゴ	シ	カ

日づけ

名まえ

できたら
なぞろう



31

こんちゅう

かかれていゝる こんちゅうを 五つさがし カタカナで かきましよう。

ノ	ミ	カ	マ	キ	リ
バ	ア	ブ	ラ	ゼ	ミ
ッ	リ	ト	ン	ボ	ウ
タ	マ	ム	シ	カ	ヨ
ハ	ム	シ	エ	ハ	チ

日づけ

名まえ

できたら
なぞろう



なまえ

10までの
たしざん・ひきざん
まとめテスト(1)

表現・処理

□ たしざんを しましよう。(2×25)

① $2+6=$ ② $4+3=$

③ $7+1=$ ④ $2+8=$

⑤ $6+0=$ ⑥ $6+3=$

⑦ $1+9=$ ⑧ $3+3=$

⑨ $6+1=$ ⑩ $8+2=$

⑪ $1+7=$ ⑫ $2+4=$

⑬ $0+8=$ ⑭ $7+2=$

⑮ $1+5=$ ⑯ $0+4=$

⑰ $3+4=$ ⑱ $1+6=$

⑲ $3+5=$ ⑳ $5+1=$

㉑ $4+6=$ ㉒ $7+3=$

㉓ $2+5=$ ㉔ $8+0=$

㉕ $5+4=$



□ ひきざんを しましよう。(2×25)

① $9-6=$ ② $8-4=$

③ $10-1=$ ④ $6-0=$

⑤ $9-3=$ ⑥ $7-2=$

⑦ $7-6=$ ⑧ $10-5=$

⑨ $6-4=$ ⑩ $7-1=$

⑪ $10-9=$ ⑫ $8-3=$

⑬ $9-8=$ ⑭ $6-6=$

⑮ $10-7=$ ⑯ $9-5=$


⑰ $7-4=$ ⑱ $10-0=$

⑲ $9-9=$ ⑳ $8-5=$

㉑ $8-7=$ ㉒ $9-0=$

㉓ $10-3=$ ㉔ $6-1=$

㉕ $9-7=$



10までのたしざん・ひきざん

なまえ

まとめテスト(1) 考

① みかんとを10こかけてきました。
7こ たべてしまいました。
みかんとはなんこのこつて
いますか。(20)
しき

こたえ

② いもほりをしました。
けいたくんとは 5こ、えりさんは
4こ ほりました。ふたりで
なんこ いもを ほりましたか。
(20)
しき

こたえ

③ さかなを 8ひき つりました。
ちいさい さかなが 3びき
いたので にかがして やりました。
さかなはなんびきになりましたか。
(20)
しき

こたえ

④ よるの そらに ほしが 9こ
ひかっています。3こ くもで
かくれました。みえている
ほしは なんこですか。(20)
しき

こたえ

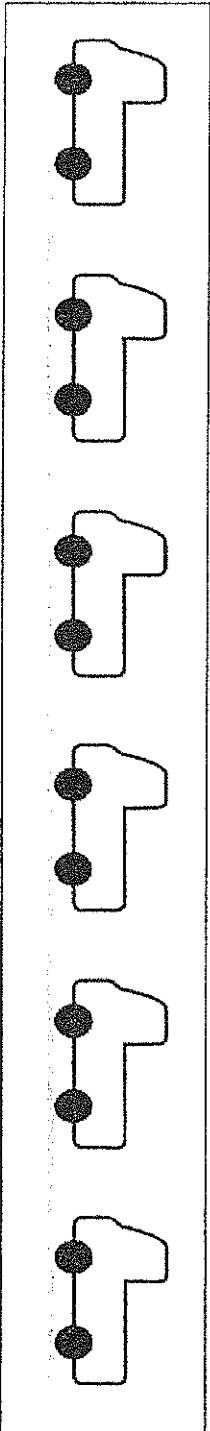
⑤ たかしくんは くわがたを
4ひき もっています。
2ひき ともだちにもらいました。
たかしくんの くわがたは
なんびきになりましたか。(20)
しき

こたえ

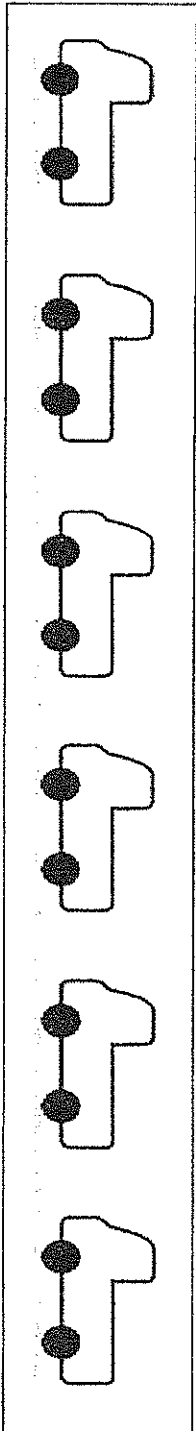


2	なんぼんめ	年	組	番
		なまえ		


① まえから 5だいめを ○で かこみましょう。



② うしろから 3だいを まるで かこみましょう。



③ えをみて □に かざや ことばを いれましょう。



○ みぎから 4ばんめは

です。

○ ホチキスは ひだりから

ばんめで みぎから

ばんめです。

2	なんぼんめ		年	組	番
			なまえ		

- ① つぎの ひらがなの ひょうをみて □の なかに あてはまる ひらがなを 入れ
 ましょう。

あ	い	う	え	お
か	き	く	け	こ
さ	し	す	せ	そ
た	ち	つ	て	と
な	に	ぬ	ね	の

- (1) うえから 3ばんめ ひだりから
 2ばんめの ひらがなは なん
 でしょう。

- ② したから 4ばんめ みぎから 3ばんめの ひらがなは なんでしょう。

- ③ 「ち」は どのように あらわせるでしょう。たとえば

うえから 4ばんめ ひだりから 2ばんめ というように ほかの あらわしかた
 を 2つ かきましよう。

「ち」は	から	ばんめ	から	ばんめ
------	----	-----	----	-----

「ち」は	から	ばんめ	から	ばんめ
------	----	-----	----	-----

9/2 (もく)

☆あかい とり ことり

なまえ

あかい とり ことり

あかい とり、ことり、

なぜ なぜ あかい。

あかい みを たべた。

しろい とり、ことり、


なぜ なぜ しろい。

しろい みを たべた。

あおい とり、ことり、

なぜ なぜ あおい。

あおい みを たべた。



うえの しを よんで ことえましょう。

(1) なにいろの とりが いますか。

とり

とり

とり

(2) この しは いくつに わかれてい ますか。

(3) あかい とりは なぜ あかいので すか。

(4) しろい とりは なぜ しろいので すか。

(5) あおい とりは なぜ あおいので すか。

(6) もし きいろの とりになろうと すれば、どうすれば いいですか。

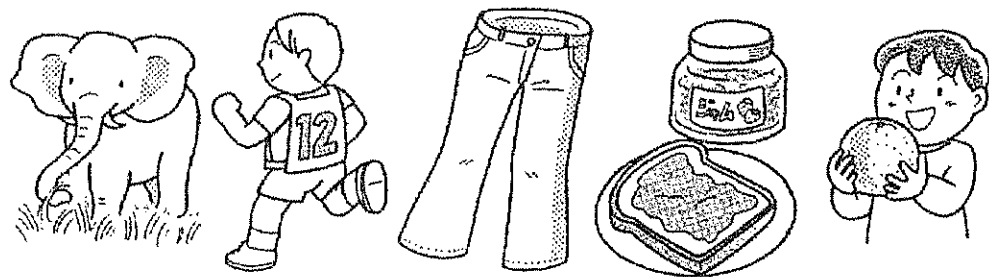
(7) ① あなたは どんな いろの とり が すきですか。

② すきな いろを いれて、 しを つくりましょう。


なぜ なぜ

とり、ことり、


みを たべた。




なまえ



なまえ





なまえ

14	クリーニングカンガルーゼリー
13	きゅうじょうちゅうしんいきゅう
12	おちやぎとせんひやく
11	はらっぱとてきんぷ
10	すうじおうえんどうろ
9	けがあいだはがき
8	となりあしたなまえ
7	メロニテレトニネル
6	べんきょうほうちようきようだい
5	おもちやじやがいもでんしゃ
4	しほきつてがつき
3	ようかくくつきかくろ
2	おじさんあいずがばん
1	かくろけしきかたち

28	サンボイトツチトニネルレモン
27	まんじゅうしゃしよきょうぎ
26	二人にやくりようくじやく
25	もつきんまのやねひし
24	ろうかとうもろこしおじいさん
23	はしにやぶとんおとしま
22	かくろのさつまいも
21	ミニマラソンスケート
20	きょうみようじぎょうれつ
19	かぼちやじよしちよきん
18	しほきつていびき
17	ぞうにうていうんどうかい
16	こはんながれほしほめん
15	かいものりすいか

片() 物長() 物() 俵() 長() 濁() 濁()

35	ホットケーキロケットジャングル
34	ひょうたんちゅうがくせいけんきゅう
33	じゅうばんおうじよおたまじやくし
32	おことせいなつとうねしん
31	ぞうきんぼうとうてんどうおし
30	すずめみつばちがいく
29	りすくすりはかせ

片() 物長() 物() 俵() 長() 濁() 濁()

テキスト②の合計

テキスト①と②の合計


ことばのかんづめ

①

日づけ

名まえ

おだいにあう ことばを あつめて、 つめこみましよう。



※たてがきでも、よこがきでもいいです。
※あきマスができてかまいません。

できたら
なぞろう




ことばのかんづめ

②

日づけ

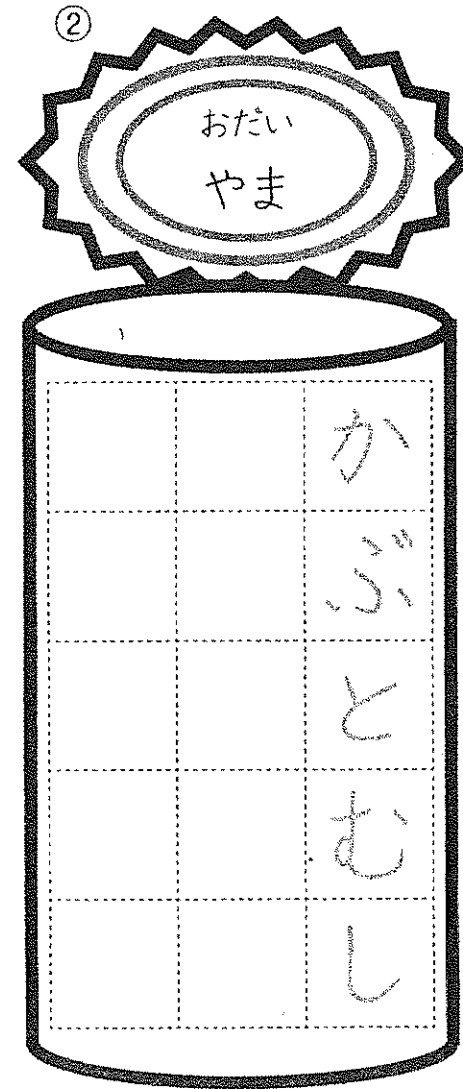
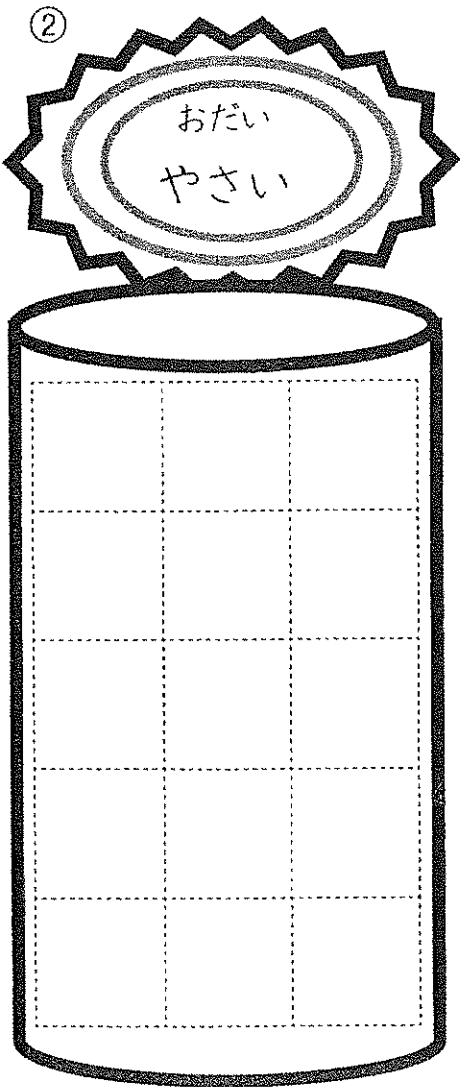
名まえ

おだいにあう ことばを あつめて、 つめこみましよう。



※たてがきでも、よこがきでもいいです。
※あきマスができてかまいません。

できたら
なぞろう



※たてがきでも、よこがきでもいいです。
※あきマスができてかまいません。

10までの
たしざん・ひきざん

なまえ

まとめテスト (2) 表現・処理

□ たしざんを
しましよう。(2×25)

① 5+2 = ② 3+6 =

③ 1+8 = ④ 7+0 =

⑤ 3+7 = ⑥ 5+5 =

⑦ 4+4 = ⑧ 6+2 =

⑨ 9+1 = ⑩ 0+6 =

⑪ 4+5 = ⑫ 8+1 =

⑬ 3+3 = ⑭ 2+7 =

⑮ 4+2 = ⑯ 6+3 =

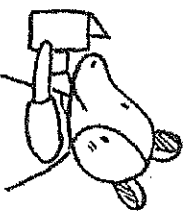
⑰ 9+0 = ⑱ 8+2 =

⑲ 3+4 = ⑳ 5+3 =

㉑ 2+8 = ㉒ 7+3 =

㉓ 1+9 = ㉔ 2+4 =

㉕ 4+3 =



□ ひきざんを
しましよう。(2×25)

① 10-8 = ② 9-2 =

③ 8-1 = ④ 7-7 =

⑤ 6-3 = ⑥ 10-6 =

⑦ 8-0 = ⑧ 7-3 =

⑨ 6-2 = ⑩ 10-4 =

⑪ 8-8 = ⑫ 6-5 =

⑬ 10-2 = ⑭ 9-4 =

⑮ 7-5 = ⑯ 8-6 =

⑰ 9-1 = ⑱ 7-0 =

⑲ 8-2 = ⑳ 10-7 =

㉑ 7-4 = ㉒ 9-8 =

㉓ 9-7 = ㉔ 8-4 =

㉕ 10-3 =



10までのたしざん・ひきざん

なまえ

まとめテスト(2) 考

□ちゅうしゃじょうにくるまが
4だい とまっています。
ちゅうしゃじょうにくるまが
3だい はいってきました。
くるまはなんだいになりましたか。
(20)
しき

こたえ

□ばななが 9ほん ありました。
おさるが 4ほん たべました。
ばななは なんぼん のこつて
いますか。(20)
しき

こたえ

□おみせであさにめろんが5こ、
ひるから 3こ うれました。
みんなで なんこ うれましたか。
(20)
しき


こたえ

□さかなつりを しました。
あかい さかなが 2ひき、くろい
さかなが 6ひき つれました。
ぜんぶで なんびき つれましたか。
(20)
しき

こたえ

□にわとりがにわに7わいます。
4わ すにかえりました。
にわに なんわ のこつて
いますか。(20)
しき

こたえ



いくらといくら


なまえ

9/2 (㊦)

知識理解


□ □ に あてはまる かずを かきましょう。(5×4)

①




6 は 2 と

②



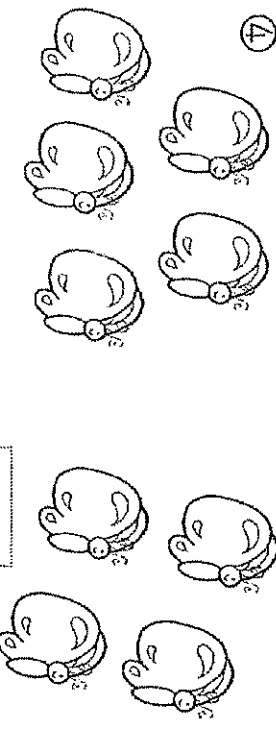
7 は 4 と

③



8 は 3 と

④



9 は 5 と

□ □ に あてはまる かずを かきましょう。(5×6)

① 5 は ●●●○○○○ ② 6 は ●●●●●○

2 と 5 と

③ 7 は ●●●○○○○○ ④ 8 は ●●●●●○○○

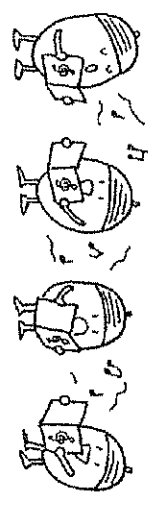
3 と 6 と

⑤ 9 は ●●●●●●○○○

7 と

⑥ 10 は ●●●●○○○○○○○

4 と




さきが

するどく とがった

くちばしです。

これは、なんの

くちばしでしょう。



これは、きつつきの

くちばしです。


きつつきは、

とがった くちばしで、

きに あなを あけます。

そして、きの なかに

いる むしを たべます。



うその ぶんを よんで こたえましょう。

(1) きつつきの くちばしは、どんな くちばしでしょう。 (10×2)

() が するどく ()
くちばし

(2) きつつきは、とがった くちばしで なにを しますか。 (10×2)

() に () をあける。



(3) きつつきは、きに あなを あけて なにを しますか。 (10×3)

() の なかに いる ()。



() を ()。

(4) もし きつつきの ような くちばしがあったら、あなたは どのようなことを したいですか。 (15)


(5) きつつきの くちばしの えを か きましょう。 (15)




なまえ



なまえ



① イオリン



② ベッド



③ うさぎ



④ テレビ






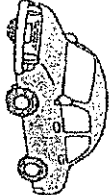
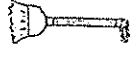

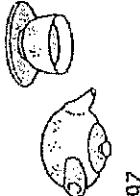





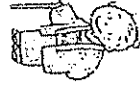



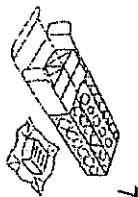

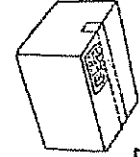
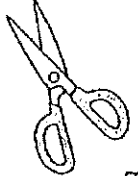










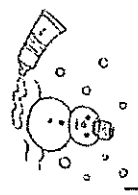
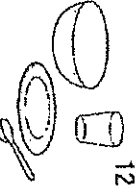


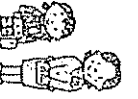







⑤ ケーキ



⑥

2-2

1		いるか	いるか	29		えんそく えんそく えんそく	28		チヤキ チキキ チヨキ
2		だくら らくた らくた	だくら らくた らくた	30		げんぎ げんぎ げんぎ	27		じしや じしや じしや
3		ほうき ほおき ほきち	ほうき ほおき ほきち	31		おおえん おえん おうえん	26		ちちや ちちや ちちや
4		はらば はらば はらば	はらば はらば はらば	32		しほ しほ しほ	25		いびき いびき いびき
5		じてんしゃ じてんしゃ じてんしゃ	じてんしゃ じてんしゃ じてんしゃ	33		ひやく ひやく ひやく	24		おあはさん おはあさん おばあさん
6		ぎようにゆう ぎゆにゆ ぎゆうにゆう	ぎようにゆう ぎゆにゆ ぎゆうにゆう	34		きゆうそう きゆうそう きゆうそう	23		からだ からだ からだ
7		キヨラムル キナラムル キナムラル	キヨラムル キナラムル キナムラル	35		コアラ コアラ コアラ	22		にもし いもつ にもつ
8		はたみ はちみ はさみ	はたみ はちみ はさみ	29		えんそく えんそく えんそく	21		ホクイタ ホラクイ ホクタイ
9		とんぼ とんぼ とんぼ	とんぼ とんぼ とんぼ	30		げんぎ げんぎ げんぎ	20		いしけんめい いしけんめい いしけんめい
10		こりり こおい こおり	こりり こおい こおり	31		おおえん おえん おうえん	19		ちやきん ちちん ちよきん
11		はは はは はは	はは はは はは	32		しほ しほ しほ	18		まつろ まつろ まつろ
12		しよき しよき しよき	しよき しよき しよき	33		ひやく ひやく ひやく	17		くしほ くしほ くしほ
13		にゆうかく にゆうかく にゆうかく	にゆうかく にゆうかく にゆうかく	34		きゆうそう きゆうそう きゆうそう	16		じかん じかん じかん
14		ビスケット ビスケット ビスケット	ビスケット ビスケット ビスケット	35		コアラ コアラ コアラ	15		たご たご たご

片 () 物長 () 物 () 促 () 長 () 濁 () 濁 ()

テスト①の合計

ことばのかんづめ

③

日づけ

/



名まえ

できたら
なぞろう



おだいにあう ことばを あつめて、 つめこみましょう。

※たてがきでも、よこがきでもいいです。
※あきマスができてかまいません。



ことばのかんづめ

④

日づけ

/



名まえ

できたら
なぞろう



おだいにあう ことばを あつめて、 つめこみましょう。

※たてがきでも、よこがきでもいいです。
※あきマスができてかまいません。



がまえ

10までのたしざん・ひきざん

まどめテスト(3) 考

①ともだち 4にんでてつぼうを
していました。そこへ 3にん
やってきました。みんなて
なんにんに なつたでしょう。
(20)
しき

こたえ

②ゆうきく人は かぶとむしを
7ひき もつていました。
ともだちに 3ひきあげました。
ゆうきくのかぶとむしは
なんひきになりましたか。(20)
しき

こたえ

③どうぶつえんに そらが
6とういます。きり人は 9とう
います。きり人が なんとう
おおいでしょうか。(20)
しき

こたえ

④あかい あさがおが 3こ、
あおい あさがおが 5こ
さきました。みんなて なんこ
さきましたか。(20)
しき

こたえ

⑤おりがみを 8まい もつて
いました。7まいつかいました。
おりがみは なんまい のこつて
いますか。(20)
しき

こたえ



10までのたしざん・ひきざん

なまえ

まとめテスト(4) 考

□ ゆきさんはおりがみを 4まいもっています。ねえさんに 3まい もらいました。ゆきさんの おりがみは なんまいになりましたか。(20)

しき

こたえ

□ おもちやの くるまが 2だい、でんしゃが 6だい あります。でんしゃが なんだい おおいでしょう。(20)

しき

こたえ

□ リすが 9ひき います。8ひき すにかえりました。のこりは なんびきでしょう。(20)

しき

こたえ

□ あかい はなが 5こ しろい はなが 4こ きました。みんなで なんこ きましたか。(20)

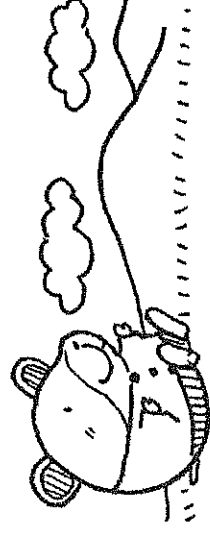
しき

こたえ

□ おとこのこが 3にん おんなのこが 7にん あそんでいます。おんなのこが なんにん います。おんなのこが なんにん おおいでしょう。(20)

しき

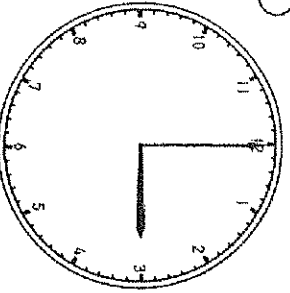
こたえ

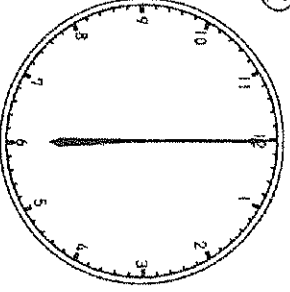


なんじなんじはん

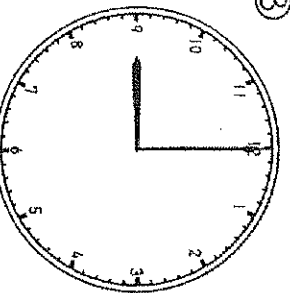
知識理解

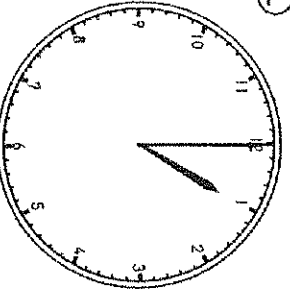
□ とけいの はりを よみましょう。
(5 × 10)

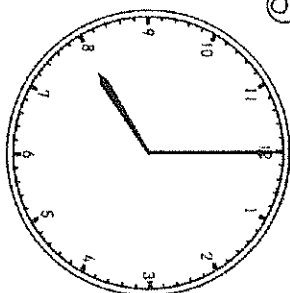
①  (じ)

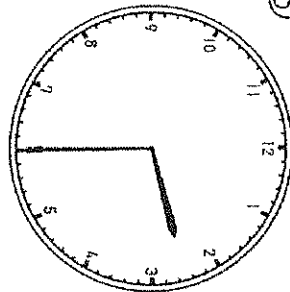
②  (じ)




③  (じ)


④  (じ)


⑤  (じ)

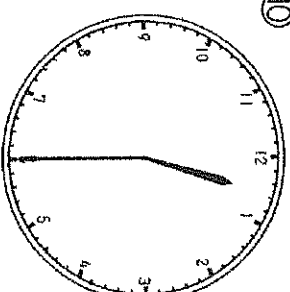
⑥  (じ)



⑦  (じ)

⑧  (じ)

⑨  (じ)

⑩  (じ)

なまえ

技能

□ とけいの はりを かきましょう。
(5 × 10)

① 4じ

② 7じ



③ 2じ


④ 10じ

⑤ 12じ

⑥ 2じはん

⑦ 3じはん

⑧ 6じはん



⑨ 5じはん

⑩ 11じはん

なんじなんじはん

なまえ


考え方(表現)

● ①～⑤にあうじこくをせんでむすびましょう。
また、とけいもよみましょう。(5×10)


① あさ おきる




② きゆうしよく



③ おやつをたべる



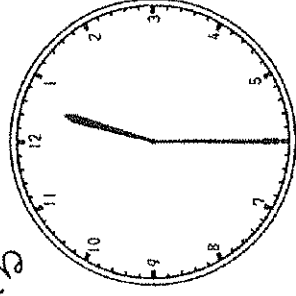
④ おふろにはいる



⑤ よる ねる

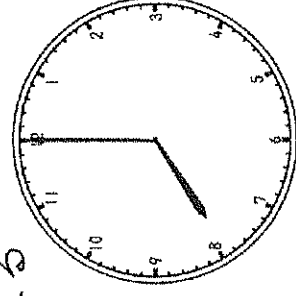


ひる



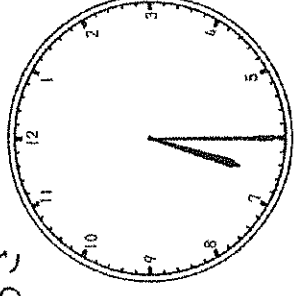
(じ)

よる



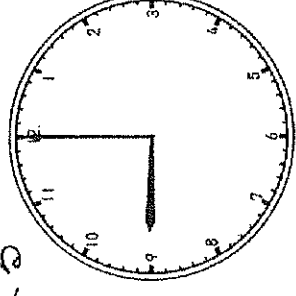
(じ)

あさ



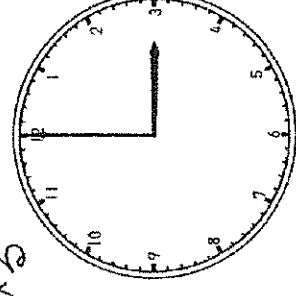
(じ)

よる



(じ)

ひる



(じ)

10までの
たしざん・ひきざん
まとめテスト(1) 表現・処理

なまえ
こたえ

① たしざんを しましょう。(2×25)

- ① $2+6=8$
- ③ $7+1=8$
- ⑤ $6+0=6$
- ⑦ $1+9=10$
- ⑨ $6+1=7$
- ⑪ $1+7=8$
- ⑬ $0+8=8$
- ⑮ $1+5=6$
- ⑰ $3+4=7$
- ⑲ $3+5=8$
- ⑳ $4+6=10$
- ㉒ $7+3=10$
- ㉔ $2+5=7$
- ㉖ $5+4=9$



② ひきざんを しましょう。(2×25)

- ① $9-6=3$
- ③ $10-1=9$
- ⑤ $9-3=6$
- ⑦ $7-6=1$
- ⑨ $6-4=2$
- ⑪ $10-9=1$
- ⑬ $9-8=1$
- ⑮ $10-7=3$
- ⑰ $7-4=3$
- ⑲ $9-9=0$
- ㉒ $8-7=1$
- ㉔ $10-3=7$
- ㉖ $9-7=2$



10までのたしざん・ひきざん
まとめテスト(1) 考

なまえ
こたえ

① みかんを10こかってきました。
7こ たべてしまいました。
みかんはなんこのこって
いますか。(20)

しき $10-7=3$

こたえ 3こ

② いもほりをしました。
けいたくんは 5こ、えりさんは
4こ ほりました。ふたりで
なんこ いもを ほりましたか。(20)

しき $5+4=9$

こたえ 9こ

③ さかなを 8ひき つりました。
ちいさい さかなが 3ひき
いたので にかして やりました。
さかなはなんびきになりましたか。(20)

しき $8-3=5$

こたえ 5ひき

④ よるの そらに ほしが 9こ
ひかっています。3こ くもで
かくれました。みえている
ほしは なんこですか。(20)

しき $9-3=6$

こたえ 6こ

⑤ たかしくんは くわがたを
4ひき もっています。
2ひき ともだちにもらいました。
たかしくんの くわがたは
なんびきになりましたか。(20)

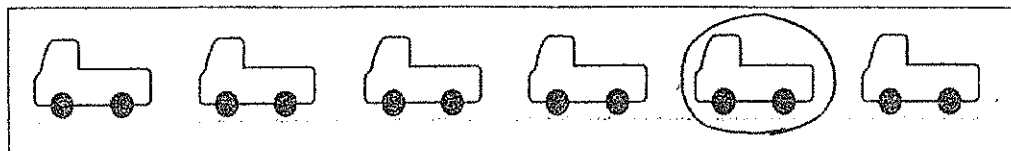
しき $4+2=6$

こたえ 6ひき

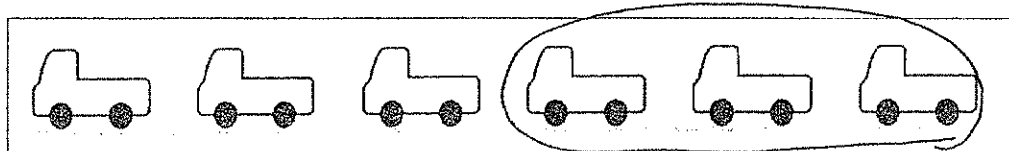


2	なんぼんめ	年 組 番	5問
		なまえ <u>こたえ</u>	

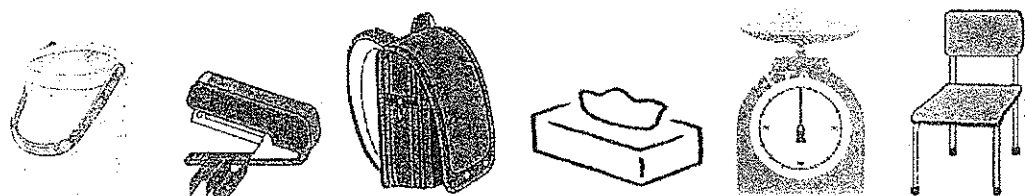
① まえから 5だいを ○で かこみましょう。



② うしろから 3だいを まるで かこみましょう。



③ えをみて □に かずや ことばを いれましょう。



○ みぎから 4ばんめは ランドセル です。


○ ホチキスは ひだりから 2 ばんめで みぎから 5 ばんめです。

2	なんぼんめ	年 組 番	6問
		なまえ <u>こたえ</u>	

① つぎの ひらがなの ひょうをみて □の なかに あてはまる ひらがなを いれましょう。

あ	い	う	え	お
か	き	く	け	こ
さ	し	す	せ	そ
た	ち	つ	て	と
な	に	ぬ	ね	の

(1) うえから 3ばんめ ひだりから 2ばんめの ひらがなは なんでしょう。



② したから 4ばんめ みぎから 3ばんめの ひらがなは なんでしょう。



③ 「ち」は どのように あらわせるでしょう。たとえば

うえから 4ばんめ ひだりから 2ばんめ というように ほかの あらわしかたを 2つ かきましょう。

「ち」は した から 3 ばんめ ひだり から 2 ばんめ

「ち」は うえ から 4 ばんめ みぎ から 4 ばんめ

10までの
たしざん・ひきざん
まとめテスト(2) 表現・処理

な
ま
え

こたえ

① たしざんを しましょう。(2×25)

① $5+2=7$ ② $3+6=9$

③ $1+8=9$ ④ $7+0=7$

⑤ $3+7=10$ ⑥ $5+5=10$

⑦ $4+4=8$ ⑧ $6+2=8$

⑨ $9+1=10$ ⑩ $0+6=6$

⑪ $4+5=9$ ⑫ $8+1=9$

⑬ $3+3=6$ ⑭ $2+7=9$

⑮ $4+2=6$ ⑯ $6+3=9$

⑰ $9+0=9$ ⑱ $8+2=10$

⑲ $3+4=7$ ⑳ $5+3=8$

㉑ $2+8=10$ ㉒ $7+3=10$

㉓ $1+9=10$ ㉔ $2+4=6$

㉕ $4+3=7$



② ひきざんを しましょう。(2×25)

① $10-8=2$ ② $9-2=7$

③ $8-1=7$ ④ $7-7=0$

⑤ $6-3=3$ ⑥ $10-6=4$

⑦ $8-0=8$ ⑧ $7-3=4$

⑨ $6-2=4$ ⑩ $10-4=6$

⑪ $8-8=0$ ⑫ $6-5=1$

⑬ $10-2=8$ ⑭ $9-4=5$

⑮ $7-5=2$ ⑯ $8-6=2$

⑰ $9-1=8$ ⑱ $7-0=7$

⑲ $8-2=6$ ⑳ $10-7=3$

㉑ $7-4=3$ ㉒ $9-8=1$

㉓ $9-7=2$ ㉔ $8-4=4$

㉕ $10-3=7$



10までのたしざん・ひきざん
まとめテスト(2) 考

な
ま
え

こたえ

① ちゅうしゃじょうにくるまが
4だい とまっています。
ちゅうしゃじょうにくるまが
3だい はいってきました。
くるまはなんだいになりましたか。
しき $4+3=7$

こたえ 7だい

② ばななが 9ほん ありました。
おさるが 4ほん たべました。
ばななは なんほん のこって
いますか。(20)
しき $9-4=5$

こたえ 5ほん

③ おみせであさにめろんが 5こ、
ひるから 3こ うれました。
みんなで なんこ うれましたか。
しき $5+3=8$

こたえ 8こ

④ さかなつりを しました。
あかい さかなが 2ひき、くろい
さかなが 6ひき つれました。
ぜんぶでなんびき つれましたか。
しき $2+6=8$

こたえ 8ひき

⑤ にわとりが にわに 7わ います。
4わ すに かえりました。
にわに なんわ のこって
いますか。(20)
しき $7-4=3$

こたえ 3わ





いくつといくつ


なまえ こたえ

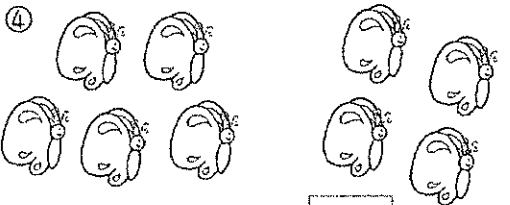
知識理解

□ □に あてはまる かずを かきましょう。(5×4)

①  6は 2 × 4

②  7は 4 × 3

③  8は 3 × 5

④  9は 5 × 4

□ □に あてはまる かずを かきましょう。(5×6)

① 5は ● ● ○ ○ ○ ○
2 × 3


② 6は ● ● ● ● ● ○
5 × 1

③ 7は ● ● ● ○ ○ ○ ○ ○
3 × 4

④ 8は ● ● ● ● ● ● ○ ○
6 × 2

⑤ 9は ● ● ● ● ● ● ○ ○
7 × 2

⑥ 10は ● ● ● ● ○ ○ ○ ○ ○ ○
4 × 6

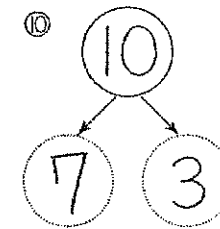
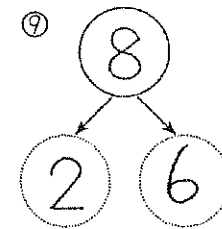
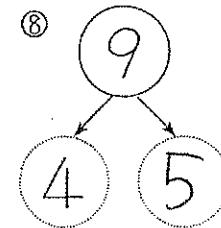
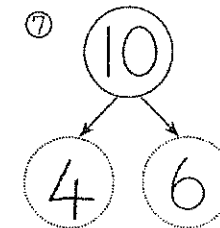
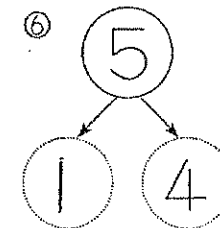
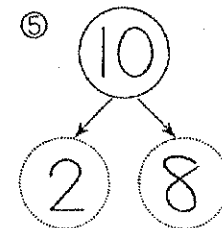
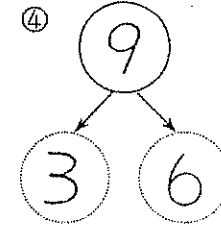
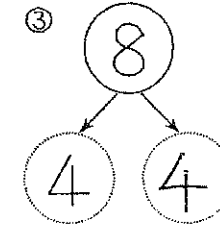
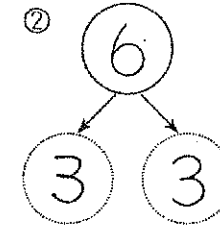
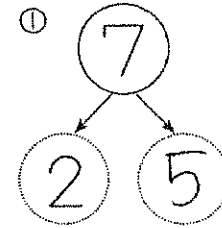


いくつといくつ

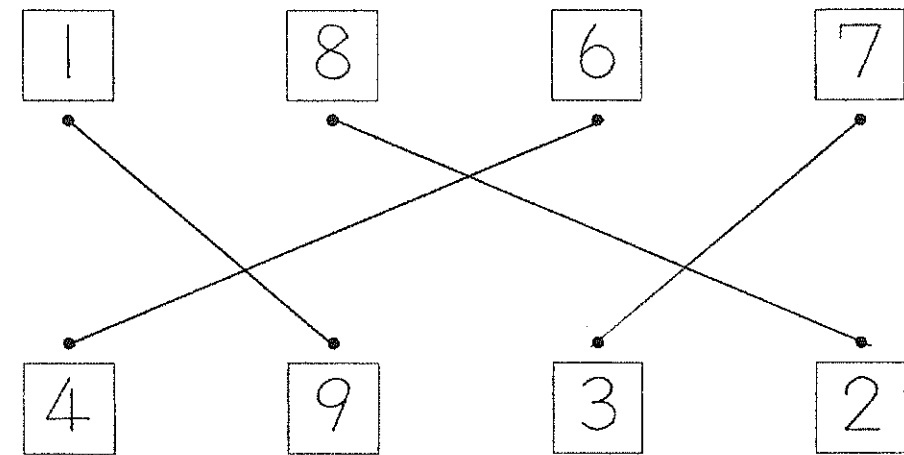
なまえ こたえ

技能

□ ○に あてはまる かずを かきましょう。(3×10)



□ ○に あてはまる かずを かきましょう。(5×4)



10までのたしざん・ひきざん

まとめテスト(3) 考

なまえ

こたえ

①ともだち 4にんで てつぼうを
していました。そこへ 3にん
やってきました。みんなで
なんにんになったでしょう。
しき $4+3=7$ (20)

こたえ 7にん

②ゆうきくんは かぶとむしを
7ひき もっていました。
ともだちに 3ひき あげました。
ゆうきくんの かぶとむしは
なんひきになりましたか。(20)
しき $7-3=4$

こたえ 4ひき

③どうぶつえんに ぞうが
6とう います。きりんは 9とう
います。きりんが なんと
う おおいでしょう。(20)
しき $9-6=3$

こたえ 3とう

④あかい あさがおが 3こ、
あおい あさがおが 5こ
さきました。みんなで なんこ
さきましたか。(20)
しき $3+5=8$

こたえ 8こ

⑤おりがみを 8まい もって
いました。7まいつかいました。
おりがみは なんまい のこって
いますか。(20)
しき $8-7=1$

こたえ 1まい



10までのたしざん・ひきざん

まとめテスト(4) 考

なまえ

こたえ

①ゆきさんは おりがみを 4まい
もっています。ねえさんに
3まい もらいました。
ゆきさんの おりがみは
なんまいになりましたか。(20)
しき $4+3=7$

こたえ 7まい

②おもちゃの くるまが 2だい、
でんしゃが 6だい あります。
でんしゃが なんだい おおいでしょう。
(20)
しき $6-2=4$

こたえ 4だい おおい

③りすが 9ひき います。
8ひき すにかえりました。
のこりは なんひきでしょう。(20)
しき $9-8=1$

こたえ 1ひき

④あかい はなが 5こ
しろい はなが 4こ さきました。
みんなで なんこ さきましたか。
(20)

しき $5+4=9$

こたえ 9こ

⑤おとこのこが 3にん
おんなのこが 7にん あそんで
います。おんなのこが なんにん
おおいでしょう。(20)

しき $7-3=4$

こたえ 4にん おおい



なんじ なんじはん

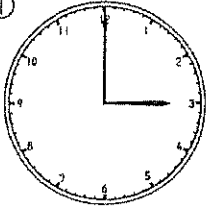
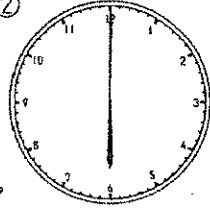
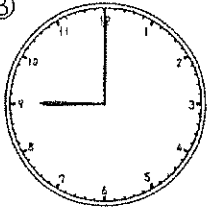





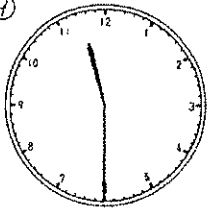
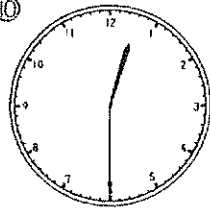
なまえ

こたえ

1/3
(きん)

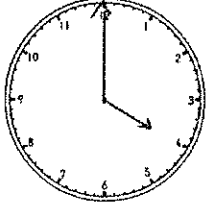
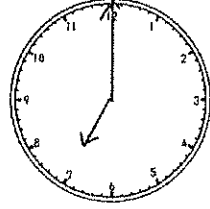

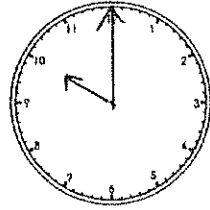
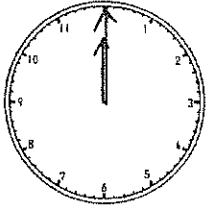
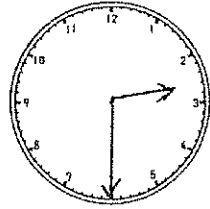
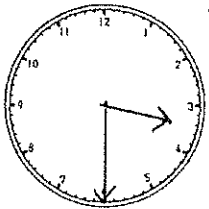
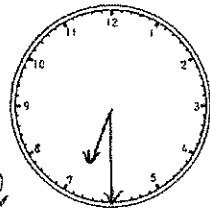

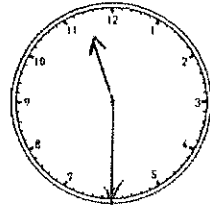
知識理解

□ とけいの はりを よみましょう。(5×10)

①  (3じ)	②  (6じ)
③  (9じ)	④  (1じ)
⑤  (8じ)	⑥  (2じはん)
⑦  (10じはん)	⑧  (4じはん)
⑨  (11じはん)	⑩  (12じはん)

技能

□ とけいの はりを かきましょう。(5×10)

① 4じ 	② 7じ 
③ 2じ 	④ 10じ 
⑤ 12じ 	⑥ 2じはん 
⑦ 3じはん 	⑧ 6じはん 
⑨ 5じはん 	⑩ 11じはん 

なんじ なんじはん


なまえ

こたえ


考え方(表現)

● ①~⑤にあうじこくを せんで むすびましょう。
また、とけいも よみましょう。(5×10)

① あさ おきる




② きゅうしょく




③ おやつを たべる

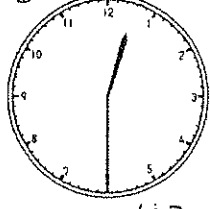

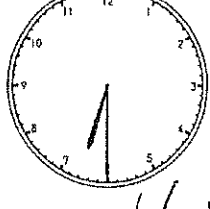
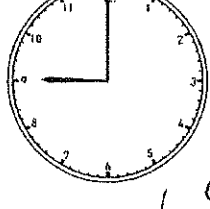
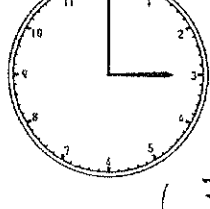


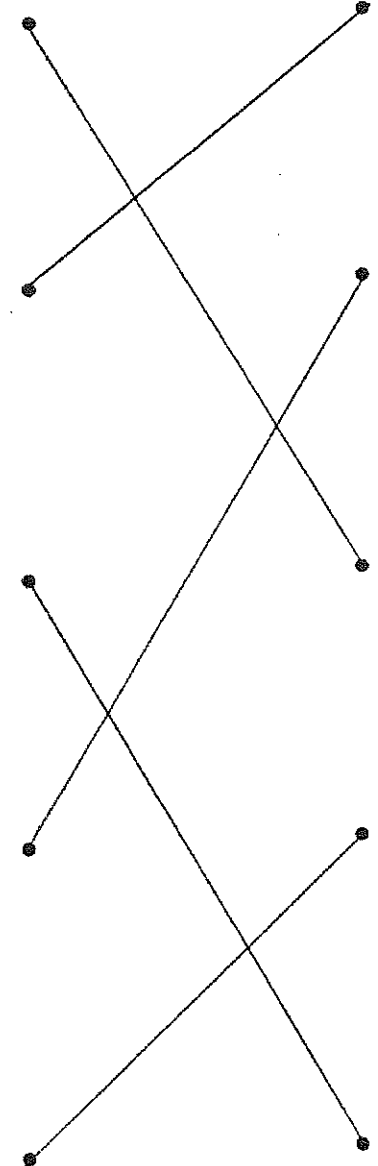
④ おふろに はいる



⑤ よる ねる



ひる  (12じはん)
よる  (8じ)
あさ  (6じはん)
よる  (9じ)
ひる  (3じ)






あかい とり ニトリ
 あかい とり ニトリ
 なせ なせ あかい
 なせ なせ しんい
 しんい ついで
 あかい ついで
 あかい ついで
 しんい ついで
 しんい ついで
 あかい ついで
 あかい ついで
 あかい ついで

☆ あかい とり ニトリ
 2/9 (ちく)
 なまえ

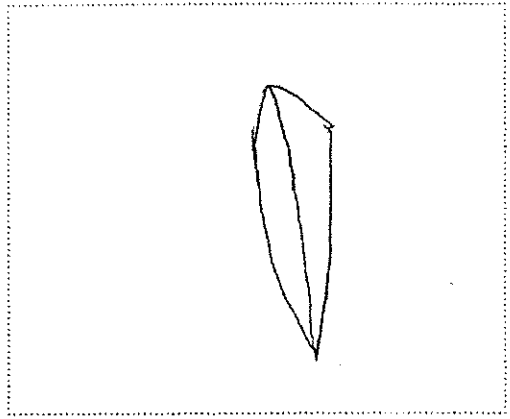
① だいたい あかい ついで
 ② この あかい ついで
 ③ あかい ついで
 ④ あかい ついで
 ⑤ あかい ついで
 ⑥ あかい ついで
 ⑦ あかい ついで
 ⑧ あかい ついで
 ⑨ あかい ついで
 ⑩ あかい ついで



ちきか
 するどく とがった
 これは なんの
 とがった ちきか
 これは なんの
 とがった ちきか
 これは なんの
 とがった ちきか



2/3 (ちん)
 とがった
 なまえ



① あかい ついで
 ② あかい ついで
 ③ あかい ついで
 ④ あかい ついで
 ⑤ あかい ついで
 ⑥ あかい ついで
 ⑦ あかい ついで
 ⑧ あかい ついで
 ⑨ あかい ついで
 ⑩ あかい ついで

2/3 (ちん)
 とがった
 なまえ

