

きゅうこうちゅうのしゅくだい

9/6 (月) ^{げつ} ~ 9/10 (金) ^{きん}

なまえ

☆とりくむひづけがかいてあります。そのひのぶんだけやりましょう。

☆こくごのいちぶと、さんすうはこたえがあります。こたえはみないでじぶんのちからでとりくみましょう。

☆おわったらみなおしをして、おうちのひとに〇つけをしてもらいましょう。

☆^{くがつ}9月^{にち}13日^{びつ} (月)、がっこうにもってきます。





はなの みち

9/6 (げつ)

なまえ

くまさんが、

ふくろを みつけました。

「おや、なにかな。」

いっぱい

はいつて いる。」

くまさんが、

ともだちの

りすさんに、

ききに いきました。

くまさんが、

ふくろを あけました。

なにも ありません。

「しまった。」

あなが あいて いた。」

あたたかい かぜが



ふきはじめました。

ながい ながい、

はなの

いっぽんみちが

できました。



うえの ぶんを よんで こたえましょう。

(1) ふくろを みつけたのは、だれですか。 (10)

(2) くまさんは、りすさんの ところへ なにを ききに いったのですか。 (10)

(3) 「しまった。」と いったのは だれですか。 (10)

(4) どうして「しまった。」と いったのでしょうか。 (10)

(5) どうして ふくろに なにも な かったのですか。 (10×2) () が あいて いたから。

(6) はなの いっぽんみちは、どうして できたのでしょうか。 (10×3)

() が () の () を こぼしたから できた。

レベル41

2-4

はじめ

9/6
(げん)

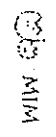
14	チーホルガンヨット
13	べんきようしようほうしやはびよう
12	せんしゆおもちやかぼちや
11	おにこはらげせけん
10	ゆやけいとそうだん
9	すずじこくばん
8	ひまわりわにすいか
7	ケチアツアピナツアニメ
6	がつきゆうかくしゆうしようぶ
5	しゃしんでんしゃどくしよ
4	なつばぎつてがつき
3	しんこうてつほうおぞうに
2	えんびつびざぬいぐるみ
1	あさみせあひる
15	ひるねすみれくすり
16	はなびなぐじばん
17	たいそごんべいとくきぼう
18	がっこうまつくらはけん
19	じゃんけんになぎまひやく
20	きようかしまぎゆうにゆうみまじ
21	スープロボットボーナツ
22	てんきこしもやし
23	かんごめまはうて
24	おかあさんおわたにたいそう
25	いびきえにっきねこ
26	さんびやくきんぎよしやりん
27	がっこうしようほうちまうはくちまう
28	シーソーオレマジック
29	からすちくわいわ
30	じこくせいせんえのぐ
31	おねえさんひんぎぞう
32	ほつぺたかけこみこ
33	ちやいろしよくじおしやべり
34	かいじゆうびよういんきよう
35	ランドセルヨ一グルトカーテン

片() 物展() 物() 促() 展() 濁() 濁()

片() 物展() 物() 促() 展() 濁() 濁()

テキスト②の合計

テキスト①と②の合計





9/6 (げつ)

ひらがな?カタカナ?(1)
(くだものへん)

なまえ


☆下の「くだもの」を、ひらがなでかくものと、カタカナでかくもの
わけてみよう。()のかずだけあるよ。

もも 

みかん 

いちご 


めろん 


バナナ 


なし 

おれんじ


りんご 


ぶどう 


さくらんぼ 

ぱいなっぷる 

かき 

れもん 

すいか 

ぐれえぶふるうつ 

ひらがな(9)

Handwriting practice lines for hiragana.

カタカナ(6)

カタカナで
かいてね




Handwriting practice lines for katakana.


ひらがな?カタカナ?(2)
(やさいへん)

なまえ


☆下の「やさい」を、ひらがなでかくものと、カタカナでかくもの
わけてみよう。()のかずだけあるよ。


はくさい 

きゃべつ 


ぴいまん 


だいこん 


とうもろこし 

ねぎ 


ぶろっこりい


たまねぎ 


なす 


れたす 

にんじん 

じゃがいも 

とまと 

さつまいも 

かぼちゃ 

ひらがな(10)

Handwriting practice lines for hiragana.

カタカナ(5)

カタカナで
かいてね



Handwriting practice lines for katakana.

やってみよう



めいろあそび

9月6日



名まえ

1 花 まいごのぐりどんを 森の 出口まで つれていって あげましょう。

1



2



10までのたしざん

な
ま
え

① あかい いろがみが 8まい、
あおいいろがみが 1まい あります。
いろがみは あわせて なんまい
ありますか。 (20)
しき

こたえ

② きんぎよばちに きんぎよが 5ひき
います。そこへ 2ひき きんぎよを
いれました。きんぎよばちの きんぎよは
なんびきに なりましたか。
しき (20)

こたえ

③ すずめが きに 3わ とまっています。
そこへ 7わ とんできました。
みんなで なんわに なりましたか。
しき (20)

こたえ

④ あひるが いけに 4わ、きしに
4わ います。ぜんぶで なんわ いますか。
しき (20)

こたえ

⑤ くるまが 2だい あります。
1だいには 6にん もう1だいには
4にん のっています。あわせて
なんにんの ひとが くるまに のっていますか。
しき (20)

こたえ



10までのたしざん

な
ま
え

① しろい いぬが 2ひき、
ちやいろいぬが 7ひき います。
いぬは ぜんぶで なんびき
いますか。(20)
しき

こたえ

② えみさんは、いろがみを 5まい
もっています。おねえさんから
3まい もらいました。
ぜんぶで なんまいに なりましたか。
しき (20)

こたえ

③ ふねが 2そう いけに
うかんでいます。1そうには
4にん もう1そうには 3にん
のっています。あわせて
なんにん のっていますか。(20)
しき

こたえ

④ かごに みかんが 1こ ^{9/6}
はいつています。そこへ 9こ ^(げつ)
みかんを いれました。かごの
みかんは なんこに なりましたか。
しき (20)

こたえ

⑤ あさに いちごを 4こ
たべました。
ひるに 6こ たべました。
あわせて、なんこ たべましたか。
しき (20)

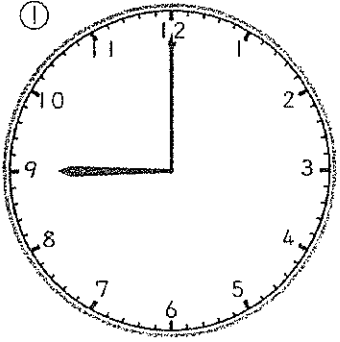
こたえ



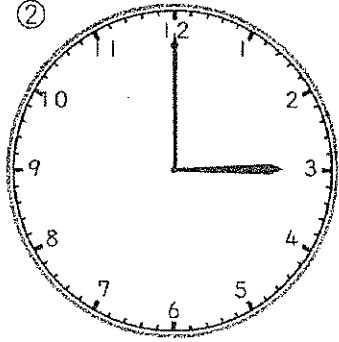
とけい

なまえ

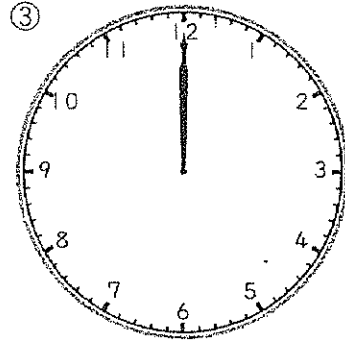
🕒 とけいの はりを よみましょう。



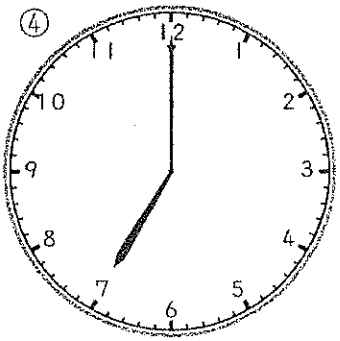
()じ



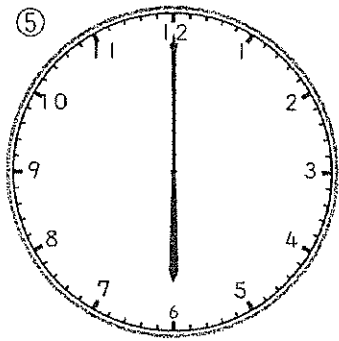
()じ



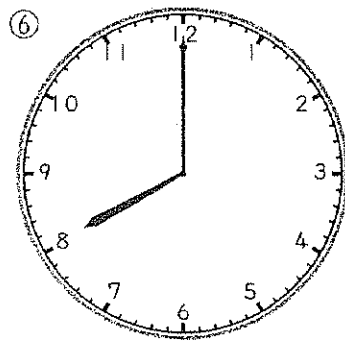
()じ



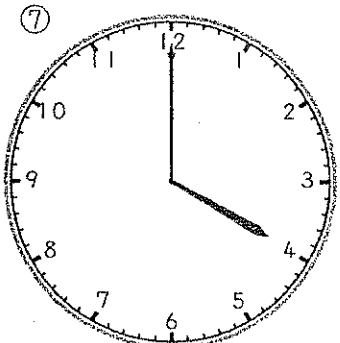
()じ



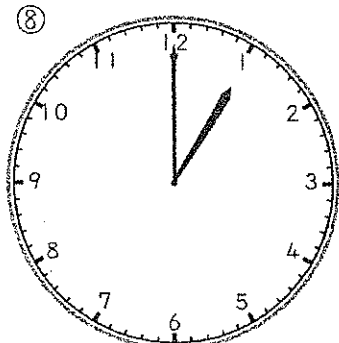
()じ



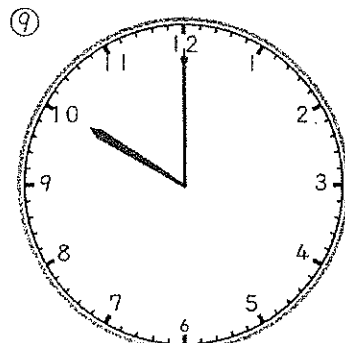
()じ



()じ



()じ



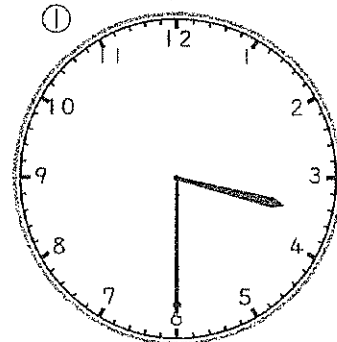
()じ

とけい

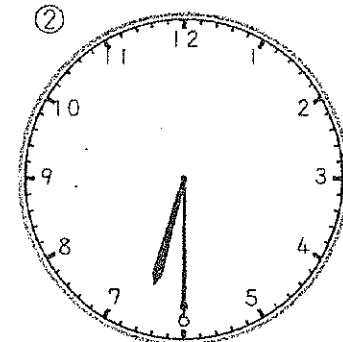
なまえ

🕒 とけいの はりを よみましょう。

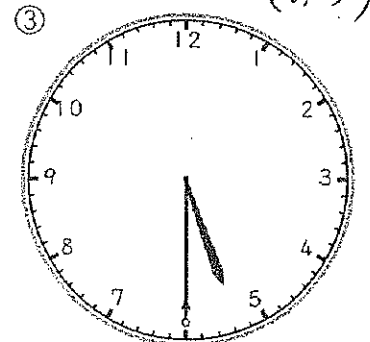
9/6
(けつ)



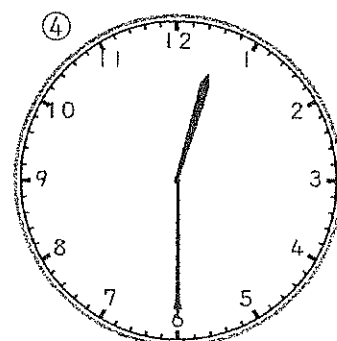
()じ(はん)



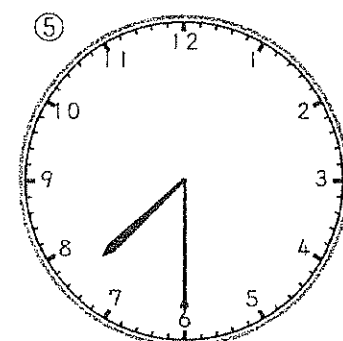
()じ()



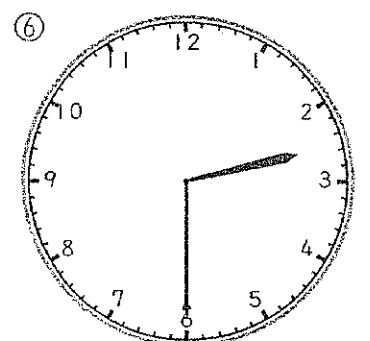
()じ()



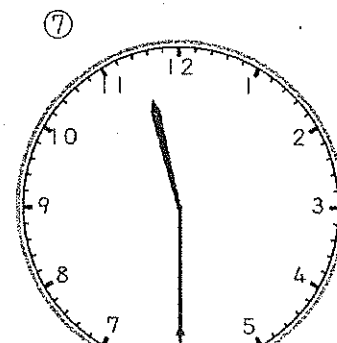
()じ()



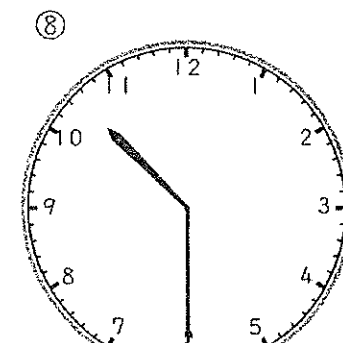
()じ()



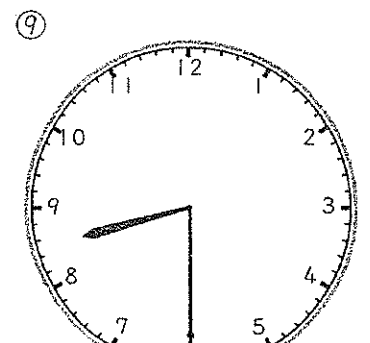
()じ()



()じ()



()じ()



()じ()

9までの
たしざん
(50もん)

11

なまえ



- ① $1 + 7 =$
- ② $4 + 3 =$
- ③ $1 + 4 =$
- ④ $3 + 3 =$
- ⑤ $2 + 5 =$
- ⑥ $3 + 4 =$
- ⑦ $3 + 6 =$
- ⑧ $2 + 3 =$
- ⑨ $2 + 4 =$
- ⑩ $3 + 6 =$
- ⑪ $2 + 4 =$
- ⑫ $4 + 1 =$
- ⑬ $2 + 1 =$
- ⑭ $5 + 2 =$
- ⑮ $1 + 2 =$
- ⑯ $3 + 2 =$
- ⑰ $6 + 2 =$

- ⑱ $4 + 2 =$
- ⑲ $3 + 1 =$
- ⑳ $3 + 6 =$
- ㉑ $3 + 5 =$
- ㉒ $5 + 1 =$
- ㉓ $4 + 4 =$
- ㉔ $3 + 4 =$
- ㉕ $4 + 4 =$
- ㉖ $4 + 3 =$
- ㉗ $5 + 4 =$
- ㉘ $1 + 1 =$
- ㉙ $7 + 2 =$
- ㉚ $4 + 5 =$
- ㉛ $2 + 6 =$
- ㉜ $2 + 7 =$
- ㉝ $8 + 1 =$
- ㉞ $3 + 5 =$

- ㉟ $1 + 3 =$
- ㊱ $4 + 2 =$
- ㊲ $6 + 1 =$
- ㊳ $3 + 4 =$
- ㊴ $5 + 3 =$
- ㊵ $1 + 8 =$
- ㊶ $2 + 7 =$
- ㊷ $4 + 5 =$
- ㊸ $1 + 5 =$
- ㊹ $7 + 2 =$
- ㊺ $3 + 3 =$
- ㊻ $2 + 7 =$
- ㊼ $1 + 6 =$
- ㊽ $6 + 3 =$
- ㊾ $2 + 2 =$
- ㊿ $6 + 3 =$

9までの
たしざん
(50もん)

12

なまえ



9/6
(げつ)

- ① $2 + 6 =$
- ② $3 + 4 =$
- ③ $2 + 6 =$
- ④ $1 + 4 =$
- ⑤ $2 + 7 =$
- ⑥ $3 + 5 =$
- ⑦ $1 + 6 =$
- ⑧ $5 + 3 =$
- ⑨ $3 + 4 =$
- ⑩ $1 + 8 =$
- ⑪ $3 + 6 =$
- ⑫ $2 + 7 =$
- ⑬ $3 + 4 =$
- ⑭ $1 + 7 =$
- ⑮ $2 + 4 =$
- ⑯ $6 + 2 =$
- ⑰ $1 + 2 =$


- ⑱ $5 + 1 =$
- ⑲ $4 + 2 =$
- ⑳ $6 + 3 =$
- ㉑ $8 + 1 =$
- ㉒ $2 + 4 =$
- ㉓ $5 + 4 =$
- ㉔ $3 + 6 =$
- ㉕ $2 + 3 =$
- ㉖ $2 + 2 =$
- ㉗ $6 + 1 =$
- ㉘ $4 + 5 =$
- ㉙ $1 + 1 =$
- ㉚ $2 + 4 =$
- ㉛ $4 + 4 =$
- ㉜ $3 + 2 =$
- ㉝ $3 + 3 =$
- ㉞ $7 + 2 =$

- ㉟ $4 + 3 =$
- ㊱ $2 + 5 =$
- ㊲ $3 + 3 =$
- ㊳ $3 + 1 =$
- ㊴ $4 + 3 =$
- ㊵ $1 + 5 =$
- ㊶ $4 + 4 =$
- ㊷ $4 + 5 =$
- ㊸ $5 + 2 =$
- ㊹ $1 + 3 =$
- ㊺ $3 + 3 =$
- ㊻ $7 + 1 =$
- ㊼ $4 + 1 =$
- ㊽ $6 + 3 =$
- ㊾ $2 + 1 =$
- ㊿ $7 + 2 =$

なかまあつめ


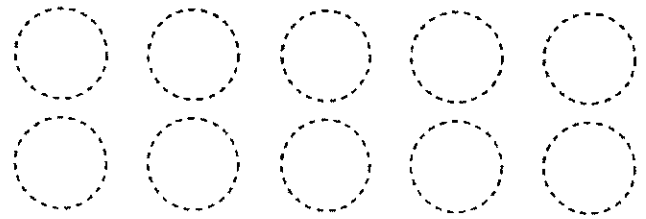




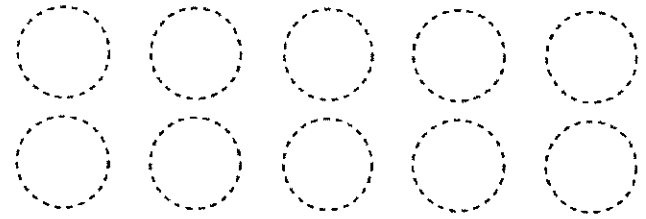

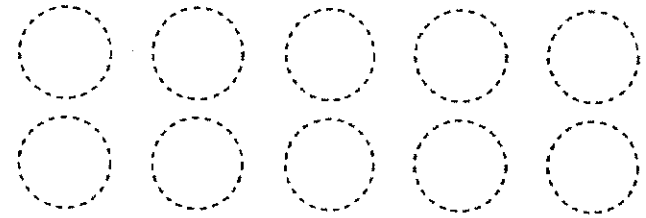
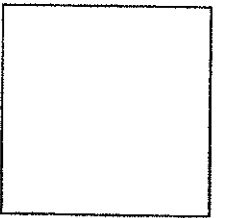
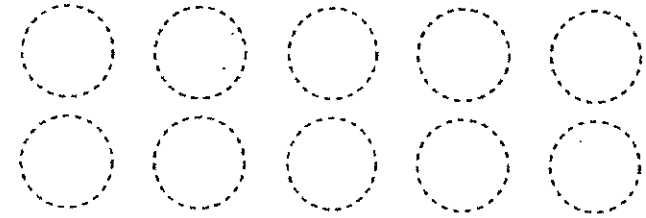
(10までのかず)

(1) おなじ なかまに おなじ いろを ぬりましょう。


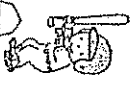

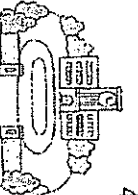


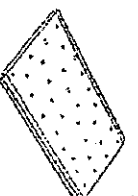











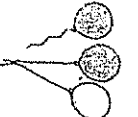





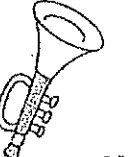


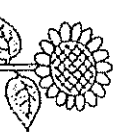
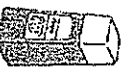





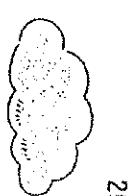


なまえ

(2) なかまの かずだけ ○に いろを ぬりましょう。 $\frac{9}{6}$
□に かずを かきましよう。 (げつ)



9/7
(か)

7	 ロボット	6	 やちゆう やきゆう やきゆう	5	 しゃじん しゅじん しゃじん	4	 がに がこう がこう	3	 けえと とけい けいと	2	 たんぼんぼ たんぼぼ たんぼぼ	1	 たむ たむ たむ
14	 ランドセル ランドセル	13	 ほうちょう ほおちょう ほうちょう	12	 とじょう としゃじょう とじょう	11	 なつば なつば なつば	10	 そおじ そうじ そじ	9	 らくがき らくがき らくがき	8	 ひりと いとり ひとり
21	 タムバリン タムバリン タムバリン	20	 しんきゆう しんきゆう しんきゆう	19	 しゃくだい しゅくだい しゅくだり	18	 かけこ かけこ かけこ	17	 ふうせん ふうせ ふうせん	16	 てしな てしな てしな	15	 かに かい かに
28	 ラジオ ラジオ ラジオ	27	 じゆう じゆう じゆう	26	 じし じし じし	25	 だつぱ らつぱ らつぱ	24	 まほう まほお まほう	23	 ともだち ともだち ともだち	22	 ひまわり ひまわい ひまわり
35	 ソーズ ソーズ ソーズ	34	 うちゅう うちゅう うちゅう	33	 にひやく にひやく にひやく	32	 おぼこ おぼこ おぼこ	31	 おにいさん おにさん おにいさん	30	 かつおぶし かつおぶし かつおぶし	29	 くもり くもり くもり


片 () 物長 () 物 () 促 () 長 () 潮 () 薄 ()
テスト①の合計

9/7 (か)


ひらがな?カタカナ?(3)
(たべものへん)


なまえ

☆下の「たべもの」を、ひらがなでかくものと、カタカナでかくもの
にわけてみよう。()のかずだけあるよ。


ごはん 


ぱん 


らあめん 


みそしる 


つけもの

ころっけ 


うどん 


はんばあぐ 

てんぷら 


おむれっ 

すし 

かれえらいす 

さんどいっち 

そば 

ぐらたん 

ひらがな(7)

Handwriting practice lines for hiragana.

カタカナ(8)

カタカナで
かいてね





Handwriting practice lines for katakana.

ひらがな?カタカナ?(4)
(がっきへん)


なまえ

☆下の「がっき」を、ひらがなでかくものと、カタカナでかくもの
にわけてみよう。()のかずだけあるよ。

かすたねっと 

ふえ 


たいこ 

たんぱりん 

もっきん 

ぴあの 


はあもにか 

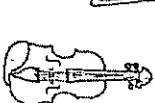
ぎたあ 

おるがん 

どらむ

しゃみせん

とらいあんぐる 

ばいおりん 

ひらがな(4)

Handwriting practice lines for hiragana.

カタカナ(9)

カタカナで
かいてね



Handwriting practice lines for katakana.

ことばあそび

9月7日

名まえ



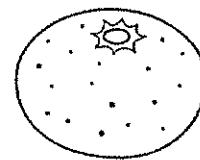

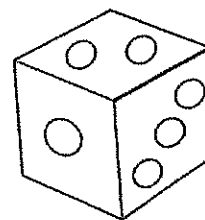
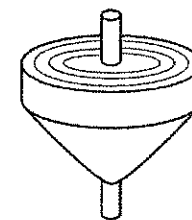


文字の 中に えの 名まえが かくれています。名まえを 見つけて、えに
いろを ぬりましょう。その いろで 名まえを かこみましょう。

1


さ	い	こ	ろ	お	は	り
に	ふ	ま	つ	み	ら	ん
あ	め	ち	や	か	ん	ご
は	ゆ	な	す	ん	け	う

(れい)


(れい)



2



た	け	の	こ	と	さ	ら
ま	は	た	お	け	る	い
ね	あ	え	り	い	ぬ	お
ぎ	し	ろ	う	そ	く	ん

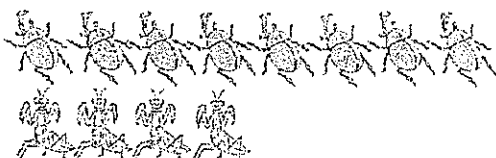


ひきざん③ (ちがいはいくつ)	なまえ	
--------------------	-----	--

① かぶとむしを 8ひき、かまきりを 4ひき とりました。
どちらが なんびき おおいでしょうか。

しき

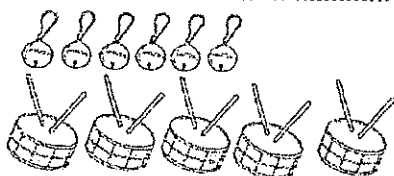
こたえ



② すずが 6こ と たいこが 5こ あります。どちらが
なんこ おおいでしょうか。

しき

こたえ



③ はたけで すいかが 9こ、かぼちゃが 7こ とれました。
どちらが なんこ おおいでしょうか。



しき


こたえ

たしざん ① ひきざん (10まで)	なまえ	
-----------------------	-----	--

① だんごを 7ほん かって きました。おとうとが 2ほん
たべました。のこりは なんほんでしょうか。

しき


こたえ



② あめを 4こ もって います。おねえさんから 3こ
もらいました。みんなで なんこに なるでしょうか。

しき

こたえ



③ おとこのこが 6にん、おんなのこが 3にん あそんで
います。おとこのこが なんにん おおいでしょうか。

しき

こたえ




なんばんめ


なまえ

〇 で かこみましょう。


か) ① まえから 5にんめ




② まえから 5にん




③ まえから 8にんめ



④ まえから 8にん



⑤ まえから 10にんめ



なんばんめ

なまえ

〇 で かこみましょう。

① うしろから 7にんめ



② うしろから 7にん



③ うしろから 3にんめ



④ うしろから 3にん



⑤ うしろから 9にんめ



9までの
ひきざん
(50問)

12

なまえ



- ① $7-4=$
- ② $9-7=$
- ③ $7-2=$
- ④ $6-3=$
- ⑤ $6-5=$
- ⑥ $4-2=$
- ⑦ $9-6=$
- ⑧ $8-1=$
- ⑨ $8-2=$
- ⑩ $6-4=$
- ⑪ $9-3=$
- ⑫ $5-2=$
- ⑬ $9-8=$
- ⑭ $8-4=$
- ⑮ $2-1=$
- ⑯ $9-1=$
- ⑰ $8-4=$

- ⑱ $3-1=$
- ⑲ $9-3=$
- ⑳ $6-1=$
- ㉑ $8-3=$
- ㉒ $8-7=$
- ㉓ $9-5=$
- ㉔ $3-2=$
- ㉕ $8-7=$
- ㉖ $7-5=$
- ㉗ $6-4=$
- ㉘ $9-7=$
- ㉙ $8-5=$
- ㉚ $7-4=$
- ㉛ $6-3=$
- ㉜ $9-6=$
- ㉝ $5-3=$
- ㉞ $6-2=$

- ㉟ $9-8=$
- ㊱ $5-4=$
- ㊲ $4-3=$
- ㊳ $9-5=$
- ㊴ $4-1=$
- ㊵ $9-4=$
- ㊶ $8-6=$
- ㊷ $7-1=$
- ㊸ $9-4=$
- ㊹ $8-2=$
- ㊺ $7-3=$
- ㊻ $9-2=$
- ㊼ $5-1=$
- ㊽ $9-1=$
- ㊾ $7-6=$
- ㊿ $7-3=$

9までの
ひきざん
(50問)

13

なまえ



9/7
(か)

- ① $7-4=$
- ② $8-6=$
- ③ $3-1=$
- ④ $8-2=$
- ⑤ $9-5=$
- ⑥ $6-3=$
- ⑦ $6-5=$
- ⑧ $8-1=$
- ⑨ $9-7=$
- ⑩ $6-3=$
- ⑪ $9-7=$
- ⑫ $8-2=$
- ⑬ $7-3=$
- ⑭ $6-2=$
- ⑮ $8-4=$
- ⑯ $5-3=$
- ⑰ $9-2=$


- ⑱ $8-4=$
- ⑲ $9-4=$
- ⑳ $5-2=$
- ㉑ $6-4=$
- ㉒ $4-2=$
- ㉓ $7-3=$
- ㉔ $8-7=$
- ㉕ $5-1=$
- ㉖ $7-5=$
- ㉗ $9-6=$
- ㉘ $3-2=$
- ㉙ $9-1=$
- ㉚ $9-8=$
- ㉛ $4-1=$
- ㉜ $9-8=$
- ㉝ $8-7=$
- ㉞ $7-2=$

- ㉟ $7-4=$
- ㊱ $8-3=$
- ㊲ $2-1=$
- ㊳ $7-1=$
- ㊴ $9-4=$
- ㊵ $6-4=$
- ㊶ $9-3=$
- ㊷ $4-3=$
- ㊸ $8-6=$
- ㊹ $5-4=$
- ㊺ $6-1=$
- ㊻ $8-5=$
- ㊼ $8-3=$
- ㊽ $9-6=$
- ㊾ $9-3=$
- ㊿ $7-6=$

なかまあつめ

(10までのかず)


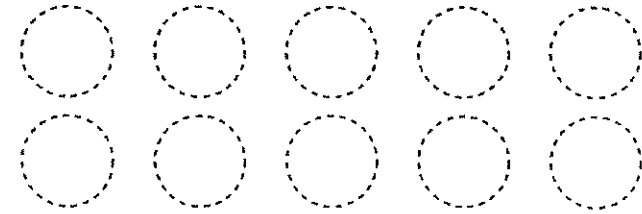

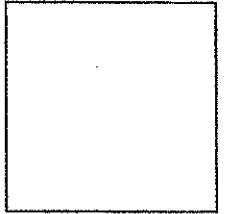
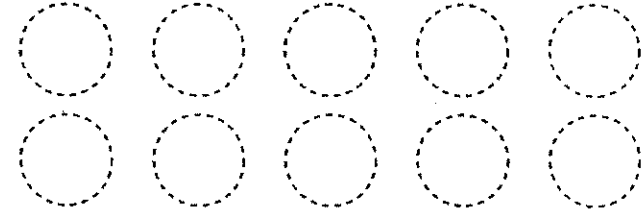

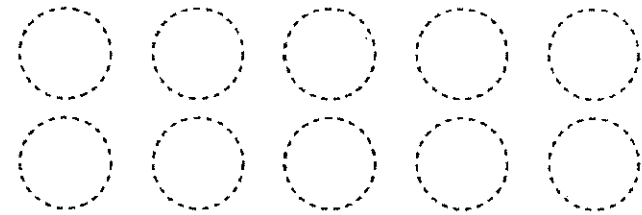
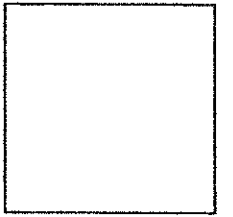
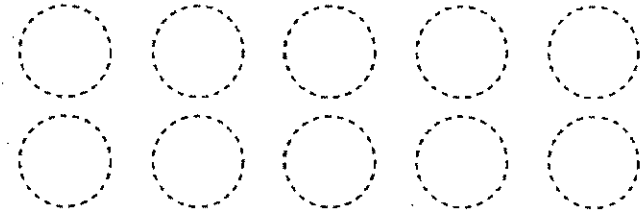
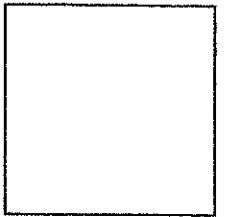
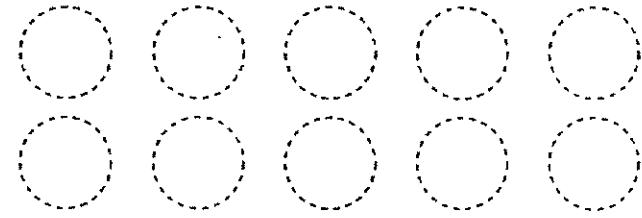
(1) おなじ なかまに おなじ いろを ぬりましょう。



なまえ

(2) なかまの かずだけ ○に いろを ぬりましょう。 $\frac{9}{7}$ (か)

□に かずを かきましよう。



☆ おさるが ふねを
かきました
9/8 (すい)
なまえ

おさるが ふねを かきました

ふねでも かいて みましよう

おさるが ふねを かきました

けむりを もこもこ はかそう


えんとつ いっぽん たてました

なんだか すこし さびしい

しっぽも いっぽん つけました

ほんとに じょうずに かけた

さかだち いっかい やりました



うえの しを よんで こたえましよう。

(1) ふねを かいて みようとおもったのは だれですか。 (10)

(2) おさるは ふねに、なにを たてましたか。 (15)

(3) えんとつは なんの ために たてましたか。 (15)

(4) おさるは すこし さびしいと、ふねに なにを つけましたか。 (10)

(5) おさるは、ほんとに じょうずに かけたとおもって、なにを しましたか。 (15)

(6) おさるが よろこんで いることが わかる ところを 一ぎょう かきましよう。 (15)

(7) あなたも ふねの えを かいて みましよう。 (20)

レベル49 (

3-4



はじめ

9/8
(すい)

14	ラムネフルーツソフト
13	ひょうそんちようきようそん
12	れっしやしょっきじてんしゃ
11	はっけんしほほほ
10	てっほうゆうやけいさん
9	にじぶんおばさん
8	しかたかなたぬき
7	キ+ラムネフルーツソフト
6	れんじゅうじゆきようじようしゃ
5	ちやいろしよくじおしゃべり
4	らっほほうかけこ
3	おねえさんひらきぞう
2	うでこびもりんこ
1	おしたみつぬま

28	オルガンレスタラソングソフト
27	しょうがうちゅういしゅうじよう
26	としょしっしやりんちやわん
25	がっきがっころらっほ
24	がようしせんぷうきすもう
23	くちびるくばんぎぶんどん
22	ちからしおまじ
21	メタルミキサーポテト
20	しょうがくせいうちゅうちやうたん
19	さいしよあくしゅういしゃ
18	きんぷいっびきがっころ
17	いんせくおとうさんれいぞうこ
16	てんわじこくぎせき
15	はぎみれんこんけしき

片() 物長() 効() 促() 長() 源() 清()

35	パケツストローハイキング
34	はくちようこんちゅうきゅうり
33	じゆんはんさんびやくしよくどん
32	ほつたかっほまらくら
31	くいしんぼんはんこつちやうもんし
30	かんじかんはんいずみ
29	ほたるなかきつき

片() 物長() 効() 促() 長() 源() 清()

テスト②の合計

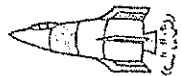
テスト①と②の合計


9/8 (すい)

ひらがな?カタカナ?(5) (のりものへん)

なまえ


☆下の「のりもの」を、ひらがなでかくものと、カタカナでかくものに分けてみよう。()のかずだけあるよ。

ろけつ 

でんしゃ 

ばす 

しんかんせん 


じてんしゃ 


ひこうき 

どらつく 

ふね 

ばいく 

じどうしゃ 

いちりんしゃ 


ひらがな(7)

Handwriting practice lines for hiragana.

カタカナ(4)

カタカナでかいてね

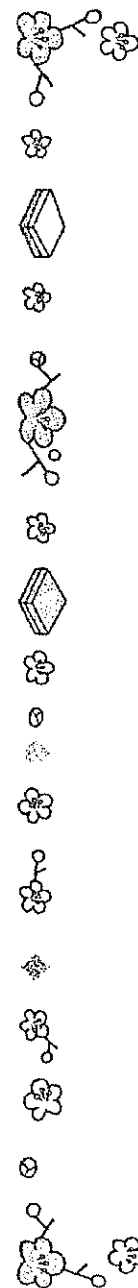
Handwriting practice lines for katakana.



小さい「やゆよっ」

なまえ

☆「もと」の「も」と「と」のあいだに小さな「っ」を入れると「もっ」となるね。①～⑩のことばの○に小さな「やゆよっ」を入れてみよう。



① ねこ ⇒ ね○こ

② きく ⇒ き○く

③ りこう ⇒ り○こう

④ みつ ⇒ み○つ

⑤ むち ⇒ むち○

⑥ きねん ⇒ き○ねん

⑦ そと ⇒ そ○と

⑧ ひく ⇒ ひ○く

⑨ しわ ⇒ し○わ


⑩ また ⇒ ま○た

やってみよう

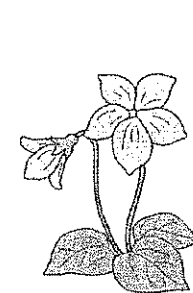
クロスワード

9月8日
名まえ

□にあう文字をかきましょう。

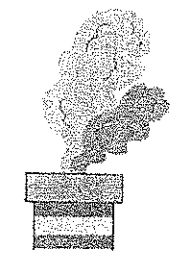

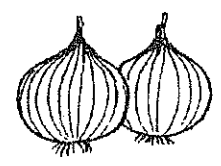


ほ	⑦	る
	ま	
こ	⑧	こ
	ぎ	

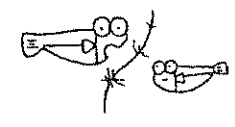


	な	
す	④	れ
	だ	

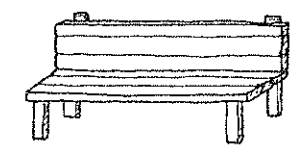

け	
む	
①	す




す	ず	②
---	---	---



だ
か



た	い	⑤	き
---	---	---	---




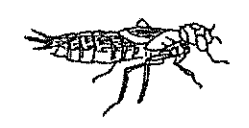
す	⑥	か
---	---	---



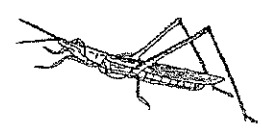
な	
が	
い	
⑩	⑨



ん	
⑫	⑪



	き	
ば	③	た
	て	



か
ん

たしざん ②	なまえ	
ひきざん(10まで)	なまえ	

① どんぐりが 8こ、くりが 6こ あります。どちらが
なんこ おおいでしょうか。

しき



こたえ

② きんぎょすくいであゆみさんは 5ひき、いもうとは
3ひき すくいました。あわせて なんびきでしょうか。

しき



こたえ

③ すべりだいで 7にん あそんでいます。そこへ 3にん
きました。ぜんぶで なんにん になったでしょうか。

しき



こたえ

9/8(すい)

たしざん ③	なまえ	
ひきざん(10まで)	なまえ	

① にわとりが 7わ います。おすは 4わ です。めすは
なんわでしょうか。

しき

こたえ

② きつねが 9ひき、たぬきが 8ひき います。どちらが
なんびき おおいでしょうか。

しき



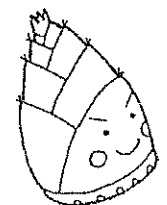
こたえ

③ たけのこを 8ほん ほりました。となりの ひとから
2ほん もらいました。あわせて なんほん になるでしょうか。

しき




こたえ



なんばんめ

なまえ

8
い



① うえから 2ばんめに あおい
ろを ぬりましょう。

② うえから 4ばんめに きいろ
を ぬりましょう。


③ したから 5ばんめに ピンク
を ぬりましょう。

④ したから 3ばんめに ちゃい
ろを ぬりましょう。

⑤ うえから 5ばんめに みどり
を ぬりましょう。

なんばんめ

なまえ



① したから 3ばんめ
に あかいろを ぬり
ましょう。

② したから 4ばんめ
に きいろを ぬりま
しょう。

③ したから 2ばんめ
に はいいろを ぬり
ましょう。

④ うえから 5ばんめ
に ちゃいろを ぬり
ましょう。

⑤ したから 5ばんめ
に みどりを ぬりま
しょう。

10までの
たしざん①

なまえ



- ① $7+1=$
- ② $2+7=$
- ③ $1+5=$
- ④ $4+3=$
- ⑤ $2+8=$
- ⑥ $3+5=$
- ⑦ $1+8=$
- ⑧ $2+4=$
- ⑨ $2+5=$
- ⑩ $3+2=$
- ⑪ $2+5=$
- ⑫ $0+9=$
- ⑬ $6+3=$
- ⑭ $4+1=$
- ⑮ $1+2=$
- ⑯ $3+4=$
- ⑰ $4+6=$

- ⑱ $1+3=$
- ⑲ $4+5=$
- ⑳ $3+6=$
- ㉑ $7+2=$
- ㉒ $1+6=$
- ㉓ $5+2=$
- ㉔ $6+3=$
- ㉕ $3+7=$
- ㉖ $3+3=$
- ㉗ $4+3=$
- ㉘ $5+4=$
- ㉙ $6+1=$
- ㉚ $1+7=$
- ㉛ $5+3=$
- ㉜ $6+4=$
- ㉝ $2+4=$
- ㉞ $7+3=$

- ㉟ $2+6=$
- ㊱ $3+4=$
- ㊲ $0+4=$
- ㊳ $5+5=$
- ㊴ $8+2=$
- ㊵ $3+0=$
- ㊶ $4+2=$
- ㊷ $2+3=$
- ㊸ $2+1=$
- ㊹ $6+2=$
- ㊺ $2+2=$
- ㊻ $5+1=$
- ㊼ $7+2=$
- ㊽ $1+1=$
- ㊾ $4+2=$
- ㊿ $3+3=$

10までの
たしざん②

なまえ



9/8

(すい)

- ① $2+1=$
- ② $7+3=$
- ③ $2+4=$
- ④ $5+3=$
- ⑤ $0+6=$
- ⑥ $1+5=$
- ⑦ $3+4=$
- ⑧ $1+2=$
- ⑨ $5+2=$
- ⑩ $7+0=$
- ⑪ $4+5=$
- ⑫ $3+6=$
- ⑬ $2+7=$
- ⑭ $4+3=$
- ⑮ $1+8=$
- ⑯ $4+6=$
- ⑰ $3+2=$

- ⑱ $4+1=$
- ⑲ $1+7=$
- ⑳ $3+7=$
- ㉑ $1+4=$
- ㉒ $4+2=$
- ㉓ $3+3=$
- ㉔ $2+5=$
- ㉕ $5+5=$
- ㉖ $2+8=$
- ㉗ $1+9=$
- ㉘ $6+2=$
- ㉙ $4+3=$
- ㉚ $7+2=$
- ㉛ $5+0=$
- ㉜ $8+1=$
- ㉝ $2+2=$
- ㉞ $1+1=$

- ㉟ $2+3=$
- ㊱ $6+4=$
- ㊲ $2+4=$
- ㊳ $3+4=$
- ㊴ $7+3=$
- ㊵ $2+6=$
- ㊶ $8+2=$
- ㊷ $1+3=$
- ㊸ $3+1=$
- ㊹ $6+3=$
- ㊺ $8+2=$
- ㊻ $1+6=$
- ㊼ $5+4=$
- ㊽ $3+5=$
- ㊾ $4+4=$
- ㊿ $6+3=$

なかまあつめ






(10までのかず)

(1) おなじ なかまに おなじ いろを ぬりましょう。



なまえ

(2) なかまの かずだけ ○に いろを ぬりましょう。 $\frac{9}{8}$ (すい)
□に かずを かきましょう。

	○	○	○	○	○	□
	○	○	○	○	○	□
	○	○	○	○	○	□
	○	○	○	○	○	□
	○	○	○	○	○	□



みいつけた

9/9 (むく)

なまえ

だんごむしは、

にわや こうえんに います。

だんごむしは、くらくて

しめった ところが すきです。

おちばや いしを どけると、

みつける ことが できます。



せみは、

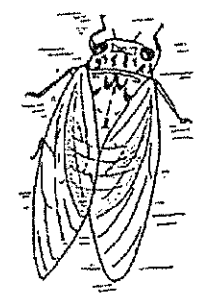
木の みきや えだに とまって います。

せみは、よく なきます。

こえが きこえる ところを

さがすと、みつける ことが

できます。



ばったは、

くさはらに います。

ばったは、すぐには

みつける ことが できません。

ばったの いろが、くさの いろ


と にて いるからです。

ひとが ちかづくど、

ばったは、おどろいて

とびたちます。それで、

みつける ことが できます。



うえの ぶんを よんで こたえましょう。

(1) だんごむしは、どこに いますか。

(10×2)

() () () () () () () () () ()

(2) だんごむしは、どんな ところが すきですか。

(10)

(3) せみは、どこに とまって いますか。

(10×2)

() () () () () () () () () ()

(4) ばったは、どこに いますか。

(10)

(5) ばったを、すぐに みつける ことが できないのは、どうして ですか。

(10)

(6) つぎの いきものは、どのようにな ると みつける ことが できますか。

① だんごむし

(10×3)

② せみ

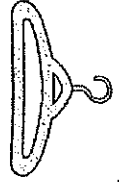
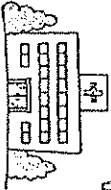

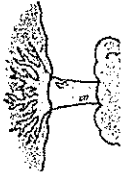



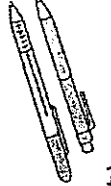

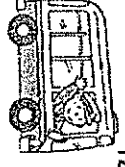


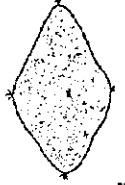

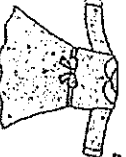

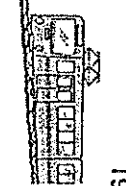
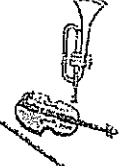
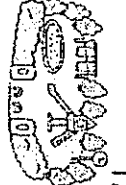
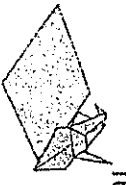
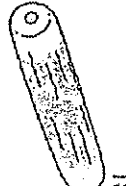
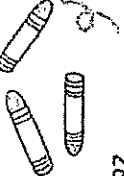



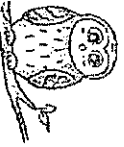

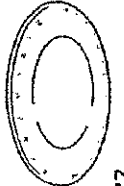






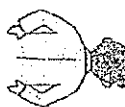
③ ばった

レベル50

4-2

はじめ

9/9
(もく)

7		ハンガー	6		ビルディング	5		キンギョ	4		キノコ	3		冷蔵庫	2		赤ちゃん	1		薬
14		クレヨン	13		ドラゴン	12		バス	11		郵便	10		レモン	9		ダイヤモンド	8		薬
21		ドレス	20		子供	19		列車	18		トランペット	17		キャンディ	16		封筒	15		絆創膏
28		クレヨン	27		卵	26		車輪	25		新聞	24		オウ	23		おじさん	22		皿
35		ホットケーキ	34		カレンダー	33		豆	32		泡	31		階段	30		はがき	29		せなか

片 () 物 () 物 () 促 () 長 () 濁 () 清 ()

テストの合計

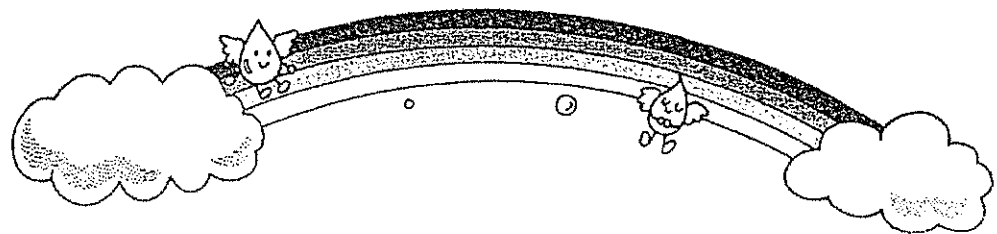
9/9 (もく)

よくまちがうよ、なおしてね

なまえ

☆①～⑩の__のことばのかきかたは、よくまちがうよ。
正しいかきかたを の中にかいてね。


- ① おねいさん
- ② おとおさん
- ③ こうりはつめたい
- ④ おうきいりんご
- ⑤ はだかのおおさま
- ⑥ とけえをみる
- ⑦ そおじをしよう
- ⑧ おうぜいであそぶ
- ⑨ せんせえだいすき
- ⑩ とうまわりする



わは・えへ・おを

なまえ

☆(1)～(5)の文に、「わ・は・え・へ・お・を」を入れてみよう。




(1) たし 、 かし たべたよ。

(2) こう 人 いて、 にごっこ しよう。

(3) に 、こ いけど、 たし 、
 いきだよ。

(4) びと びと 大ちがい。
 び おいしい、 び こ い。

(5) ぼく 、 とうさん 、 人ぶできたよ。



いくつと
いくつ

⑦

なまえ

[Blank box for name]

★□にあてはまる かずをかきましょう。

① 8 4	② 6 3	③ 7 4	④ 9 2
⑤ 7 1	⑥ 9 8	⑦ 6 5	⑧ 8 2
⑨ 8 7	⑩ 7 3	⑪ 9 6	⑫ 6 2
⑬ 7 3	⑭ 9 5	⑮ 8 5	⑯ 6 4
⑰ 9 2	⑱ 6 3	⑲ 7 3	⑳ 8 1

いくつと
いくつ

⑧

なまえ

[Blank box for name]

★□にあてはまる かずをかきましょう。

9/9
(もく)

① 7 3	② 7 1	③ 6 4	④ 10 5
⑤ 8 3	⑥ 7 5	⑦ 10 8	⑧ 9 3
⑨ 10 7	⑩ 6 1	⑪ 9 8	⑫ 6 2
⑬ 6 3	⑭ 8 2	⑮ 8 4	⑯ 10 6
⑰ 9 5	⑱ 10 9	⑲ 7 4	⑳ 9 2

10までのひきざん

な
ま
え

9/9 まとめテスト(2) 考

(モク)

① やきいもを やきました。
7こ やいて 4こ たべました。
やきいもは なんこ のこって
いますか。(20)
しき

こたえ

② りんごの きに りんごが 9こ
できました。9こ したに
おちてしまいました。きに
りんごは なんこ ありますか。
しき (20)

こたえ

③ みかんが 10こ あります。
6にんの こどもに 1こずつ
あげました。みかんは なんこ
のこっていますか。(20)
しき

こたえ

④ あひるが いけに 8わ います。
2わ すにかえりました。
いけに なんわ のこっていますか。
しき (20)

こたえ

⑤ おさるが 9ひき きのうえに
いました。
3ひき やまに かえりました。
きに なんびきのこっていますか。
しき (20)

こたえ



10までのひきざん

な
ま
え

まとめテスト(3) 考

① おみせで りんごが 8こ、
めろんが 9こ うっています。
どちらが なんこ おおいでしょう。
しき (20)

こたえ

② いけに おやがめが 4ひき、
こがめが 7ひき います。
どちらが なんびき おおいでしょう。
しき (20)

こたえ

③ ゆきさんは おりがみを 8まい、
えみさんは 6まい もっています。
どちらが なんまい おおいでしょう。
しき (20)

こたえ

④ あめが 10こ あります。
ゆうかさんは 6こ、 いうとは
4こ もらいました。
どちらが なんこ あめを おおく
もらいましたか。(20)
しき

こたえ

⑤ はとが やねに 5わ、
すずめが でんせんに 8わ
います。どちらが なんわ
おおいでしょう。(20)
しき

こたえ



10までのひきざん ①

なまえ



- ① $10 - 2 =$
- ② $8 - 6 =$
- ③ $5 - 2 =$
- ④ $10 - 7 =$
- ⑤ $8 - 4 =$
- ⑥ $7 - 1 =$
- ⑦ $9 - 4 =$
- ⑧ $6 - 5 =$
- ⑨ $10 - 4 =$
- ⑩ $7 - 3 =$
- ⑪ $8 - 8 =$
- ⑫ $9 - 2 =$
- ⑬ $6 - 4 =$
- ⑭ $10 - 8 =$
- ⑮ $4 - 3 =$
- ⑯ $9 - 8 =$
- ⑰ $7 - 3 =$

- ⑱ $8 - 3 =$
- ⑲ $9 - 6 =$
- ⑳ $3 - 2 =$
- ㉑ $5 - 4 =$
- ㉒ $2 - 1 =$
- ㉓ $10 - 5 =$
- ㉔ $7 - 0 =$
- ㉕ $9 - 9 =$
- ㉖ $7 - 1 =$
- ㉗ $10 - 1 =$
- ㉘ $6 - 3 =$
- ㉙ $7 - 4 =$
- ㉚ $9 - 7 =$
- ㉛ $6 - 2 =$
- ㉜ $9 - 7 =$
- ㉝ $8 - 6 =$
- ㉞ $6 - 6 =$

- ㉟ $7 - 6 =$
- ㊱ $8 - 7 =$
- ㊲ $10 - 6 =$
- ㊳ $8 - 1 =$
- ㊴ $9 - 5 =$
- ㊵ $8 - 5 =$
- ㊶ $7 - 7 =$
- ㊷ $5 - 3 =$
- ㊸ $8 - 2 =$
- ㊹ $7 - 5 =$
- ㊺ $5 - 0 =$
- ㊻ $10 - 9 =$
- ㊼ $4 - 2 =$
- ㊽ $9 - 3 =$
- ㊾ $7 - 2 =$
- ㊿ $10 - 3 =$

10までのひきざん ②

なまえ



9/9 (まく)

- ① $9 - 0 =$
- ② $8 - 3 =$
- ③ $10 - 2 =$
- ④ $7 - 5 =$
- ⑤ $9 - 4 =$
- ⑥ $3 - 2 =$
- ⑦ $8 - 7 =$
- ⑧ $10 - 5 =$
- ⑨ $7 - 6 =$
- ⑩ $9 - 1 =$
- ⑪ $5 - 0 =$
- ⑫ $10 - 8 =$
- ⑬ $8 - 5 =$
- ⑭ $5 - 2 =$
- ⑮ $6 - 3 =$
- ⑯ $10 - 7 =$
- ⑰ $6 - 6 =$

- ⑱ $9 - 5 =$
- ⑲ $7 - 2 =$
- ⑳ $4 - 2 =$
- ㉑ $8 - 6 =$
- ㉒ $6 - 5 =$
- ㉓ $8 - 2 =$
- ㉔ $7 - 4 =$
- ㉕ $9 - 3 =$
- ㉖ $9 - 6 =$
- ㉗ $6 - 4 =$
- ㉘ $9 - 7 =$
- ㉙ $8 - 1 =$
- ㉚ $8 - 6 =$
- ㉛ $10 - 1 =$
- ㉜ $7 - 3 =$
- ㉝ $9 - 7 =$
- ㉞ $4 - 3 =$


- ㉟ $10 - 9 =$
- ㊱ $8 - 0 =$
- ㊲ $10 - 4 =$
- ㊳ $7 - 1 =$
- ㊴ $5 - 3 =$
- ㊵ $10 - 6 =$
- ㊶ $9 - 9 =$
- ㊷ $9 - 8 =$
- ㊸ $10 - 3 =$
- ㊹ $7 - 4 =$
- ㊺ $6 - 2 =$
- ㊻ $9 - 2 =$
- ㊼ $5 - 4 =$
- ㊽ $8 - 4 =$
- ㊾ $7 - 7 =$
- ㊿ $7 - 3 =$

せんむすび

(20までのかず) 1

なまえ

● 1から20までじゅんばんにせんでつなぎましょう。
なにができるかな。




せんむすび

(20までのかず) 2

なまえ

● 1から20までじゅんばんにせんでつなぎましょう。
なにができるかな。

9/9
(もく)




おむすびころりん(きん) ①

9/10

なまえ

むかし むかしの はなしだよ。
 やまの はたけを たがやして、
 おなかが すいた おじいさん。
 そろそろ おむすび たべようか。
 つつみを ひろげた その とたん、
 おむすび ひとつ ころがって、
 ころころ ころりん かけだした。
 まて まて まてと おじいさん、
 おいかけ いったら おむすびは、
 はたけの すみの あなの なか、
 すっとなんと とびこんだ。
 のぞいて みたが まっくらで、
 みみを あてたら きこえたよ。
 おむすび ころりん すっとなん。
 ころころ ころりん すっとなん。



うえの ふんを よんで こたえましょう。

- (1) いつの はなしですか。 (10)
- (2) おじいさんの はたけは どこに
ありますか。 (10)
- (3) おなかが すいた おじいさんは、
なにを しようと しましたか。 (10)
- (4) おむすびは いくつ ころがりまし
たか。 (10)
- (5) おむすびが ころがっている よう
すが かかれています ところを かき
ましょう。 (15)
- (6) おむすびが ころがったので、 おじ
いさんは どうしましたか。 (15)
- (7) ころがった おむすびは、 どうなり
ましたか。 (15)
- (8) おじいさんが あなに みみを あ
てると、 どんな こえが きこえまし
たか。 (15)

レベル51

9/10
(きん)

4-4



はじめ

14	テレビテイルバムハイキング
13	にゅうじょうしょうがっこうちゅう
12	れっしやしょうきじてんしや
11	はっぱらっぱしる
10	がようしおおかみずもう
9	かびんおんぶたじぎん
8	ぬりえながまくき
7	アニメハンカチバイオリン
6	しょうかくせいひょうしょうゆ
5	さいしよあくしゅうしや
4	せけんほんたごて
3	にちようびおにいさんせんぱうき
2	さんばかばんたんろ
1	みんなうまはきみ
15	ひとりはなし
16	ゆびえんびつくちばし
17	しんこうそつだんこうれい
18	かっぱはらっぱなっぱ
19	しゃりんりょうしめくたい
20	かいちゅうでんとんだちようきようし
21	テニスキチラメルラング
22	ちかてつなまえしるし
23	たびわなげながれぼし
24	てんどうむしろうそくぼうせん
25	まごくらねりきんぱ
26	おもちゃかぼちやしゆやく
27	れんしゅうやきゆうきゆうしよく
28	ハンバードラジオランプ

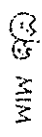
片() 物展() 物() 促() 展() 瀬() 瀧()

29	あひるほたてくま
30	こくくだものかいだん
31	ふうとうせんせいおとうさん
32	えにっきかけこしっぱ
33	にんぎよしゅうっぱじやんけん
34	しんきゆうじょうしょうしやがいじゅう
35	ホストチヨクトラミンゴ

片() 物展() 物() 促() 展() 瀬() 瀧()

テキスト②の合計

テキスト①と②の合計



9/10
(きん)

なまえ

1 けんかした山

● 『けんかした山』^{やま}をよんで、おもしろかったところや、いなと おもった ところの えを かきましよう。

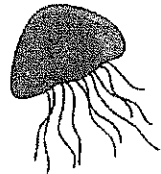
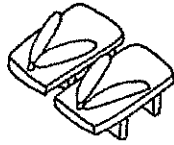

Large empty rectangular box for drawing or writing.

② この えを かいたわけを かきましよう。

Large empty rectangular box with a dotted line for writing.

お く た
ら き げ

				げ
				た



もじを くみあわせて、ことばを 五つ じゆうにつくりましたよう。

できたら
ほぞろう




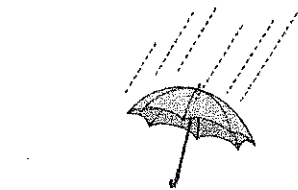


20

おんおんおんおんおん
②
日づけ
/
名まえ

あ こ め
り い さ

				あ
				り



もじを くみあわせて、ことばを 五つ じゆうにつくりましたよう。

できたら
ほぞろう



20

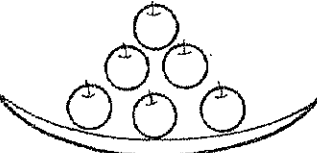
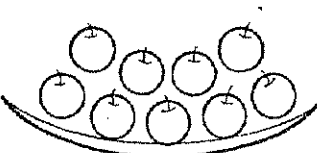


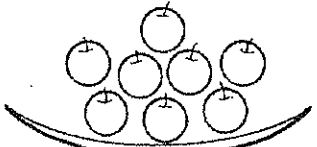
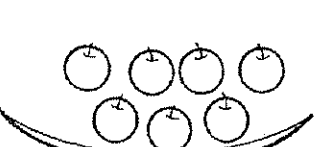
おんおんおんおんおん
①
日づけ
9/10
名まえ

10までのかず

まとめテスト(1) 知識・理解

なまえ

1 りんごはなんこあるでしょう。□に かずを かきましよう。(5x6)

① <input type="text"/> 	② <input type="text"/> 
③ <input type="text"/> 	④ <input type="text"/> 
⑤ <input type="text"/> 	⑥ <input type="text"/> 

2 □に すうじを かきましよう。(4x5)

じゅう , はち , れい , しち , <

3 おおきい ほうに ○を しましよう。(5x2)

8 と 10 , 7 と 6

4 えをみて □に あう かずを かきましよう。(5x8)



- | | |
|--|--|
| ① ぱんだは まえから <input type="text"/> ばんめ。 | ② りすは まえから <input type="text"/> ばんめ。 |
| ③ きりんは まえから <input type="text"/> ばんめ。 | ④ ぱんだは うしろから <input type="text"/> ばんめ。 |
| ⑤ こあらは まえから <input type="text"/> ばんめ。 | ⑥ とりは うしろから <input type="text"/> ばんめ。 |
| ⑦ きりんの まえには <input type="text"/> ひき, うしろには <input type="text"/> ひきの どうぶつが います。 | |

10までのかず

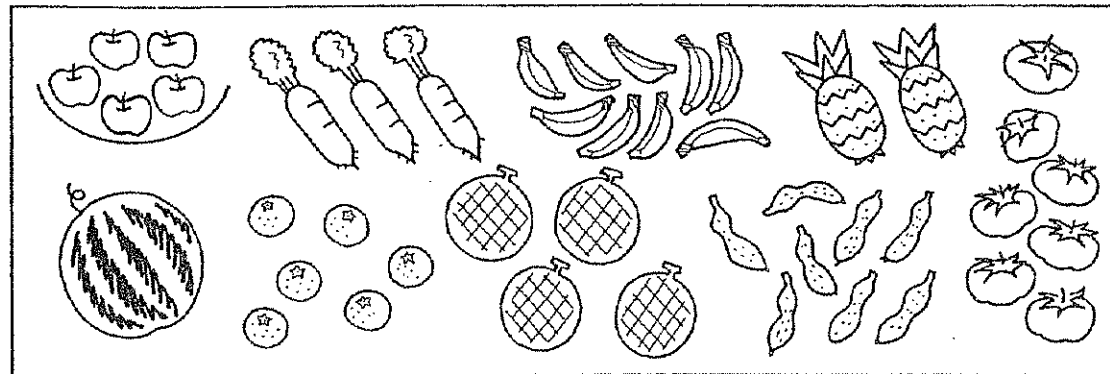
まとめテスト(2) 知識・理解










なまえ

9/10

(きん)

1 いくつ あるでしょう。すうじを □に かきましよう。(5x8)



れい <input type="text"/>  --- <input type="text"/> 5	①  --- <input type="text"/>	②  --- <input type="text"/>
③  --- <input type="text"/>	④  --- <input type="text"/>	⑤  --- <input type="text"/>
⑥  --- <input type="text"/>	⑦  --- <input type="text"/>	⑧  --- <input type="text"/>

2 □に すうじを かきましよう。(4x5)

はち , ろく , しち , れい , じゅう

3 おおきい ほうに ○を しましよう。(5x2)

9 と 7 , 10 と 8

4 えをみて □に あう かずを かきましよう。(5x6)



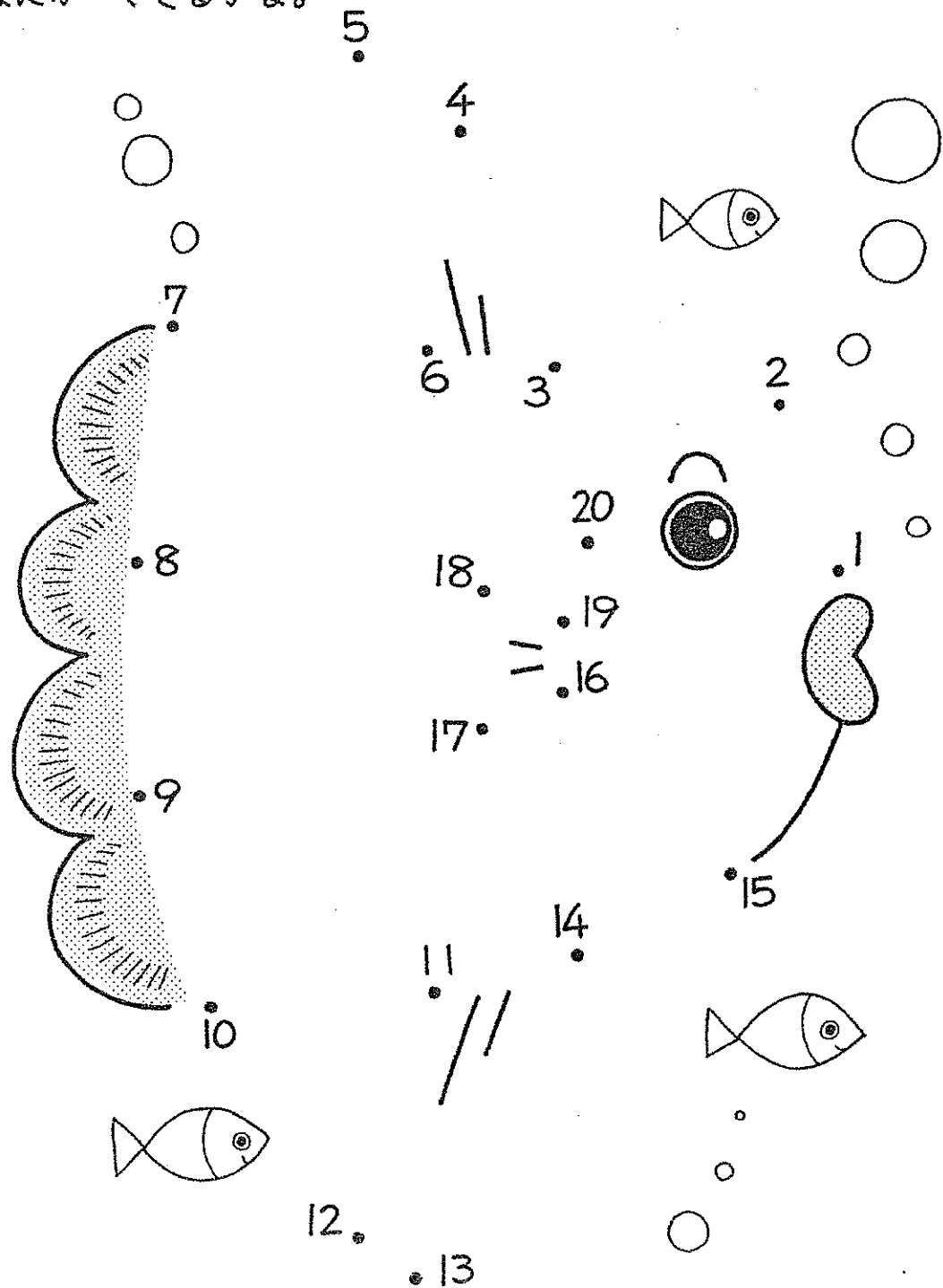
- | | |
|---------------------------------------|---|
| ① うまは まえから <input type="text"/> ばんめ。 | ② さるは まえから <input type="text"/> ばんめ。 |
| ③ いぬは うしろから <input type="text"/> ばんめ。 | ④ らいおんは うしろから <input type="text"/> ばんめ。 |
| ⑤ ねこは まえから <input type="text"/> ばんめ。 | ⑥ ねずみは うしろから <input type="text"/> ばんめ。 |

せんむすび

(20までのかず)

なまえ

● 1から20までじゅんばんにせんでつなぎましょう。
なにができるかな。

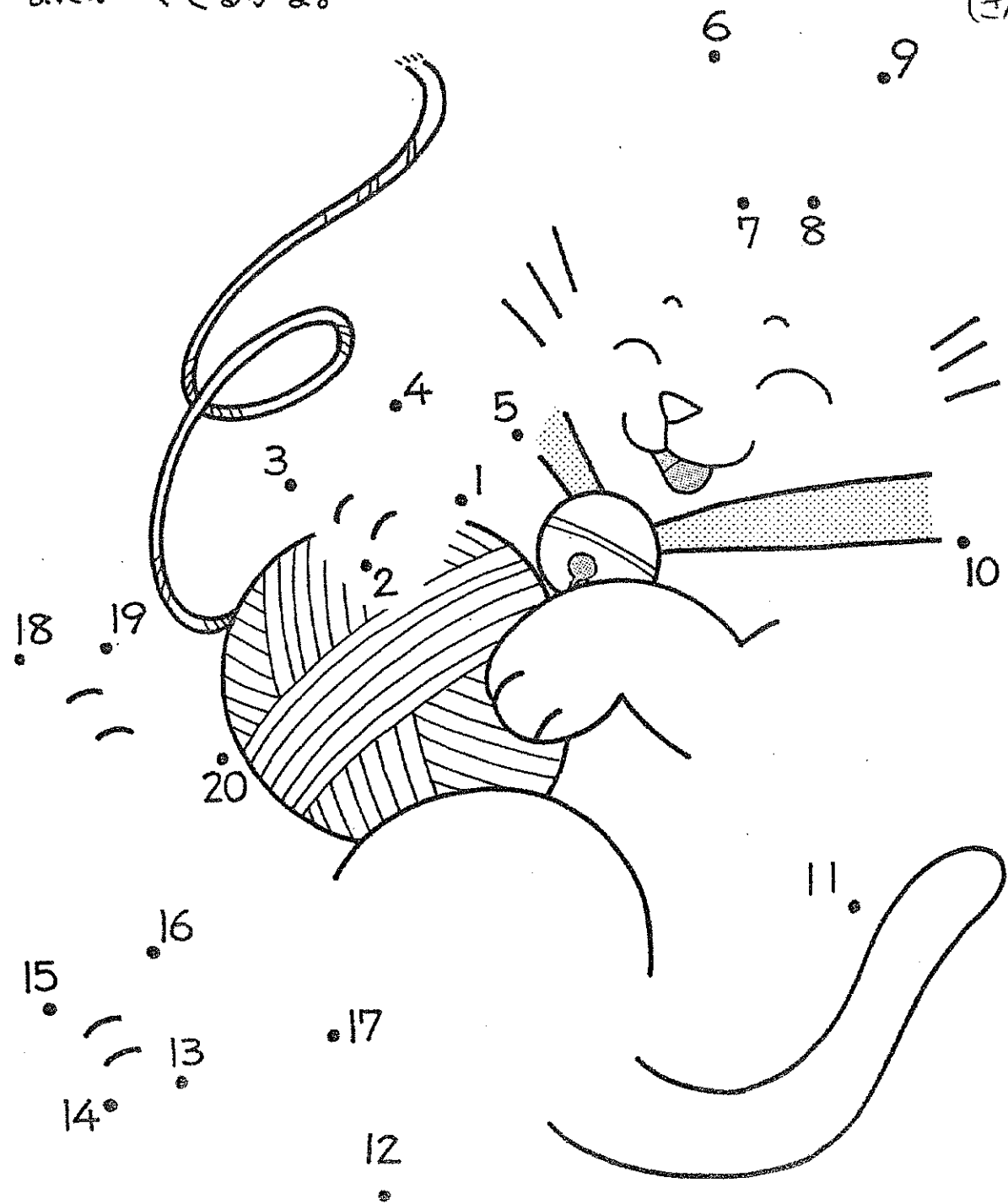


せんむすび

(20までのかず)

なまえ

● 1から20までじゅんばんにせんでつなぎましょう。
なにができるかな。



☆ちからだめし☆
(たしざん)

な
ま
え

① すいそうに めだかが 6びき およんでいます。そこへ 2びき めだかを いました。めだかは なんびき になりましたか。

しき



こたえ

② みかんが おさらに 4こ あります。かごには 5こ あります。みんなで みかんは なんこ でしょうか。


しき



こたえ

③ しいるを 5まい もっています。おねえさんに 3まい もらうと、みんなで しいるは なんまい になりますか。

しき



こたえ

④ くろい えんぴつが 2ほん、あかい えんぴつが 7ほん あります。あわせて えんぴつは なんほん ありますか。

しき



こたえ

⑤ おとこのこが 3にんと おんなのこが 4にん で なわとびを しています。みんなで なんにん いる でしょうか。

しき




こたえ

☆ちからだめし☆
(ひきざん)

な
ま
え

① ばすに おきゃくが 8にん のっています。つぎの えきで 3にん おりました。9/10 おきゃくは なんにん になりましたか。 (きん)

しき



こたえ

② おにぎりが 6こ ありました。4こ たべると のこりは なんこ ですか。


しき



こたえ

③ あかい ふうせんが 5こ、あおい ふうせんが 2こ あります。ふうせんは ぜんぶで なんこ ありますか。

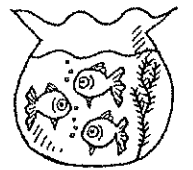
しき



こたえ

④ すいそうに きんぎょが 3びき います。せんせいが 6びき いました。ぜんぶで なんびき になりましたか。


しき



こたえ

⑤ はとが きに 7わ とまっていた。1わ とんできました。はとは みんなで なんわ でしょう。

しき




こたえ

うえ・した
みぎ・ひだり (1)

なまえ

Blank dashed box for writing names.

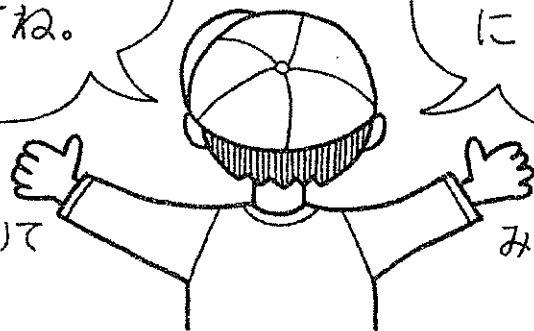
9/10
(きん)



うえにいる
どうぶつにあか、
したのどうぶつに
あおをぬってね。

みぎにいる
どうぶつにきいろ、
ひだりのどうぶつ
にみどりを
ぬってね。

ひだりて




みぎて

うえ・した
みぎ・ひだり (2)

なまえ

Blank dashed box for writing names.



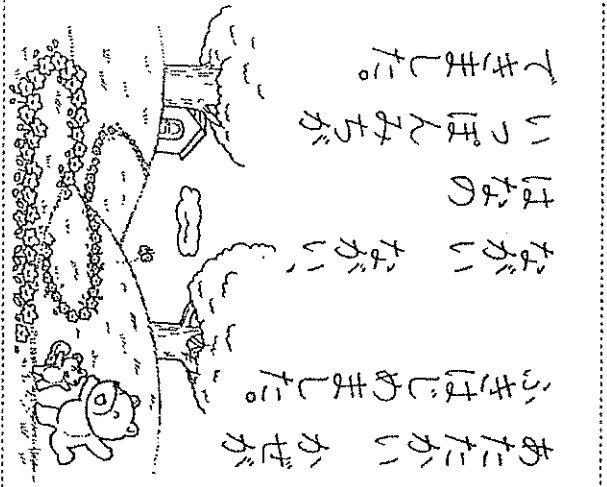
ひだりうえの
どうぶつに
きいろ、ひだりしたの
どうぶつに
みどりをぬってね。

みぎうえの
どうぶつに
あか、みぎしたの
どうぶつに
あおを
ぬってね。

ひだりて



みぎて



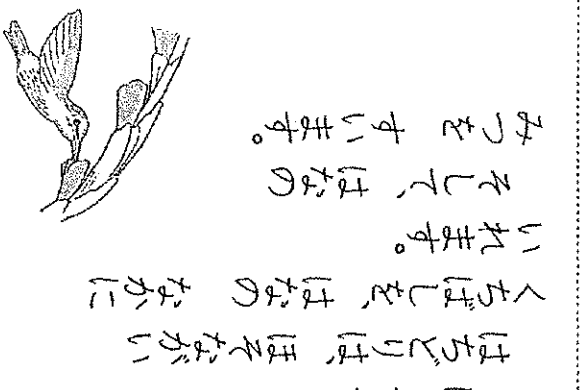
あたにかい かげが
ふきはじめました。
ながい ながい
はなの
いっぽんみちが
てきました。




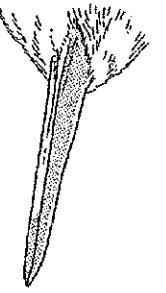
くまさんが
くまを みつけた。
「お、なにかな。
いっはい
はいて いる。」

⑥ はなの みち $\frac{9}{6}$ (げろ)
なまえ

- ① くまを みつけた。だから
か。 (15)
- ② くまさんは くまの ミルク
ななを ききに いたが。 (10)
- (くまの なかに
はいて いる ものが
なにか。)
- ③ 「しまった」と いたは だれ
てが。 (10)
- (くまさん
てが。)
- ④ どうして「しまった」と いた
が。 (15)
- (「おい」くまが
から ぼだから。)
- ⑤ どうして くまに なにも な
かたが。 (10)
- (くま)に (あが) が
あいて いたから。
- ⑥ はなの いっぽんみち どうして
てきたの。 (10)
- (くまさん)が (はな) の
(たね) を ちましたから
てきた。



ほそくて
ながく のびた
くちばしです。
これは なんの
くちばしでしょう。



くちばし
くちばしは、ほそながい
くちばしを、はなの なかに
いれます。
そして、はなの
みつを すいます。

② くちばし
なまえ

- ① ほうおの くちばしは、どんな、
ちばしでしょう。 (10)
- (ふとくて) ちばが (まが) だ
くちばし
- ② ほうおは、まがった くちばしの
ちばて、なにを しますか。 (10)
- かたい (たね) の
(から) を わります。
- ③ ほうおは、なにを たいますか。
たね (な) の
(ち) を たいます。
- ④ はちまの くちばしは、どんな
くちばしでしょう。 (10)
- ほそくて、ながく
のびた くちばし
- ⑤ はちまは、ほそながい くちばし
て、なにを しますか。 (10)
- はなの (な) に、いれて、はな
の (ち) を すいます。
- ⑥ あなたが ちばした、どんな
くちばしを ほしいですか。 (10)

☆ おさるがふねをかきました 9/8 (すい) なまえ

おさるが ふねをかきました

ふねも かいて みましよう

おさるが ふねをかきました

けむりを もくもく はかそうと


えんとう いっぽん たてました

なんだが すしぢびしいと

しっぽも いっぽん つけました

ほんとうに じょうずに かけたなと

さかだち いかい やりました



うそのしをよんでたえましよう。
(1) ふねをかいて みまようと おもつたのはだれですか。 (10)

(おさる)

(2) おさるは ふねに なにを たてましたか。 (10)

(えんとう)

(3) えんとうは なんのために たてましたか。 (10)

(けむりを もくもく はかそうと)

(4) おさるは すしぢびしいと ふねに なにを つけましたか。 (10)

(しっぽも いっぽん)


(5) おさるは ほんとうに じょうずに かけたなと おもつて なにを しましたか。 (10)

(さかだち)

(6) おさるが よろこんで いることが わかる ところを 一きょう かきましよう。 (10)

(さかだち いかい)

(7) やりましたか。 あなたも ふねの えきを かいて みましよう。 (10)



みつけた 9/9 (もく) なまえ

だんごおしほ

にや (こうえん) に います。

だんごおしほ くらくと

しめた ところが すきです。

おちばや いしを とける。

みつめる ことが できます。



せみは

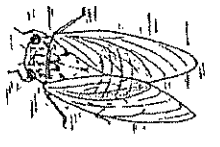
木の みみや えだに しまつて います。

せみは よく なまます。

にえが かんえる ところを

さがすと みつめる ことが

できます。



ばったは

くちばらに います。

ばったは すぐには

みつめる ことが できません。

ばったの いろが くちばの いろ


とに いるからです。

ひどが ちがつくと

ばったは おそろい

とびたちます。それ

みつめる ことが できます。



うそのしをよんでたえましよう。
(1) だんごおしほ (こうえん) に いますか。 (10x2)

(にや) や (こうえん)

(2) だんごおしほ どんな ところが すきですか。 (10)

(くらくと しめた ところ)

(3) せみは どこに しまつて いますか。 (10x2)

(木の みみや) や (えだ)

(4) せみは よく なまます。 (10)

(くちばら)

(5) ばったを すぐ みつめる ことが できないのは どうして ですか。 (10)

(ばったの いろが くちばの いろとに いるから)

(6) ひどが ちがつくと ばったは すぐには 見つめる ことが できませんか。 (10x3)

① だんごおし

(おちばや) や (いし) とける。

② せみ

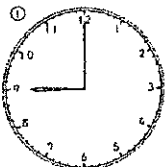

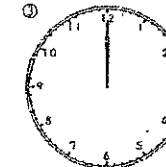
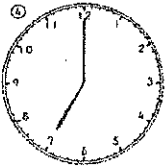
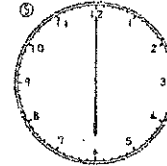
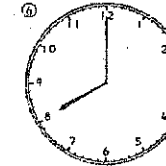
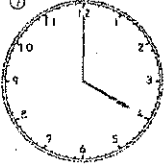
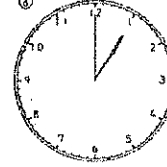

(くちば) が かんえる ところを さがす。

③ ばった

(くちばら) を みる。






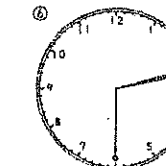



とけい なまえ こたえ


とけいの はりを よみましょう。

 (9)じ	 (3)じ	 (12)じ
 (7)じ	 (6)じ	 (8)じ
 (4)じ	 (1)じ	 (10)じ

とけい なまえ こたえ


とけいの はりを よみましょう。 9/6 (げつ)

 (3)じ(はん)	 (6)じ(はん)	 (5)じ(はん)
 (12)じ(はん)	 (7)じ(はん)	 (2)じ(はん)
 (11)じ(はん)	 (10)じ(はん)	 (8)じ(はん)

9までのたしざん なまえ こたえ 

9までのたしざん (50問)

① 1+7=8	⑩ 4+2=6	⑱ 1+3=4
② 4+3=7	⑪ 3+1=4	⑲ 4+2=6
③ 1+4=5	⑫ 3+6=9	⑳ 6+1=7
④ 3+3=6	⑬ 3+5=8	㉑ 3+4=7
⑤ 2+5=7	⑭ 5+1=6	㉒ 5+3=8
⑥ 3+4=7	⑮ 4+4=8	㉓ 1+8=9
⑦ 3+6=9	⑯ 3+4=7	㉔ 2+7=9
⑧ 2+3=5	⑰ 4+4=8	㉕ 4+5=9
⑨ 2+4=6	⑱ 4+3=7	㉖ 1+5=6
⑩ 3+6=9	㉑ 5+4=9	㉗ 7+2=9
⑪ 2+4=6	㉒ 1+1=2	㉘ 3+3=6
⑫ 4+1=5	㉓ 7+2=9	㉙ 2+7=9
⑬ 2+1=3	㉔ 4+5=9	㉚ 1+6=7
⑭ 5+2=7	㉕ 2+6=8	㉛ 6+3=9
⑮ 1+2=3	㉖ 2+7=9	㉜ 2+2=4
⑯ 3+2=5	㉗ 8+1=9	㉝ 6+3=9
⑰ 6+2=8	㉘ 3+5=8	

9までのたしざん なまえ こたえ 

9までのたしざん (50問) 9/6 (げつ)

① 2+6=8	⑩ 5+1=6	⑱ 4+3=7
② 3+4=7	⑪ 4+2=6	⑲ 2+5=7
③ 2+6=8	⑫ 6+3=9	⑳ 3+3=6
④ 1+4=5	⑬ 8+1=9	㉑ 3+1=4
⑤ 2+7=9	⑭ 2+4=6	㉒ 4+3=7
⑥ 3+5=8	⑮ 5+4=9	㉓ 1+5=6
⑦ 1+6=7	⑯ 3+6=9	㉔ 4+4=8
⑧ 5+3=8	⑰ 2+3=5	㉕ 4+5=9
⑨ 3+4=7	⑱ 2+2=4	㉖ 5+2=7
⑩ 1+8=9	㉑ 6+1=7	㉗ 1+3=4
⑪ 3+6=9	㉒ 4+5=9	㉘ 3+3=6
⑫ 2+7=9	㉓ 1+1=2	㉙ 7+1=8
⑬ 3+4=7	㉔ 2+4=6	㉚ 4+1=5
⑭ 1+7=8	㉕ 4+4=8	㉛ 6+3=9
⑮ 2+4=6	㉖ 3+2=5	㉜ 2+1=3
⑯ 6+2=8	㉗ 3+3=6	㉝ 7+2=9
⑰ 1+2=3	㉘ 7+2=9	

10までのたしざん なまえ こたえ

① あかいいろがみが 8まい、あおいいろがみが 1まいあります。いろがみは あわせて なんまいありますか。 (10)
しき $8 + 1 = 9$

② おむろが いけに 4わ、さしに 4わあります。ぜんぶで なんわありますか。 (10)
しき $4 + 4 = 8$

③ こたえ 9まい
④ きんぎょばちの きんぎょが 5ひきいます。そへ 2ひき きんぎょをいれました。きんぎょばちの きんぎょは なんひきになりましたか。 (10)
しき $5 + 2 = 7$

⑤ こたえ 7ひき
⑥ けむりが 3に 3わとまっています。そへ 7わ とんできました。みんなで なんわになりましたか。 (10)
しき $3 + 7 = 10$

⑦ こたえ 10まい
⑧ おむろが 2そう、いけに 4わかんています。1そうには 4にん、もう1そうには 3にんのついでいます。あわせて なんにんのついでいますか。 (10)
しき $4 + 3 = 7$

⑨ こたえ 10にん
⑩ こたえ 7にん

10までのたしざん なまえ こたえ

① しろい いぬが 2ひき、ちやいろいぬが 7ひきいます。いぬは ぜんぶで なんびきいますか。 (10)
しき $2 + 7 = 9$

② かごに みかんが 1こはいつています。そへ 9こみかんを いれました。かごの みかんは なんこになりましたか。 (10)
しき $1 + 9 = 10$


③ こたえ 9ひき
④ えみさんは、いろがみを 5まいもっています。おねえさんから 3まいもらいました。ぜんぶで なんまいになりましたか。 (10)
しき $5 + 3 = 8$

⑤ こたえ 10こ
⑥ あさに いちごを 4こたべました。ひろに 6こ たべました。あわせて、なんこ たべましたか。 (10)
しき $4 + 6 = 10$

⑦ こたえ 8まい
⑧ こたえ 10こ






なかまあつめ (10までのかず)

(1) おなじ なかまに おなじ いろをぬりましょう。



なまえ こたえ

(2) なかまの かずだけ ○に いろをぬりましょう。 9/6 (げつ)
□に かずを かきましよう。

	●●●●●●●●	□ 6
	●●●●●●●●	□ 7
	●●●●●●●●	□ 8
	●●●●●●●●	□ 9
	●●●●●●●●	□ 10

ひきざん③ (ちがいはいくつ) なたえ ことえ

① かじとむしを 8ひき、かまきりを 4ひき とりました。どちらが なんびき おおいでしょうか。

しき $8 - 4 = 4$

かじとむしが ことえ 4ひき おおい

② すずが 6こ、たいこが 5こ あります。どちらが なんこ おおいでしょうか。

しき $6 - 5 = 1$

ことえ すずが 1こ おおい

③ はたけで れいかが 9こ、かぼちゃが 7こ とれました。どちらが なんこ おおいでしょうか。

しき $9 - 7 = 2$

ことえ すいかが 2こ おおい

たしざん① ひきざん(10まで) なたえ

① だんごを 7ほん かって きました。おとうとが 2ほん たべました。のこりは なんほんでしょうか。

しき $7 - 2 = 5$

ことえ 5ほん

② あめを 4こ もって います。おねえさんから 3こ もらいました。みんなて なんこに なるでしょうか。

しき $4 + 3 = 7$

ことえ 7こ

③ おとこのこが 6にん、おんなのこが 3にん あそんで います。おとこのこが なんにん おおいでしょうか。

しき $6 - 3 = 3$

ことえ 3にん おおい

9/7 (か)

9までの ひきざん⑫ (50問) なたえ ことえ

- ① $7-4=3$ ⑧ $3-1=2$ ⑯ $9-8=1$
- ② $9-7=2$ ⑩ $9-3=6$ ⑰ $5-4=1$
- ③ $7-2=5$ ⑪ $6-1=5$ ⑱ $4-3=1$
- ④ $6-3=3$ ⑫ $8-3=5$ ⑲ $9-5=4$
- ⑤ $6-5=1$ ⑬ $8-7=1$ ⑳ $4-1=3$
- ⑥ $4-2=2$ ⑭ $9-5=4$ ㉑ $9-4=5$
- ⑦ $9-6=3$ ⑮ $3-2=1$ ㉒ $8-6=2$
- ⑧ $8-1=7$ ⑯ $8-7=1$ ㉓ $7-1=6$
- ⑨ $8-2=6$ ㉔ $7-5=2$ ㉕ $9-4=5$
- ⑩ $6-4=2$ ㉖ $6-4=2$ ㉗ $8-2=6$
- ⑪ $9-3=6$ ㉘ $9-7=2$ ㉙ $7-3=4$
- ⑫ $5-2=3$ ㉚ $8-5=3$ ㉛ $9-2=7$
- ⑬ $9-8=1$ ㉜ $7-4=3$ ㉝ $5-1=4$
- ⑭ $8-4=4$ ㉞ $6-3=3$ ㉟ $9-1=8$
- ⑮ $2-1=1$ ㊱ $9-6=3$ ㊲ $7-6=1$
- ⑯ $9-1=8$ ㊳ $5-3=2$ ㊴ $7-3=4$
- ⑰ $8-4=4$ ㊵ $6-2=4$

9までの ひきざん⑬ (50問) なたえ

- ① $7-4=3$ ⑧ $8-4=4$ ⑱ $7-4=3$
- ② $8-6=2$ ⑩ $9-4=5$ ⑲ $8-3=5$
- ③ $3-1=2$ ⑪ $5-2=3$ ⑳ $2-1=1$
- ④ $8-2=6$ ⑫ $6-4=2$ ㉑ $7-1=6$
- ⑤ $9-5=4$ ⑬ $4-2=2$ ㉒ $9-4=5$
- ⑥ $6-3=3$ ⑭ $7-3=4$ ㉓ $6-4=2$
- ⑦ $6-5=1$ ⑮ $8-7=1$ ㉔ $9-3=6$
- ⑧ $8-1=7$ ⑯ $5-1=4$ ㉕ $4-3=7$
- ⑨ $9-7=2$ ㉖ $7-5=2$ ㉗ $8-6=2$
- ⑩ $6-3=3$ ㉘ $9-6=3$ ㉙ $5-4=1$
- ⑪ $9-7=2$ ㉚ $3-2=1$ ㉛ $6-1=5$
- ⑫ $8-2=6$ ㉜ $9-1=8$ ㉝ $8-5=3$
- ⑬ $7-3=4$ ㉞ $9-8=1$ ㉟ $8-3=5$
- ⑭ $6-2=4$ ㊱ $4-1=3$ ㊲ $9-6=3$
- ⑮ $8-4=4$ ㊳ $9-8=1$ ㊴ $9-3=6$
- ⑯ $5-3=2$ ㊵ $8-7=1$ ㊶ $7-6=1$
- ⑰ $9-2=7$ ㊷ $7-2=5$

9/7 (か)

なんばんめ なたえ ことえ

○で かこみましょう。

① まえから 5にんめ

② まえから 5にん

③ まえから 8にんめ

④ まえから 8にん

⑤ まえから 10にんめ

なんばんめ なたえ

○で かこみましょう。

① うしろから 7にんめ

② うしろから 7にん


③ うしろから 3にんめ

④ うしろから 3にん

⑤ うしろから 9にんめ

なかまあつめ (10までのかず)

(1) おなじ なかまに おなじ いろを ぬりましょう。



なたえ ことえ

(2) なかまの かずだけ ○に いろを ぬりましょう。 □に かずを かきましょう。

		9
		6
		8
		10
		7

たしざん② ひきざん(10まで) なまえ こたえ

① どんぐりが 8こ、くりが 6こ あります。どちらが たくさん おおいですか。

しき $8 - 6 = 2$



こたえ どんぐりが 2こ おおい

② きんぎょが 5ひき、いもうとは 3ひき たくさん おおいですか。

しき $5 + 3 = 8$



こたえ 8ひき

③ すべりだて 7にん あそんでいます。そこへ 3にん きました。ぜんぶで なんにん になりましたか。

しき $7 + 3 = 10$



こたえ 10にん

たしざん③ ひきざん(10まで) なまえ こたえ

① にわとりが 7わい、おすは 4わい たくさん おおいですか。

しき $7 - 4 = 3$

こたえ 3わ

② きつねが 9ひき、たぬきが 8ひき たくさん おおいですか。

しき $9 - 8 = 1$

こたえ 1ひき

③ たけのこを 8ほん ほどきました。となりの ひこから 2ほん もらいました。あわせて なんほん になりましたか。


しき $8 + 2 = 10$

こたえ 10ほん

10までの たしざん① なまえ こたえ

- | | | | | | |
|----------------|----------------|----------------|-------------------|----------------|----------------|
| ① $7 + 1 = 8$ | ⑩ $1 + 3 = 4$ | ⑱ $2 + 6 = 8$ | ⑲ $2 + 1 = 3$ | ⑲ $4 + 1 = 5$ | ⑳ $2 + 3 = 5$ |
| ② $2 + 7 = 9$ | ⑪ $4 + 5 = 9$ | ⑲ $3 + 4 = 7$ | ⑲ $7 + 3 = 10$ | ⑲ $1 + 7 = 8$ | ㉑ $6 + 4 = 10$ |
| ③ $1 + 5 = 6$ | ⑲ $3 + 6 = 9$ | ⑲ $0 + 4 = 4$ | ⑲ $2 + 4 = 6$ | ⑲ $3 + 7 = 10$ | ㉑ $2 + 4 = 6$ |
| ④ $4 + 3 = 7$ | ⑲ $7 + 2 = 9$ | ⑲ $5 + 5 = 10$ | ⑲ $5 + 3 = 8$ | ⑲ $1 + 4 = 5$ | ㉑ $3 + 4 = 7$ |
| ⑤ $2 + 8 = 10$ | ⑲ $1 + 6 = 7$ | ⑲ $8 + 2 = 10$ | ⑲ $0 + 6 = 6$ | ⑲ $4 + 2 = 6$ | ㉑ $7 + 3 = 10$ |
| ⑥ $3 + 5 = 8$ | ⑲ $5 + 2 = 7$ | ⑲ $3 + 0 = 3$ | ⑲ $1 + 5 = 6$ | ⑲ $3 + 3 = 6$ | ㉑ $2 + 6 = 8$ |
| ⑦ $1 + 8 = 9$ | ⑲ $6 + 3 = 9$ | ⑲ $4 + 2 = 6$ | ⑲ $7 + 3 = 4 = 7$ | ⑲ $2 + 5 = 7$ | ㉑ $8 + 2 = 10$ |
| ⑧ $2 + 4 = 6$ | ⑲ $3 + 7 = 10$ | ⑲ $2 + 3 = 5$ | ⑲ $1 + 2 = 3$ | ⑲ $5 + 5 = 10$ | ㉑ $1 + 3 = 4$ |
| ⑨ $2 + 5 = 7$ | ⑲ $3 + 3 = 6$ | ⑲ $2 + 1 = 3$ | ⑲ $5 + 2 = 7$ | ⑲ $2 + 8 = 10$ | ㉑ $3 + 1 = 4$ |
| ⑩ $3 + 2 = 5$ | ⑲ $4 + 3 = 7$ | ⑲ $6 + 2 = 8$ | ⑲ $7 + 0 = 7$ | ⑲ $1 + 9 = 10$ | ㉑ $6 + 3 = 9$ |
| ⑪ $2 + 5 = 7$ | ⑲ $5 + 4 = 9$ | ⑲ $2 + 2 = 4$ | ⑲ $4 + 5 = 9$ | ⑲ $6 + 2 = 8$ | ㉑ $8 + 2 = 10$ |
| ⑫ $0 + 9 = 9$ | ⑲ $6 + 1 = 7$ | ⑲ $5 + 1 = 6$ | ⑲ $3 + 6 = 9$ | ⑲ $4 + 3 = 7$ | ㉑ $1 + 6 = 7$ |
| ⑬ $6 + 3 = 9$ | ⑲ $1 + 7 = 8$ | ⑲ $7 + 2 = 9$ | ⑲ $2 + 7 = 9$ | ⑲ $7 + 2 = 9$ | ㉑ $5 + 4 = 9$ |
| ⑭ $4 + 1 = 5$ | ⑲ $5 + 3 = 8$ | ⑲ $1 + 1 = 2$ | ⑲ $4 + 3 = 7$ | ⑲ $5 + 0 = 5$ | ㉑ $3 + 5 = 8$ |
| ⑮ $1 + 2 = 3$ | ⑲ $6 + 4 = 10$ | ⑲ $4 + 2 = 6$ | ⑲ $1 + 8 = 9$ | ⑲ $8 + 1 = 9$ | ㉑ $4 + 4 = 8$ |
| ⑯ $3 + 4 = 7$ | ⑲ $2 + 4 = 6$ | ⑲ $3 + 3 = 6$ | ⑲ $4 + 6 = 10$ | ⑲ $2 + 2 = 4$ | ㉑ $6 + 3 = 9$ |
| ⑰ $4 + 6 = 10$ | ⑲ $7 + 3 = 10$ | ⑲ $3 + 2 = 5$ | ⑲ $1 + 1 = 2$ | | |

なんばんめ なまえ こたえ



- ① うえから 2ばんめにあおいろをぬりましょう。
- ② うえから 4ばんめにきいろをぬりましょう。
- ③ したから 5ばんめにピンクをぬりましょう。
- ④ したから 3ばんめにちやいろをぬりましょう。
- ⑤ うえから 5ばんめにみどりをぬりましょう。

なんばんめ なまえ こたえ



- ① したから 3ばんめにあかいろをぬりましょう。
- ② したから 4ばんめにきいろをぬりましょう。
- ③ したから 2ばんめにはいいろをぬりましょう。
- ④ うえから 5ばんめにちやいろをぬりましょう。
- ⑤ したから 5ばんめにみどりをぬりましょう。

なかまあつめ (10までのかず)

(1) おなじなかまに おなじいろをぬりましょう。



なまえ こたえ

(2) なかまの かずだけ ○にいろをぬりましょう。 9/8 (すい) □に かずをかきましょう。

	●●●●●●●●	□ 7
	●●●●●●●●	□ 10
	●●●●●●●●	□ 8
	●●●●●●●●	□ 6
	●●●●●●●●	□ 9

10までのひきざん なまえ こたえ

⑨ まじめテスト(9) 国

① やさいもを やきました。 7こ やいて 4こ たべました。 やさいもは なんこ のこって いますか。(10) しき

$7-4=3$

② あひるが いかに 8わいます。 2わ すに かえりました。 いかに なんわ のこっていますか。 しき

$8-2=6$

こたえ 3こ こたえ 6わ

③ りんごの きに りんごが 9こ できました。 9こ したに おちてしまいました。 きに りんごは なんこ ありますか。 しき

$9-9=0$

④ おさるが 9ひき さのうえに いました。 3ひき やまに かえりました。 さに なんびきのこっていますか。 しき


$9-3=6$

こたえ 0こ こたえ 6ひき

⑤ みかんの 10こ あります。 6にんの こどもに 1こずつ あげました。 みかんは なんこ のこっていますか。(10) しき

$10-6=4$

こたえ 4こ



10までのひきざん なまえ こたえ

⑩ まじめテスト(10) 国

① おみせで りんごが 8こ、 めろんが 9こ うっています。 どちらが なんこ おおいでしょう。 しき

$9-8=1$

めろんが

こたえ 1こおおい。

② いかに おやがめが 4ひき、 こがめが 7ひき います。 どちらが なんびき おおいでしょう。 しき

$7-4=3$

こがめが

こたえ 3ひきおおい。

③ ゆきさんは おりがみを 8まい、 えみさんは 6まい もっています。 どちらが なんまい おおいでしょう。 しき

$8-6=2$

ゆきさんが

こたえ 2まいおおい。

④ あめが 10こ あります。 ゆうかさんは 6こ、 いもうとは 4こ もりました。 どちらが なんこ あめを おおく もりましたか。(10) しき

$6-4=2$

ゆうかさんが


こたえ 2こおおくもらた。

⑤ はとが やねに 5わ、 すずめが てんせんに 8わ います。 どちらが なんわ おおいでしょう。(10) しき

$8-5=3$

すずめが

こたえ 3わおおい。



10までの ひきざん なまえ こたえ

⑪ まじめテスト(11) 国

① $10-2=8$ ② $8-3=5$ ③ $7-6=1$

④ $8-6=2$ ⑤ $9-6=3$ ⑥ $8-7=1$

⑦ $5-2=3$ ⑧ $3-2=1$ ⑨ $10-6=4$

⑩ $10-7=3$ ⑪ $5-4=1$ ⑫ $8-1=7$

⑬ $8-4=4$ ⑭ $2-1=1$ ⑮ $9-5=4$

⑯ $7-1=6$ ⑰ $10-5=5$ ⑱ $8-5=3$

⑲ $9-4=5$ ⑳ $7-0=7$ ㉑ $7-7=0$

㉒ $6-5=1$ ㉓ $9-9=0$ ㉔ $5-3=2$

㉕ $10-4=6$ ㉖ $7-1=6$ ㉗ $8-2=6$

㉘ $7-3=4$ ㉙ $10-1=9$ ㉚ $7-5=2$

㉛ $8-8=0$ ㉜ $6-3=3$ ㉝ $5-0=5$

㉞ $9-2=7$ ㉟ $7-4=3$ ㊱ $10-9=1$

㊲ $6-4=2$ ㊳ $9-7=2$ ㊴ $4-2=2$

㊵ $10-8=2$ ㊶ $6-2=4$ ㊷ $9-3=6$

㊸ $4-3=1$ ㊹ $9-7=2$ ㊺ $7-2=5$

㊻ $9-8=1$ ㊼ $8-6=2$ ㊽ $10-3=7$

㊾ $7-3=4$ ㊿ $6-6=0$

10までの ひきざん なまえ こたえ

⑫ まじめテスト(12) 国

① $9-0=9$ ② $9-5=4$ ③ $10-9=1$

④ $8-3=5$ ⑤ $7-2=5$ ⑥ $8-0=8$

⑦ $10-2=8$ ⑧ $4-2=2$ ⑨ $10-4=6$

⑩ $7-5=2$ ⑪ $8-6=2$ ⑫ $7-1=6$

⑬ $9-4=5$ ⑭ $6-5=1$ ⑮ $5-3=2$

⑯ $3-2=1$ ⑰ $8-2=6$ ⑱ $10-6=4$

⑲ $8-7=1$ ⑳ $7-4=3$ ㉑ $9-9=0$

㉒ $10-5=5$ ㉓ $9-3=6$ ㉔ $9-8=1$

㉕ $7-6=1$ ㉖ $9-6=3$ ㉗ $10-3=7$

㉘ $9-1=8$ ㉙ $6-4=2$ ㉚ $7-4=3$

㉛ $5-0=5$ ㉜ $9-7=2$ ㉝ $6-2=4$

㉞ $10-8=2$ ㉟ $8-1=7$ ㊱ $9-2=7$

㊲ $8-5=3$ ㊳ $8-6=2$ ㊴ $5-4=1$

㊵ $5-2=3$ ㊶ $10-1=9$ ㊷ $8-4=4$

㊸ $6-3=3$ ㊹ $7-3=4$ ㊺ $7-7=0$

㊻ $10-7=3$ ㊼ $9-7=2$ ㊽ $7-3=4$

㊾ $6-6=0$ ㊿ $4-3=1$

いくつと なまえ こたえ

⑬ まじめテスト(13) 国

*□にあてはまる かずを かきましょう。

①	②	③	④
8	6	7	9
4 4	3 3	4 3	2 7

⑤	⑥	⑦	⑧
7	9	6	8
1 6	8 1	5 1	2 6

⑨	⑩	⑪	⑫
8	7	9	6
7 1	3 4	6 3	2 4

⑬	⑭	⑮	⑯
7	9	8	6
4 3	4 5	3 5	2 4

⑰	⑱	⑲	⑳
9	6	7	8
7 2	3 3	4 3	7 1

いくつと なまえ こたえ

⑭ まじめテスト(14) 国

*□にあてはまる かずを かきましょう。

①	②	③	④
7	7	6	10
3 4	1 6	4 2	5 5

⑤	⑥	⑦	⑧
8	7	10	9
5 3	2 5	2 8	6 3

⑨	⑩	⑪	⑫
10	6	9	6
7 3	1 5	8 1	2 4

⑬	⑭	⑮	⑯
6	8	8	10
3 3	2 6	4 4	6 4

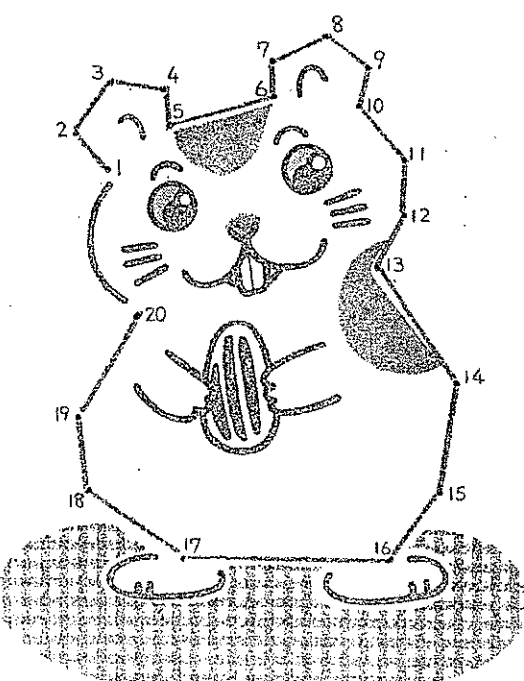
⑰	⑱	⑲	⑳
9	10	7	9
5 4	9 1	4 3	2 7

せんむすび なまえ こたえ

⑮ まじめテスト(15) 国

(20までのかず)

* 1から 20まで じゅんばんに せんで つなぎましょう。 なにが できるかな。




せんむすび なまえ こたえ

⑯ まじめテスト(16) 国

(20までのかず)

* 1から 20まで じゅんばんに せんで つなぎましょう。 なにが できるかな。



☆ちからためし☆ (たしざん) なまえ こたえ

① 6と2をたして8はできますか。 $6+2=8$

② 8は8でかまいません。 $8=8$

③ 4と5をたして9はできますか。 $4+5=9$

④ 9は9でかまいません。 $9=9$

⑤ 5と3をたして8はできますか。 $5+3=8$

⑥ 2と7をたして9はできますか。 $2+7=9$

⑦ 3と4をたして7はできますか。 $3+4=7$

⑧ 7は7でかまいません。 $7=7$

たしざんのもんだいもあります。

☆ちからためし☆ (ひきざん) なまえ こたえ

① 8は8より大きいから8はかまいません。 $8-3=5$

② 5は5より大きいから5はかまいません。 $5-1=4$

③ 6は6より大きいから6はかまいません。 $6-4=2$

④ 2は2より大きいから2はかまいません。 $2-1=1$

⑤ 5は5より大きいから5はかまいません。 $5+2=7$

⑥ 7は7より大きいから7はかまいません。 $7-1=6$

⑦ 3は3より大きいから3はかまいません。 $3+6=9$

⑧ 9は9より大きいから9はかまいません。 $9-2=7$

⑨ 7は7より大きいから7はかまいません。 $7-1=6$

⑩ 6は6より大きいから6はかまいません。 $6-1=5$

10までのかず なまえ こたえ

まどめテスト(1) 9/10 (きん)

① リンゴはなんにあてよう。□にかずをかきましょう。(5分)

② □にすじをかきましょう。(5分)

③ おおさいほうに○をしましょう。(5分)

④ えをみて□にあうかずをかきましょう。(5分)

⑤ ばんだはまえから 4 ばんの。 9 はんの。

⑥ きりんはまえから 6 はんの。 7 はんの。

⑦ こめはまえから 10 はんの。 9 はんの。

⑧ きりんのまえは 5 ひき、うしろは 4 ひきのどうぶつがいます。

10までのかず なまえ こたえ

まどめテスト(2) 9/10 (きん)

① いくつあてよう。すじを□に かきましょう。(5分)

② □にすじをかきましょう。(5分)

③ おおさいほうに○をしましょう。(5分)

④ えをみて□にあうかずをかきましょう。(5分)

⑤ うまはまえから 4 はんの。 7 はんの。

⑥ いぬはうしろから 8 はんの。 3 はんの。

⑦ うまは 8 より 6 小さい。 7 より 0 大きい。

⑧ おおさいほうに○をしましょう。(5分)

⑨ えをみて□にあうかずをかきましょう。(5分)

⑩ うまはまえから 4 はんの。 7 はんの。

⑪ いぬはうしろから 8 はんの。 3 はんの。

⑫ うまは 8 より 6 小さい。 7 より 0 大きい。

うえした みぎ・ひだり (1) なまえ こたえ

	あか
	まんなか
	あお

うえにいる どうぶつにあか、したのどうぶつにあおをぬってね。

みぎにいる どうぶつにきいろ、ひだりのどうぶつにみどりをぬってね。

うえした みぎ・ひだり (2) なまえ こたえ

			あか
	まんなか		
			あお

ひだりうえのどうぶつにきいろ、ひだりしたのどうぶつにみどりをぬってね。

みぎうえのどうぶつにあか、みぎしたのどうぶつにあおをぬってね。

せんむすび (20までのかず) なまえ こたえ

① 1から20までじゅんばんにせんでつなぎましょう。なにがでできるかな。

せんむすび (20までのかず) なまえ こたえ

① 1から20までじゅんばんにせんでつなぎましょう。なにがでできるかな。