

# 休校中のしゅくだい

9/1 (水) ~ 9/3 (金)

名前

☆おわったら見直しをして、おうちの人に〇つけをしてもらいましょう。

☆9/6 (月) 学校にもってきます。



9/1(水) 一日目

おむすびころりん ①

なまえ

むかし むかしの はなしたよ。  
 やまの はたけを たがやして、  
 おなかが すいた おじいさん。  
 そろそろ おむすび たべようか。  
 つつみを ひろげた その とたん、  
 おむすび ひとつ ころがって、  
 ころころ ころりん かけだした。  
 まて まて まてと おじいさん、  
 おいかけて いったら おむすびは、  
 はたけの すみの あなたの なか、  
 すっとなんと とびこんだ。

のぞいて みたが まっくらで、  
 みみを あてたら きこえたよ。  
 おむすび ころりん すっとなんと。  
 ころころ ころりん すっとなんと。



うえの ぶんを よんで こたえましょう。

(1) いつの はなしですか。 (10)

(2) おじいさんの はたけは どこに  
ありますか。 (10)

(3) おなかが すいた おじいさんは、  
なにを しようと しましたか。 (10)

(4) おむすびは いくつ ころがりまし  
たか。 (10)

(5) おむすびが ころがっている よう  
すが かかっている ところを かき  
ましよう。 (15)

(6) おむすびが ころがったので、おじ  
いさんは どうしましたか。 (15)

(7) ころがった おむすびは、どうなり  
ましたか。 (15)

(8) おじいさんが あなに みみを あ  
てると、どんな こえが きこえまし  
たか。 (15)

◆ かん字を 書きまじもつ。(—は、かん字と ひらがなを 書きまじもつ。)

- ① 一<sup>ひと</sup>  <sup>こと</sup> 話す。
- ② 人の どう  <sup>さ</sup>。
- ③  <sup>ちゆう</sup> <sup>しょく</sup> 食をとる。
- ④ 立  <sup>しゆん</sup> の ころ。
- ⑤  <sup>こう</sup> しんする
- ⑥  <sup>ちよう</sup> <sup>しょく</sup> 食の パン。
- ⑦ 今  <sup>や</sup> の 月。
- ⑧  <sup>がん</sup> 日の 空。
- ⑨  <sup>ふ</sup> 母の 名前。
- ⑩ 雪<sup>ゆき</sup>  <sup>がっ</sup> せん
- ⑪ 赤い 風<sup>かぜ</sup>  <sup>せん</sup>。
- ⑫ しよ  <sup>か</sup> の 風<sup>かぜ</sup>。
- ⑬  <sup>しき</sup> <sup>し</sup> 紙に 書く。
- ⑭ さん  <sup>こう</sup> 書
- ⑮  <sup>とう</sup> 点を うつ。
- ⑯ 一  <sup>がん</sup> と なる。
- ⑰  <sup>ぶ</sup> あつい 本。
- ⑱  <sup>さい</sup> I を する。
- ⑲  <sup>みずから</sup> 学ぶ。
- ⑳ 学校に  <sup>かよう</sup>。
- ㉑ まとを  <sup>はずす</sup>。
- ㉒  <sup>したしい</sup> 人。
- ㉓  <sup>えぎで</sup> あう。
- ㉔  <sup>ともだち</sup> 友達と  <sup>かたらう</sup>。
- ㉕  <sup>なまえを</sup>  <sup>しるす</sup>。

### 時ごとと時間 (2)

時ごとをもとめよう

名前 \_\_\_\_\_

① 今の時ごとは 3時30分です。  
つぎの時ごとをもとめましょう。



- ① 1時間前 ( )時( )分      ② 1時間後 ( )時( )分


② 今の時ごとは 7時20分です。  
つぎの時ごとをもとめましょう。



- ① 15分前 ( )時( )分      ② 30分後 ( )時( )分  
③ 10分前 ( )時( )分      ④ 25分後 ( )時( )分

③ ( )にあてはまる数をかき書きましょう。

- ① 1時間10分 = ( )分  
② 1時間25分 = ( )分  
③ 1時間40分 = ( )分  
④ 65分 = ( )時間( )分  
⑤ 75分 = ( )時間( )分  
⑥ 110分 = ( )時間( )分



### 時ごとと時間 (3)

やってみよう

名前 \_\_\_\_\_

絵を見て、時ごとを ( )に、時間を □に かき書きましょう。

学校を出る ( )時

20分後

家に づく ( )時( )分

□分後

夕食 ( )時( )分

しゅくだいを する ( )時

50分後



ピアノの れんしゅうを する ( )時( )分



# ふりかえりシート ①



## 時こくと時間

名前 \_\_\_\_\_

Ⅰ ②から ①までの <sup>じかん</sup>時間は、何分間ですか。  
また、何時間ですか。

① ②  → ①  ( ) <sup>ぶんかん</sup>分間

② ②  → ①  ( ) 分間

③ ②  → ①  ( ) 時間

Ⅱ 右の <sup>とけい</sup>時計を見て つぎの時こくをもとめましょう。

① 右の時計の時こく (  )

② 20 <sup>ぶんまえ</sup>分前の時こく ( )      ③ 15 <sup>あと</sup>分後の時こく ( )

④ 1時間前の時こく ( )      ⑤ 2時間後の時こく ( )

Ⅲ ( ) に あてはまる <sup>かず</sup>数を <sup>か</sup>書きましょう。

- ① 1時間15分 = ( ) 分
- ② 80分 = ( ) 時間 ( ) 分
- ③ 120分 = ( ) 時間




# ふりかえりシート ②

## 時こくと時間

名前 \_\_\_\_\_

Ⅰ つぎの時こくを <sup>ごぜん</sup>午前、<sup>ごご</sup>午後を <sup>か</sup>つけて <sup>か</sup>書きましょう。

- ① <sup>あさ</sup>朝                      ② <sup>ゆうがた</sup>夕方                      ③ <sup>よる</sup>夜

( ) ( ) ( )

Ⅱ つぎの <sup>じかん</sup>時間を <sup>もとめ</sup>ましょう。

① 午前8時から 午後1時までの 時間

 →  ( )

② 午前11時から 正午までの 時間

 →  ( )

### チャレンジ

つぎの [ ] に 午前 または 午後を、( ) に 時こくを 書きましょう。  
そして、時計に <sup>とけい</sup>みじかい はりと <sup>なが</sup>長い はりを <sup>か</sup>かきましょう。

<sup>ゆう</sup>園地についた <sup>じかん</sup>時こく      <sup>ゆう</sup>園地から <sup>かえ</sup>帰る 時こく  
午前10時20分      { } ( ) 時 ( ) 分

      3時間30分 <sup>あと</sup> → 

おむすびころりん (2)

なまえ

これは これは おもしろい。  
ふたつめ ころんと ころがすと、  
きこえる きこえる おなじ うた。

おむすび ころりん すっとうん  
ころころ ころりん すっとうん

おながが すいてる ことなんか、  
わすれて しまった おじいさん。  
うたに あわせて おどりだす。

おむすび ころりん すっとうん  
ころころ ころりん すっとうん

とうとう あしを すべらせて、  
じぶんも あなへ すっとうん、  
ねずみの おうちに とびこんだ。

おじいさん ころりん すっとうん。  
おむすび たくさん ありがとう。  
おいしい ごちそう さあ どうぞ。  
ねずみの おどりを みて ください。  
おれいに こづちを あげましょう。



うえの ぶんを よんで こたえましょう。

(1) おじいさんが ふたつめ ころんと  
ころがしたのは なにですか。 (10)

(2) おじいさんは なぜ ふたつめも  
ころがしたのですか。 (15)

(3) おじいさんは、なにを わすれて  
おどりだしたのですか。 (10)

(4) あしを すべらせた おじいさんは  
どうなりましたか。 (15)

(5) ㊦は だれの うたですか。 (10)

(6) ねずみは、おじいさんに なにを  
して あげようと、いって います  
か。三つ かきましよう。 (10×3)

(7) ねずみは、なんの おれいに こづ  
ちを あげようと、いって いるので  
すか。 (10)

5

三文字しりとり

三文字の言葉でしりとりをしましょう。

(れい)

あ	い	す
↓	↓	↓
す	い	か
↓	↓	↓
か	か	と
↓	↓	↓
と	ん	ぼ

い	ろ	り
↓	↓	↓
↓	↓	↓
↓	↓	↓

う	わ	さ
↓	↓	↓
↓	↓	↓
↓	↓	↓

え	ん	ざ
↓	↓	↓
↓	↓	↓
↓	↓	↓

お	も	り
↓	↓	↓
↓	↓	↓
↓	↓	↓

ふりがえり 三文字の言葉でしりとりすることができた。



	月
	日
名前	

5

三文字しりとり

三文字の言葉でしりとりをしましょう。

か		
↓	↓	↓
↓	↓	↓
↓	↓	↓

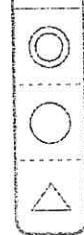
き		
↓	↓	↓
↓	↓	↓
↓	↓	↓

く		
↓	↓	↓
↓	↓	↓
↓	↓	↓

け		
↓	↓	↓
↓	↓	↓
↓	↓	↓

こ		
↓	↓	↓
↓	↓	↓
↓	↓	↓

ふりがえり 三文字の言葉でしりとりすることができた。



	月
	日
名前	



## たし算とひき算のひっ算 (5) 名前

たし算 (くり上がり2回) ④

前

①  $89 + 76$     ②  $55 + 75$     ③  $96 + 9$     ④  $86 + 48$

	8	9
+	7	6
<hr/>		

<hr/>		

<hr/>		

<hr/>		

⑤  $79 + 49$     ⑥  $45 + 55$     ⑦  $84 + 18$     ⑧  $7 + 99$

<hr/>		

<hr/>		

<hr/>		

<hr/>		

⑨  $95 + 5$     ⑩  $68 + 32$     ⑪  $77 + 89$     ⑫  $38 + 83$

<hr/>		

<hr/>		

<hr/>		


<hr/>		

⑬  $37 + 99$     ⑭  $59 + 73$     ⑮  $97 + 3$

<hr/>		

<hr/>		

<hr/>		



## たし算とひき算のひっ算 (6) 名前

たし算 (くり上がり1回・2回)

前

①  $70 + 80$     ②  $87 + 48$     ③  $76 + 33$     ④  $96 + 9$

	7	0
+	8	0
<hr/>		

<hr/>		

<hr/>		

<hr/>		

⑤  $63 + 78$     ⑥  $99 + 1$     ⑦  $90 + 45$     ⑧  $45 + 58$

<hr/>		

<hr/>		

<hr/>		

<hr/>		

⑨  $29 + 80$     ⑩  $7 + 97$     ⑪  $63 + 55$     ⑫  $88 + 66$

<hr/>		

<hr/>		

<hr/>		

<hr/>		

⑬  $4 + 96$     ⑭  $74 + 76$     ⑮  $53 + 47$

<hr/>		

<hr/>		

<hr/>		

たし算とひき算のひっ算 (11) 名前  
ひき算 (くり下がりが2回) ④

- ①  $141 - 47$    ②  $104 - 39$    ③  $132 - 68$    ④  $170 - 99$

$\begin{array}{r} 141 \\ - 47 \\ \hline \end{array}$			

- ⑤  $100 - 42$    ⑥  $110 - 13$    ⑦  $104 - 7$    ⑧  $100 - 5$


- ⑨  $101 - 5$    ⑩  $113 - 49$    ⑪  $122 - 28$    ⑫  $111 - 54$


- ⑬  $140 - 44$    ⑭  $120 - 54$    ⑮  $100 - 88$




たし算とひき算のひっ算 (12) 名前  
ひき算 (くり下がりが1回・2回)

- ①  $132 - 64$    ②  $112 - 80$    ③  $140 - 83$    ④  $100 - 9$

$\begin{array}{r} 132 \\ - 64 \\ \hline \end{array}$			

- ⑤  $128 - 63$    ⑥  $100 - 69$    ⑦  $153 - 58$    ⑧  $105 - 30$


- ⑨  $102 - 51$    ⑩  $120 - 65$    ⑪  $152 - 93$    ⑫  $105 - 8$


- ⑬  $130 - 33$    ⑭  $111 - 33$    ⑮  $137 - 57$




おむすびころりん (3)

なまえ

おれいの こづちを てに もって、  
 おうちに かえって おばあさんと、  
 おどった おどった すっとうん  
 こづちを ふり ふり すっとうん  
 すると どう した ことだろう。  
 こづちを ふる たび、  
 あれ あれ あれ、  
 しろい おこめが ざあざあ。  
 きんの こばんが ざっくざく。  
 それから ふたりは いつまでも、  
 なかよく たのしく くらしたよ。  
 おむすび ころりん すっとうん  
 ころころ ころりん すっとうん。



(平成二十三年度版 光村図書 こくご一年(上)かざぐるま はそべ ただし)

うえの ぶんを よんで ことえましょう。

(1) おじいさんは なにを てに もつ  
 て かえりましたか。 (10)

(2) おうちには だれが いましたか。(10)

(3) おじいさんと おばあさんは、こづ  
 ちを ふりふり なにを しました  
 か。 (15)

(4) しろい おこめが ててくる よう  
 すを、ぶんの なかの ことばで  
 きましよう。 (15)

(5) きんの こばんが ててくる よう  
 すを、ぶんの なかの ことばで  
 きましよう。 (15)

(6) こづちを ふる たび、なにが て  
 てきましたか。ふたつ かきましよう。  
 (10x2)

(7) それから、おじいさんと おばあさ  
 んは どうなりましたか。 (15)

24

お手つだいしたよ！

①●●

月	日	名前
---	---	----

✎きのう、おうちで、どんなことをお手つだいしましたか？

おわり	中	はじめ
気持ち <small>かんそつ</small>	お手つだいの せつめい。 どんなこと？	始め どんな お手つだい？
<p>             きのう、ばんごはんのお手つだいをしました。              じゃがいものかわを、道ぐをつかってむいていくお              手つだいです。なれてくると、早くかわをむくことが              できるようになりました。              自分がむいたじゃがいもが入ったカレーは、いつも              より、おいしかったです。           </p>		

ふりかえり

お手つだいについて「はじめ」「中」「おわり」で書くことができた。

◎○△

24

お手つだいしたよ！

①●●

月	日	名前
---	---	----

✎おうちで、どんなことをお手つだいしましたか？

おわり	中	はじめ
気持ち <small>かんそつ</small>	お手つだいの せつめい。 どんなこと？	始め どんな お手つだい？
<p>             (Blank space for writing)           </p>		

ふりかえり

お手つだいについて「はじめ」「中」「おわり」で書くことができた。

◎○△

たし算とひき算のひっ算 (13) 名前  
文しょうだい ①

① 1本 80円の えんぴつと 1こ 54円の けしゴムを  
か 買いました。あわせて いくらに なりますか。

しき




こた  
答え

ひっ算

② りんごは 1こ 120円, キウイは 1こ 98円です。  
ねだんの ちがいは いくらですか。

しき



答え

③ みさきさんは おり紙を 102まい もっています。  
お兄に 7まい あげると, のこりは 何まいに なりますか。

しき

答え

④ はやどさんは どんぐりを 75こ もっています。  
お兄さんに 47こ もらいました。ぜんぶで 何こに  
なりましたか。

しき



答え

たし算とひき算のひっ算 (14) 名前  
文しょうだい ②

① レストランに おきゃくさんが 132人 います。そのうち  
子どもは 45人です。おとなは 何人 いますか。

しき

こた  
答え

ひっ算

② あさがおの たねを 84こ とりました。ひまわりの たねは  
あさがおの たねより 56こ 多く とれました。

ひまわりの たねは 何こ とれましたか。

しき

答え

③ 貝ひろいをして, かいとさんは 貝を 121こ ひろい  
ました。妹は かいとさんより 34こ 少なく ひろいました。

妹は 貝を 何こ ひろいましたか。

しき

答え

④ まゆさんは 本を 48ページ 読みました。  
あと 52ページ あります。この 本は ぜんぶで 何ページ  
ありますか。

しき



答え

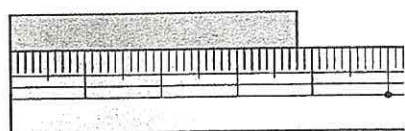
# 長さ (5)

cmとmmのかんけい/長さの計算①

名前 \_\_\_\_\_

① ( ) に あてはまる <sup>かず</sup> 数を <sup>か</sup> 書きましょう。

① 3cm 8mm = (        ) mm



cm	mm
3	8

mm	
30	8

② 4cm = (        ) mm

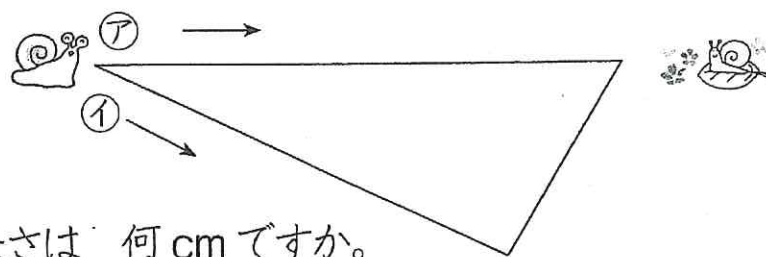
③ 10cm 5mm = (        ) mm

④ 50mm = (        ) cm

⑤ 24mm = (        ) cm (        ) mm

cm	mm

② かたつむりから <sup>なが</sup> 長さを はかって <sup>みち</sup> 道の くらべましょう。



① ①の 道の 長さは 何cmですか。

cm +  cm =  cm

② ②と ①の 道の 長さの ちがいは <sup>なん</sup> 何cmですか。

しき

こた  
答え

# 長さ (6)

長さの計算②

名前 \_\_\_\_\_

① <sup>けいさん</sup> 計算を しましょう。

① 4cm 6mm + 2cm 3mm =

② 3cm 4mm + 5cm =

③ 6cm 7mm - 1cm 2mm =

② 計算を しましょう。

① 5cm 7mm + 2cm 4mm =

② 6cm 5mm + 2cm 9mm =

③ 1cm 8mm + 3cm 2mm =

④ 6cm 3mm - 4cm 5mm =

⑤ 9cm 2mm - 3cm 6mm =

⑥ 7cm - 4cm 3mm =

cm	mm
5	7
+	2 4
8	1

cm	mm

cm	mm

長さの 計算は  
ひっ算でも できるよ。



cm	mm

cm	mm

cm	mm