



2年


休校中のしゅくだい

9/6 (月) ~ 9/10 (金)

名前

☆おわったら見直しをして、おうちの人に〇つけをしてもらいましょう。

☆9/13 (月)、学校にもってきます。



9/6 (月)

ずうっと、ずうっと、
大すきだよ (1)

なまえ

エルフの ことを はなします。
エルフは、せかいで いちばん
すばらしい 犬です。

④ ぼくたちは、いっしょに


大きく なった。でも、エルフの
ほうが、ずうっと 早く、大きく
なったよ。

ぼくは、エルフの あったかい
おなかを、いつも まくらに

① するのが すきだった。そして、
ぼくらは、いっしょに ゆめを
見た。

③ にいさんや いもうとも、

エルフの ことが 大すきだった。
でも、エルフは、ぼくの
犬だったんだ。



(平成二十三年度版 光村図書 こくこ一年(下)ともたち ハンスロウィルヘルムさく ひさやまたいちゃく)

上の 文を よんで こたえましょう。

(1) エルフは、どんな 犬ですか。 (6x2)

① () で いちばん

② () 犬。

(2) ④ ぼくたちと いうのは、だれと だ
れの ことですか。 (8x2)

() と ()

(3) ずうっと 早く、大きく なったのは
だれですか。 (10)

(4) ぼくは、どんな ことが すきでし
たか。 (15)

(5) ① は、どんな ゆめを 見た
と おもいますか。 (10x2)

ぼく ()

エルフ ()

(6) ぼくの ほかに、エルフの ことが
大すきだったのは、だれと だれです
か。 (6x2)

() と ()

(7) ③ () と () かいで ありますが、
どうして ぼくの 犬だと いって
いるのでしょうか。 (15)



なまえことば (名詞)

名前

(1) 「いぬ」「ねこ」「うま」などは、どうぶつの なまえを あらわす なまえことばです。つぎの ①〜④の なかまの なまえことばを から えらんで、() に 四つずつ 書きましよう。

① 教室きょうしつにある
ものの なまえ

()	()
()	()
()	()
()	()

② やさいの
なまえ



()	()
()	()
()	()
()	()

③ 人の なまえや
場所の なまえ


()	()
()	()
()	()
()	()

④ (ものではなく)
ことからの
なまえ

()	()
()	()
()	()
()	()



えんぴつ
トマト つくえ
アメリカ 春はる
黒ばん
じゃがいも
山田さん
国語 にんじん
イチロー 東京とうきょう
遠足 きゅうり
とけい あそび



(2) 絵えを見て、からだの ぶぶんを あらわす なまえことばを から えらんで () に 書きましよう。

手 足
口 首くび
かみの毛け
ひたい
はな
まゆ毛
目 耳

9/6 ちからだめし
くりあがりの①
たしざん(50たん)

なまえ




- ① $4+6=$
- ② $5+6=$
- ③ $9+6=$
- ④ $7+9=$
- ⑤ $6+8=$
- ⑥ $8+7=$
- ⑦ $3+9=$
- ⑧ $8+9=$
- ⑨ $7+5=$
- ⑩ $6+5=$
- ⑪ $1+9=$
- ⑫ $7+7=$
- ⑬ $5+7=$
- ⑭ $7+6=$
- ⑮ $5+9=$
- ⑯ $3+8=$
- ⑰ $8+3=$

- ⑱ $8+6=$
- ⑲ $8+2=$
- ⑳ $4+8=$
- ㉑ $6+7=$
- ㉒ $7+9=$
- ㉓ $9+4=$
- ㉔ $8+8=$
- ㉕ $9+9=$
- ㉖ $8+4=$
- ㉗ $4+7=$
- ㉘ $7+8=$
- ㉙ $2+8=$
- ㉚ $6+6=$
- ㉛ $5+5=$
- ㉜ $7+6=$
- ㉝ $7+4=$
- ㉞ $9+1=$

- ㉟ $4+8=$
- ㊱ $6+4=$
- ㊲ $9+7=$
- ㊳ $8+6=$
- ㊴ $1+9=$
- ㊵ $9+3=$
- ㊶ $9+5=$
- ㊷ $6+9=$
- ㊸ $4+9=$
- ㊹ $9+8=$
- ㊺ $5+8=$
- ㊻ $3+7=$
- ㊼ $9+2=$
- ㊽ $7+3=$
- ㊾ $2+9=$
- ㊿ $8+5=$

ちからだめし
くりあがりの②
たしざん(50たん)

なまえ



- ① $7+6=$
- ② $9+7=$
- ③ $9+1=$
- ④ $6+7=$
- ⑤ $8+4=$
- ⑥ $6+8=$
- ⑦ $5+8=$
- ⑧ $8+5=$
- ⑨ $6+7=$
- ⑩ $3+9=$
- ⑪ $6+8=$
- ⑫ $6+5=$
- ⑬ $5+5=$
- ⑭ $9+9=$
- ⑮ $4+8=$
- ⑯ $4+7=$
- ⑰ $2+8=$

- ⑱ $9+8=$
- ⑲ $3+7=$
- ⑳ $7+4=$
- ㉑ $7+3=$
- ㉒ $9+6=$
- ㉓ $4+9=$
- ㉔ $9+6=$
- ㉕ $5+9=$
- ㉖ $4+7=$
- ㉗ $8+3=$
- ㉘ $6+4=$
- ㉙ $7+7=$
- ㉚ $1+9=$
- ㉛ $8+7=$
- ㉜ $7+9=$
- ㉝ $6+9=$
- ㉞ $9+2=$

- ㉟ $6+6=$
- ㊱ $8+9=$
- ㊲ $5+7=$
- ㊳ $2+9=$
- ㊴ $8+6=$
- ㊵ $9+5=$
- ㊶ $3+8=$
- ㊷ $8+9=$
- ㊸ $7+9=$
- ㊹ $9+3=$
- ㊺ $5+6=$
- ㊻ $8+8=$
- ㊼ $4+6=$
- ㊽ $7+8=$
- ㊾ $9+4=$
- ㊿ $8+2=$

ちからだめし
くりさがりの①
ひきざん(50問)

なまえ



- | | | |
|----------|-----------|-----------|
| ① 3-6= | ⑱ 2-4= | ③⑤ 1-4= |
| ② 5-9= | ⑲ 4-9= | ③⑥ 4-7= |
| ③ 1-8= | ⑳ 7-8= | ③⑦ 1-6= |
| ④ 8-9= | ㉑ 3-8= | ③⑧ 6-9= |
| ⑤ 1-5= | ㉒ 2-5= | ③⑨ 6-8= |
| ⑥ 3-7= | ㉓ 4-6= | ④⑩ 4-8= |
| ⑦ 2-6= | ㉔ 7-9= | ④① 3-9= |
| ⑧ 4-5= | ㉕ 4-7= | ④② 2-6= |
| ⑨ 3-6= | ㉖ 1-3= | ④③ 5-7= |
| ⑩ 5-8= | ㉗ 2-7= | ④④ 4-9= |
| ⑪ 2-9= | ㉘ 6-7= | ④⑤ 2-3= |
| ⑫ 4-7= | ㉙ 3-4= | ④⑥ 8-9= |
| ⑬ 5-6= | ⑩⑩ 0-6= | ④⑦ 3-7= |
| ⑭ 3-6= | ⑩① 4-8= | ④⑧ 2-8= |
| ⑮ 3-5= | ⑩② 6-7= | ④⑨ 5-8= |
| ⑯ 1-7= | ⑩③ 7-8= | ⑤⑩ 3-8= |
| ⑰ 7-9= | ⑩④ 0-7= | |

ちからだめし
くりさがりの②
ひきざん(50問)

なまえ



- | | | |
|----------|-----------|-----------|
| ① 4-5= | ⑱ 2-4= | ③⑤ 3-4= |
| ② 7-8= | ⑲ 3-8= | ③⑥ 7-9= |
| ③ 7-9= | ⑳ 1-7= | ③⑦ 2-5= |
| ④ 2-4= | ㉑ 2-3= | ③⑧ 6-8= |
| ⑤ 3-6= | ㉒ 7-8= | ③⑨ 3-8= |
| ⑥ 2-7= | ㉓ 1-5= | ④⑩ 4-6= |
| ⑦ 5-6= | ㉔ 3-5= | ④① 1-8= |
| ⑧ 4-7= | ㉕ 3-6= | ④② 3-9= |
| ⑨ 5-9= | ㉖ 1-3= | ④③ 3-7= |
| ⑩ 1-2= | ㉗ 4-6= | ④④ 1-4= |
| ⑪ 2-9= | ㉘ 5-6= | ④⑤ 6-7= |
| ⑫ 8-9= | ㉙ 3-9= | ④⑥ 2-8= |
| ⑬ 6-8= | ⑩⑩ 1-5= | ④⑦ 3-6= |
| ⑭ 1-6= | ⑩① 4-9= | ④⑧ 4-8= |
| ⑮ 5-7= | ⑩② 5-8= | ④⑨ 6-9= |
| ⑯ 7-8= | ⑩③ 2-7= | ⑤⑩ 3-8= |
| ⑰ 2-6= | ⑩④ 6-9= | |

9/7 (火)

ずうっと、ずっと、
大すきだよ (2)

なまえ

エルフと ぼくは、まい日
いっしょに あそんだ。

エルフは、りすを おいかけの
が すきで、ママの かだんを

ほりかえすのが すきだった。

ときどき、エルフが わるさを

すると、うちの かぞくは、すごく

おこった。でも、エルフを

しかって いながら、みんなは、

エルフの こと、大すきだった。

すきなら すきと、いって

やれば よかったのに、だれも、いっ

て やらなかつた。いわなくつても、

わかると おもって いたんだね。

いっしか、ときが たって いき、

ぼくの せが、ぐんぐん のびる

あいだに、エルフは、どんどん

ふとって いった。



(平成二十三年度版 光村図書 こころの一年(下)とまたち ハンスロワイエルヘルムス くひさやまたいぢやく)

上の 文を よんで こたえましょう。

(1) エルフと ぼくは まい日、なにを
しましたか。 (10)

(2) エルフの すきだった ことを、二
つ かきましよう。 (10×2)

(3) ㊦ は、どんな ときに、おこつ
たのですか。 (15)

(4) ㊦ ㊦ は、だれに なんと
いって やらなかつたのですか。 (10×2)

() に ()
と いって やらなかつた。

② それは どうしてですか。 (15)

(5) いっしか、ときが たって いき、
ぼくと エルフは それぞれ どうな
りましたか。 (10×2)

エルフ

ぼく



かたかなで書くことば①

名前

① つぎの ①〜④のようなことばは、「かたかな」で書きます。
□の中のことばを ①〜④になかまわけて、()に
三つずつ書きましょう。

① ものの音をあらわすことば

【れい】ドンドン () () ()

② どうぶつの鳴き声

【れい】ワンワン () () ()

③ 外国の地名や人の名前

【れい】アメリカ () () ()




④ 外国から入ってきたことば



【れい】ガラス () () ()

ブルー テレビ ハワイ エジソン サッカー
パチパチ シンデレラ ニヤーン ガチャン
チュンチュン ライオン ドカーン



② □の中にかたかなを入れて、絵にあうことばをつくりましょう。

① ケー □  ② □ アノ  ③ ヨ □ ト 

④ スプ □  ⑤ □ ナナ  ⑥ ジ □ ム 

③ つぎの中で、かたかなで書くものに○をつけましょう。

① () つくえ ② () ベっど ③ () ふとん

④ () ぱん ⑤ () きもの ⑥ () めろん 

⑦ () こあら ⑧ () とけい ⑨ () くりすます

なつ休みまえの

けいさん

計算のまとめ

なまえ

くみ

ばん

1257ん

てん

① たし算を しましょう。

①
$$\begin{array}{r} 23 \\ +14 \\ \hline \end{array}$$

②
$$\begin{array}{r} 42 \\ +36 \\ \hline \end{array}$$

③
$$\begin{array}{r} 50 \\ +27 \\ \hline \end{array}$$

④
$$\begin{array}{r} 31 \\ +8 \\ \hline \end{array}$$

⑤
$$\begin{array}{r} 17 \\ +45 \\ \hline \end{array}$$

⑥
$$\begin{array}{r} 28 \\ +53 \\ \hline \end{array}$$

⑦
$$\begin{array}{r} 64 \\ +29 \\ \hline \end{array}$$

⑧
$$\begin{array}{r} 55 \\ +15 \\ \hline \end{array}$$

⑨
$$\begin{array}{r} 49 \\ +8 \\ \hline \end{array}$$

⑩
$$\begin{array}{r} 4 \\ +76 \\ \hline \end{array}$$

② ひき算を しましょう。

①
$$\begin{array}{r} 37 \\ -12 \\ \hline \end{array}$$

②
$$\begin{array}{r} 69 \\ -53 \\ \hline \end{array}$$

③
$$\begin{array}{r} 86 \\ -40 \\ \hline \end{array}$$

④
$$\begin{array}{r} 97 \\ -3 \\ \hline \end{array}$$

⑤
$$\begin{array}{r} 41 \\ -29 \\ \hline \end{array}$$

⑥
$$\begin{array}{r} 75 \\ -38 \\ \hline \end{array}$$

⑦
$$\begin{array}{r} 52 \\ -36 \\ \hline \end{array}$$

⑧
$$\begin{array}{r} 31 \\ -24 \\ \hline \end{array}$$

⑨
$$\begin{array}{r} 92 \\ -8 \\ \hline \end{array}$$

⑩
$$\begin{array}{r} 80 \\ -6 \\ \hline \end{array}$$

2年

なつ休みまえの

けい さん
計算のまとめな
まえ

<み

ぼん

1つ5つ

7つ

1 たし算を しましろう。

①
$$\begin{array}{r} 23 \\ +14 \\ \hline \end{array}$$

②
$$\begin{array}{r} 42 \\ +36 \\ \hline \end{array}$$

2 ひき算を しましろう。

①
$$\begin{array}{r} 37 \\ -12 \\ \hline \end{array}$$

②
$$\begin{array}{r} 69 \\ -53 \\ \hline \end{array}$$

③
$$\begin{array}{r} 27 \\ +45 \\ \hline \end{array}$$

④
$$\begin{array}{r} 4 \\ +76 \\ \hline \end{array}$$

③
$$\begin{array}{r} 41 \\ -29 \\ \hline \end{array}$$

④
$$\begin{array}{r} 75 \\ -38 \\ \hline \end{array}$$

⑤
$$\begin{array}{r} 80 \\ +45 \\ \hline \end{array}$$

⑥
$$\begin{array}{r} 69 \\ +63 \\ \hline \end{array}$$

⑤
$$\begin{array}{r} 115 \\ -72 \\ \hline \end{array}$$

⑥
$$\begin{array}{r} 134 \\ -69 \\ \hline \end{array}$$

⑦
$$\begin{array}{r} 73 \\ +87 \\ \hline \end{array}$$

⑧
$$\begin{array}{r} 95 \\ +7 \\ \hline \end{array}$$

⑦
$$\begin{array}{r} 152 \\ -56 \\ \hline \end{array}$$

⑧
$$\begin{array}{r} 102 \\ -9 \\ \hline \end{array}$$

⑨
$$\begin{array}{r} 204 \\ +59 \\ \hline \end{array}$$

⑩
$$\begin{array}{r} 618 \\ +6 \\ \hline \end{array}$$

⑨
$$\begin{array}{r} 671 \\ -34 \\ \hline \end{array}$$

⑩
$$\begin{array}{r} 325 \\ -7 \\ \hline \end{array}$$



ずうっと、ずうっと、
大すぎだよ (3)

なまえ

エルフは、としをとって、ねて
いることが おおく なり、さん
ぽを いやがるようになった。


⑥ ぼくは、とても しんぱいした。

ぼくたちは、エルフを、じゅうい
さんにつれて、いった。でも、

じゅういさんにも、できることは
なにも なかった。

「エルフは、としを
とったんだよ。」

じゅういさんは、
そう いった。



まもなく、エルフは、かいたんも
上れなく なった。でも、エルフは、

ぼくの、へやで、ねなくちゃ

いけないんだ。

ぼくは、エルフに、やわらかい

まくらを やって、ねる まえには、
かならず、

「エルフ、ずうっと、大すぎだよ。」
って、いって やった。エルフは、

きつと わか⑦ かって、くれたよね。

上の文をよんで、こたえましょう。

(1) ⑥ は、どうして、しんぱいし
たのですか。二つ かきましよう。(10×2)

(2) しんぱいした、ぼくたちは、エルフ
を、どこに、つれて、いきましたか。(10)

(3) じゅういさんは、なんと、いいまし
たか。(10)

(4) じゅういさんの、ことばを、きいた
とき、ぼくは、どう、おもったでしよ
う。(10)

(5) まもなく、エルフは、どうなりまし
たか。(10)

(6) どうして、エルフに、やわらかい
まくらを、やったのだと、おもいま
すか。(10)

(7) ぼくが、ねる、まえに、かならず
エルフに、して、やった、ことは、ど
んな、ことですか。(15)

(8) ⑦ は、エルフに、なにを
かって、ほしかったのでしよ。(15)



かたかなで書くことば②

名前

(1) かたかなで書いたことばの中に、まちがいがありません。正しく書きなおしましょう。

① ギター 

② プレゼント 

③ ケーキ 

④ ミツン 


⑤ レモソ 

⑥ ヨツト 

⑦ シリー 

⑧ ガラス 


(2) ひらがなをかたかなになおして書きましょう。

① さっかあ 

② かぬう 

③ せえたあ 

④ しゃつ 

⑤ あいろん 

⑥ こんぴゅうたあ

⑦ ぶらじる () ⑧ にゅうようく ()

(3) つぎの文の中で、かたかなで書くことばのよこにひき、そのことばをかたかなで()に書きましょう。

① わたしは みかんと ばななが すきです。 ()

② 犬が わんわん ほえている。 ()

③ きいろと ぴんくの 花が さきました。  ()

④ 「ふしぎの 国の ありす」の 本を 読みました。 ()

⑤ かみなりが ごろごろ 鳴っている。 ()

A1	1年 算数	年 — 月 — 日 氏名
-----------	--------------	-----------------

- 1 つぎのかずはいくつでしょう。
- ①10を4こ、1を6こあわせたかず
- ②10を10こあつめたかず
- ③100を1こ、10を2こあつめたかず
- ④68より4大きいかず
- ⑤93より8小さいかず
- ⑥□+○=10にあてはまるかず
- 2 けいさんをしましょう。
- ①3+5
- ②6+9
- ③70+20
- ④80+4
- ⑤56+3
- ⑥92+7

- 3 けいさんをしましょう。
- ①9-2
- ②10-8
- ③13-7
- ④90-40
- ⑤86-6
- ⑥76-5
- 4 けいさんをしましょう。
- ①4+3-1
- ②6-2+5
- ③10-9+7

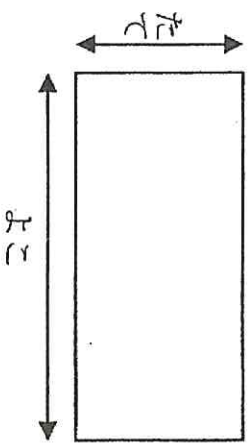
A2	1年 算数	年 ___ 月 ___ 日 名まえ _____
----	-------	----------------------------

5 男の子が12人、女の子が9人います。

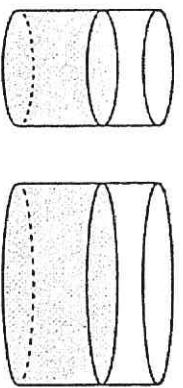
- ①あわせてなん人でしよう。
- ②どちらがなん人おおいでしよう。

6 くらべましょう。

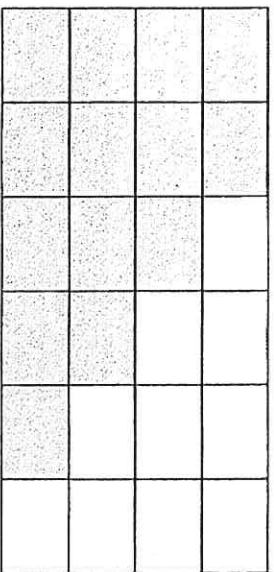
- ①どちらがながいでしよう。



- ②どちらがおおいでしよう。

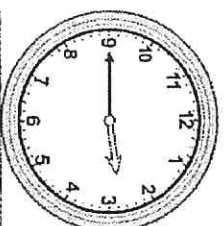


- ③どちらがひろいでしよう。

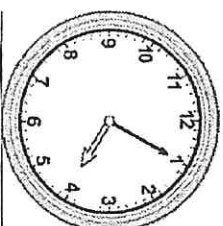


7 なんじなんぷんでしよう。

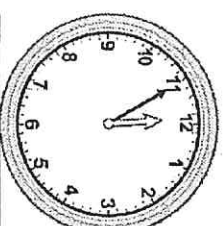
①




②



③



8 ・と・を せんで つないで、いろい
ろな かたちをかきましょう。



9/9 (木)

ずうっと、ずっと、
大すきだよ (4)

なまえ

ある あさ、目を さますと、
エルフが、しんで いた。
よるの あいだに しんだんだ。
ぼくたちは、エルフを にわに
うめた。みんな ないて、
かたを だきあった。

に いさんや いもうとも、エルフが
すきだった。でも、すきって 行って
やらなかった。ぼくだって、かなしく
て たまらなかつたけど、

⑥ いくらか きもちが らくだった。



だって、まいばん エルフに、
「ずうっと、大すきだよ。」

って、行って やって いたからね。

となりの 子が、子犬を くれると
いった。もらっても、エルフは きに
しないって わかって いたけど、
ぼくは、いらないうって いった。

かわりに、ぼくが、エルフの
バスケットを あげた。

⑦ ぼくより、その 子の ほうが、
バスケット いるもんね。

いつか、ぼくも、ほかの 犬を

かうだろうし、子ねこや きんぎよも
かうだろう。なにを かってても、

まいばん、きつと 行って やるんだ。
「ずうっと、ずっと、大すきだよ。」
って。

上の 文を よんで こたえましょう。

(1) ある あさ、目を さますと、エルフは どうなって いましたか。 (10)

(2) エルフが しんだのは、いつですか。 (10)

(3) しんだ エルフを、ぼくたちは どう う しましたか。 (10)

(4) エルフが しんで、みんなが かなしんでいる ようすが わかる ところを かきましよう。 (15)

(5) ぼくが、いくらか きもちが らくだったのは なぜですか。 (15)

(6) となりの 子が 子犬を くれると いったけど、ぼくは、いらないうって いったのは どうしてだと おもいますか。 (15)

(7) その 子とは だれですか。 (10)

(8) 「ずうっと、ずっと、大すきだよ。」と 行って もらうと、かっている どうぶつは どんな きもちに なるとおもいますか。 (15)



かたかなで書くことば



名前

Blank box for writing the name.

(1) の 中の ことばを ①②④に なかまわけして、 に
三つずつ 書きましょう。

(5×12)

① ものの 音を あらわす ことば

② どうぶつの 鳴き声

③ 外国の 地名や 人の 名前

④ 外国から 入って きた ことば

- コケコッコ
- テニス
- ガラガラ
- チョコレート
- フランス
- ドドーン
- ヒヒーン
- ロンドン
- ヒューヒュー
- ランドセル
- ピヨピヨ
- ベートーベン

(2) つぎの 中で、かたかなで 書く ものを 五つ えらんで ○を しましょう。

(4×5)

① ぱんだ ② えんぴつ ③ くらいおん

④ やきゅう ⑤ さっかあ  ⑥ ちゃわん

⑦ あめりか ⑧ まんじゅう ⑨ きやらめる 

(3) つぎの 文の 中で、かたかなで 書く ことばに せんを ひき、その ことばを かたかなで に 書きましょう。

(5×4)

① 風がだんだん強くなって、雨がざあざあふってきた。

② くつしたと シャツを せんたくする。

③ いちごを めろんを 買いました。

④ この けえきは ふわふわで おいしい。




9/9

長さ (1)


長さの たんい (cm) ①

名前 _____

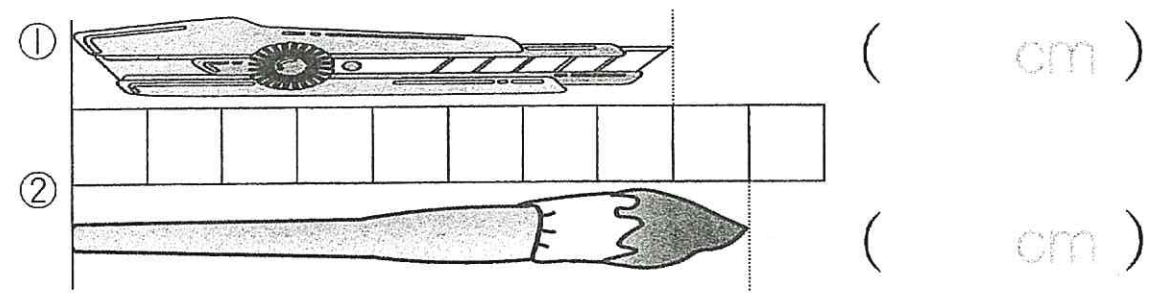
なが
長さを はかる たんいに センチメートルが
あります。センチメートルは
1cm と 書きます。



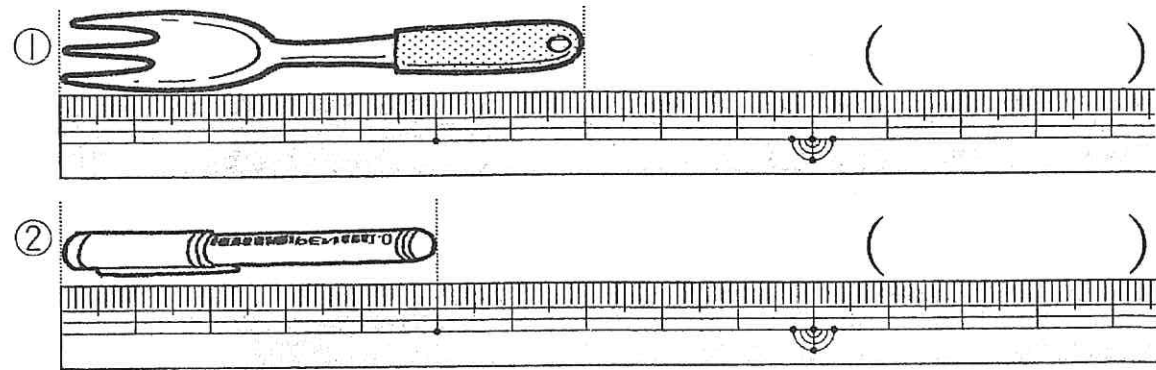
① cmを 書く れんしゅうを しましょう。



② |ますが 1cmの こうさくようし 工作用紙で 長さを はかりましょう。



③ ものさして 長さを はかりましょう。

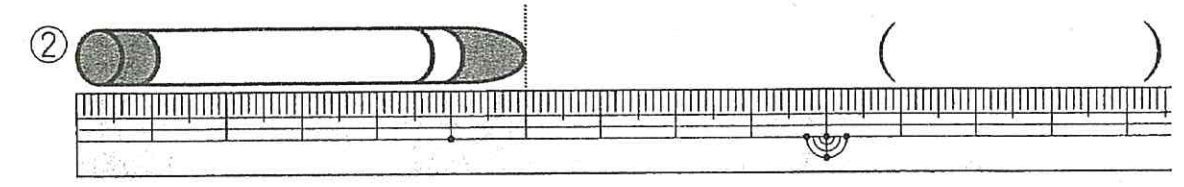
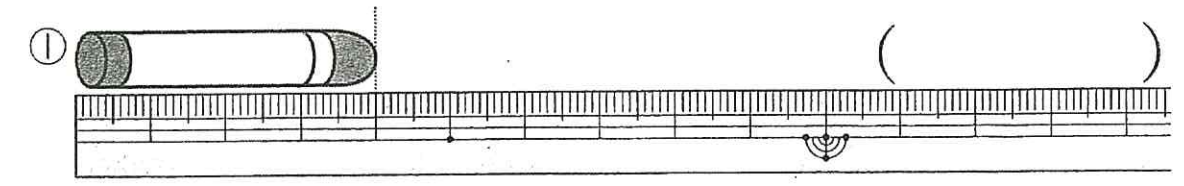


長さ (2)

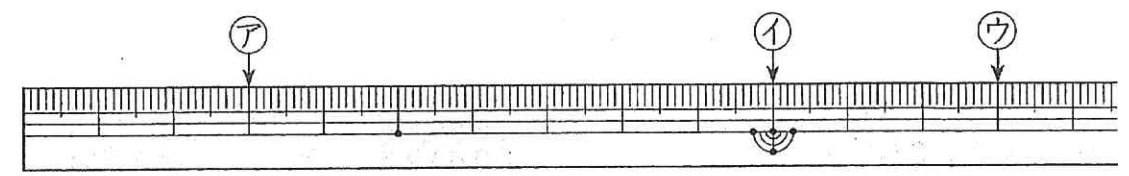
長さの たんい (cm) ②

名前 _____

① クレヨンの なが 長さは なん 何 cm ですか。



② 左の はしから ア, イ, ウまでの 長さは それぞれ 何 cm ですか。




ア (cm) イ (cm)
ウ (cm)

③ ものさして つぎの 長さの せん 線を ひきましょう。

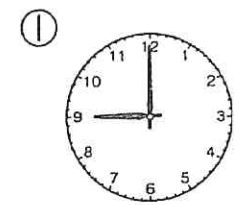
- ① 2cm ・
- ② 7cm ・
- ③ 11cm ・

時間と時こく①

なまえ

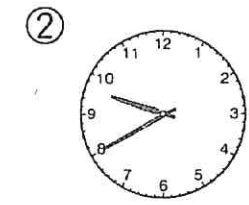



☆ きょうは ゆうえんちへ えん足です。



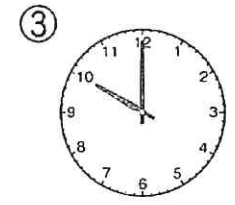
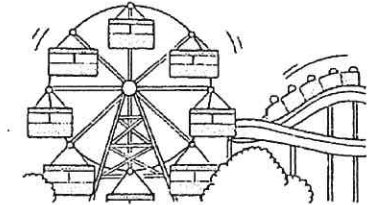
()時

学校を 出た 時こく



()時()分

ゆうえんちに ついた 時こく



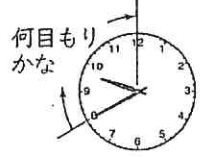
()時

あそびはじめた 時こく



① 上の 時計を 見て、①②③の 時こくを () に かきましょう。

② ゆうえんちに ついた 時こくから、あそびはじめた 時こくまでの 間に、長い はりは、何目もり すすみますか。



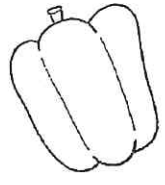
()目もり

③ 学校を 出た 時こくから、あそびはじめた 時こくまでの 時間は、何分間でしょうか。また 何時間でしょうか。
()分間, ()時間

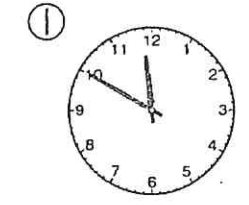
長い はりが 1目もり すすむ 時間は 1分間。
長い はりが 1まわり する 時間は、60分間 です。
60分間を 1時間と いいます。
みじかい はりは、1時 間に つぎの 数字まで すすみます。

時間と時こく②

なまえ

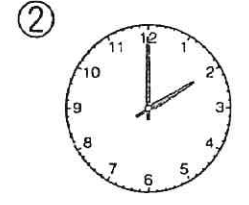


☆ きょうは ゆうえんちへ えん足です。



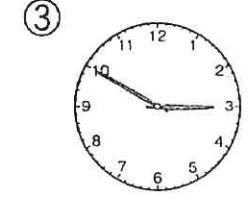
()時()分

おべんとうの 時こく 「いただきます」



()時

あそびが おわりの 時こく



()時()分

学校に かえってきた 時こく



① 上の 時計を 見て、①②③の 時こくを () に 書きましょう。

② おべんとうの 時こく「いただきます」から 40分後に 「ごちそうさま」をしました。「ごちそうさま」の 時こくを 書きましょう。

()時()分

③ あそびが おわりの 時こくから、学校に かえってきた 時こくまでの 時間は 何分間でしょうか。

()分間

④ おべんとうの 時こくから、学校に かえってきた 時こく までの 時間は 何時間でしょうか。

()時間

二年かんじ

くみ ばん

点

一 一 のがなをきき書きまじよう。 □ はかん字とひらがなをきき書きまじよう。かん字はよみがなをきき書きまじよう。【各二てん】

えい	なんでも がんばる。	きく。	大人
はる	やさしい はは	たかい。	上手
ひる	ちちおや	かぞえる。	今夜
まえ	おんどく	かたる。	早朝
げんき	こころえん	おもいで。	兄弟
きんようび	いっほうつこう	ともだちと あう。	近じよ
さんすう	きこゆう	合しようきよく	羽ばたく
うみ	いっしゅうかん	汽車	作文
きいろ	せいかつ	星が ひかる	電話
じかん	いちまんえん	地名	大工
がいこく	てんせん	言う	道ぐ
ふね	とびる。	図書	図画工作
じぶん	こたえる。		

二年 こへん (55)

なまえ ()

くみ ばん

□ じまのかたがのじまやうこのはなをなな画め

でよか。(各三つ)

① ↓ 右 () 画め

② ↓ 左 () 画め

③ ↓ 車 () 画め

□ じまのかたがの画のいぎ (じまやうこの)。(各三つ)

① 目 () 画

② 馬 () 画

③ 道 () 画

④ 糸 () 画

□ — の かん字と はんたいの いみの かん字を 書き

まじょう。(各三つ)

① つくえの 下 ↑↓ ()

② はこの 内がわ ↑↓ ()

□ かなで書く「じまやう」の「な」を □ から三つ選ぶ。

かたかなで書けまじょう。(各三つ)

① () わたあめ・ふらんす

② () ぱじやま・なわとび

③ () やまゆう・にやあにやあ

□ 「な」が「じまやう」を「な」にする。

— で ひなをまじょう。(各三つ)

【な】が

【じまやう】

① マトの花が ・ ちん。

② ねが ・ ね。

③ 赤い夕日が ・ ちゆう。

□ じまのいぎを ひかいて文を作りまじょう。(各三つ)

【だけ】

【しか】

Blank rectangular box for writing answers.

1. 計算をしましょう。

各2点

①
$$\begin{array}{r} 56 \\ + 23 \\ \hline \end{array}$$

②
$$\begin{array}{r} 34 \\ + 16 \\ \hline \end{array}$$

③
$$\begin{array}{r} 53 \\ - 48 \\ \hline \end{array}$$

④
$$\begin{array}{r} 80 \\ - 63 \\ \hline \end{array}$$

2. 計算をしましょう

各2点

① $48+7$

② $34+46$

③ $42-16$

④ $57-9$

3. ひき算の答えのたしかめになる、たし算のしきはどれですか。線でもすびましょう。

各2点

① $88-76$

• $27+7$

② $54-46$

• $6+68$

③ $34-7$

• $12+76$

• $8+46$

4. □にあう数を書きましょう。

各3点

① $80\text{mm} = \square \text{cm}$

② $9\text{cm}2\text{mm} = \square \text{mm}$

③ $23\text{mm} = \square \text{cm}$

5. □にあう長さのたんのいを書きましょう。

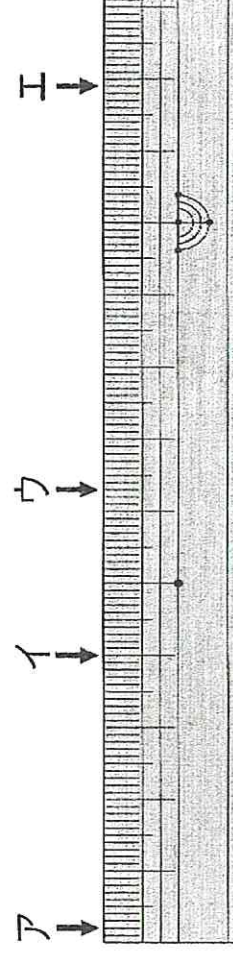
各3点

① えんぴつの長さ … $12 \square$

② 絵本のあつさ … $8 \square$

6. 左はしから、ア、イ、ウ、エまでの長さは、それぞれどれだけですか。

各2点




ア () ウ ()

イ () エ ()

7. 下の線の長さをものさしではかりましょう。

各3点



8. つぎの長さの直線をひきましょう。

各2点

① 3cm

② $7\text{cm}5\text{mm}$

9. 下のグラフとひょうを見て答えましょう。

すぎな生きものと人数

各3点

○					
○			○		
○					
○	○		○		
○	○	○	○		
○	○	○	○		
○	○	○	○		
ザリガニ	ウサギ	ハムスター	ダンゴムシ	カタツムリ	

① ウサギの数をひょうにあらわしましょう。

② ダンゴムシの数をひょうにあらわしましょう。

③ カタツムリの数をグラフにあらわしましょう。

④ 人数がおなじなのは、どの生き物とどの生き物

でしょう。(と)

生きもの	ザリガニ	ウサギ	ハムスター	ダンゴムシ	カタツムリ
人数	7		3		4

10. あやこさんは93ページの本を読んでいます。今日までに57ページ読みました。のこりは何ページですか。

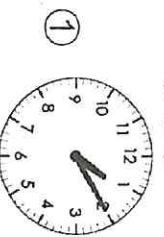
式、答 各3点

式)

(ひっ算スペース)

答え _____

11. ①の時刻から②の時刻までの時間は何分間で
すか。



②



3点

ある小学校の昼休みはじまり

昼休みおわり

答え _____

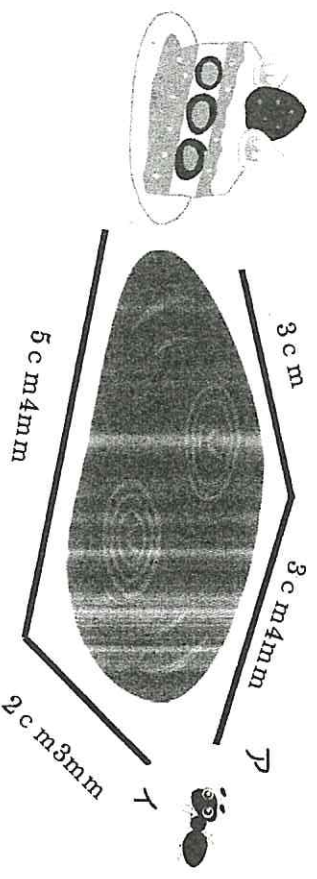
12. □にあう時間のだんいを書きましょう。各3点

① おふろに入っている時間... 15 □

② 学校にいる時間... 7 □

13. つぎの問題に答えましょう。

式、答 各2点



① アの線の長さはどれだけですか。

式)

答え _____

② イの線の長さはどれだけですか。

式)

答え _____

③ どちらの線がどれだけ長いでしょうか。

式)

答え _____

14. ゆかさんは、シールを27まいもっています。今日58まい買いました。シールは、ぜんぶで何まいになりましたか。

式、答 各3点

式)

(ひっ算スペース)

答え _____