



2年

# 休校中のしゅくだい（答え）

9/6（月）～9/10（金）

名前

☆おうちの人に〇つけをしてもらいましょう。間ちがえたもんだいは、なおしをしましょう。

☆答えは学校にもってきません。



ずうっと、ずうっと、  
大すきだよ (1)


なまえ

エルフのことを はなします。  
エルフは、せかいで いちばん  
すばらしい 犬です。

ぼくたちは、いっしょに  
大きく なった。でも、エルフの  
ほうが、ずうっと 早く、大きく  
なったよ。

ぼくは、エルフの あったかい  
おなかを、いつも まくらに  
するのが すきだった。そして、  
ぼくらは、いっしょに ゆめを  
見た。

に いさんや いもうとも、  
エルフの ことが 大すきだった。  
でも、エルフは、ぼくの  
犬だったんだ。



(平成二十三年版 光村図書 (こくろ一年)ともだち ハンスロワイヘルムさく ひさやまたいちやく)

上の 文を よんで こたえましょう。

(1) エルフは、どんな 犬ですか。 (6x2)

(1) せかい )で いちばん

(2) すばらしい )犬。

(2) ぼくたちと いうのは、だれと だ  
れの ことですか。 (8x2)

(ぼく )と (エルフ )

(3) ずうっと 早く、大きく なったのは  
だれですか。 (10)

( エルフ )

(4) ぼくは、どんな ことが すきでし  
たか。 (15)

( エルフの あったかいおなかを、  
いつもまくらにすること。 )

(5) ① は、どんな ゆめを 見た  
と おもいますか。 (10x2)

ぼく (れい) エルフといっしょに  
はしりまわるゆめ

エルフ (れい) ぼくになでて  
もらうゆめ

(6) ぼくの ほかに、エルフの ことが  
大すきだったのは、だれと だれです  
か。 (6x2)

( に いさん ) と ( いもうと )

(7) ② ———と かいて ありますが、  
どうして ぼくの 犬だと いって  
いるのでしょうか。 (15)

(れい)  
エルフのことを、だれよりもぼくが  
いちばん大すきだったから。



# なまえことば (名詞)

名前

(1) 「いぬ」「ねこ」「うま」などは、どうぶつ(動物)のなまえをあらわすなまえことばです。つぎの①～④のなかまのなまえことばをえらんで、( )に四つずつ書きましよう。

① 教室きょうしつにあるものもののなまえ

- (えんぴつ)
- (つくえ)
- (こくばん)
- (とけい)

② やさいやさいのなまえ



- (トマト)
- (じゃがいも)
- (にんじん)
- (きゅうり)

③ 人のなまえひとのなまえや場所ばしょのなまえ

- (アメリカ)
- (山田さん)
- (イチロー)
- (とうきょう)


④ (ものものではなく)ことことがらのなまえ

- (春)
- (国語)
- (遠足)
- (あそび)



えんぴつ  
 トマト つくえ  
 アメリカ 春  
 黒くろばん  
 じゃがいも  
 山田さん  
 国語 にんじん  
 イチロー 東京  
 遠足 きゅうり  
 とけい あそび

(2) 絵えを見て、からだのぶぶんぶぶんをあらわすなまえことばをからえらんで( )に書きましよう。



手 足  
 口 首  
 かみの毛  
 ひたい  
 はな  
 まゆ毛  
 目 耳

9/6 ちからだめし  
くりあがりの①  
たしざん(50問)


なまえ



- |            |            |            |
|------------|------------|------------|
| ① $4+6=10$ | ⑱ $8+6=14$ | ⑳ $4+8=12$ |
| ② $5+6=11$ | ⑲ $8+2=10$ | ㉑ $6+4=10$ |
| ③ $9+6=15$ | ⑳ $4+8=12$ | ㉒ $9+7=16$ |
| ④ $7+9=16$ | ㉑ $6+7=13$ | ㉓ $8+6=14$ |
| ⑤ $6+8=14$ | ㉒ $7+9=16$ | ㉔ $1+9=10$ |
| ⑥ $8+7=15$ | ㉓ $9+4=13$ | ㉕ $9+3=12$ |
| ⑦ $3+9=12$ | ㉔ $8+8=16$ | ㉖ $9+5=14$ |
| ⑧ $8+9=17$ | ㉕ $9+9=18$ | ㉗ $6+9=15$ |
| ⑨ $7+5=12$ | ㉖ $8+4=12$ | ㉘ $4+9=13$ |
| ⑩ $6+5=11$ | ㉗ $4+7=11$ | ㉙ $9+8=17$ |
| ⑪ $1+9=10$ | ㉘ $7+8=15$ | ㉚ $5+8=13$ |
| ⑫ $7+7=14$ | ㉙ $2+8=10$ | ㉛ $3+7=10$ |
| ⑬ $5+7=12$ | ㉚ $6+6=12$ | ㉜ $9+2=11$ |
| ⑭ $7+6=13$ | ㉛ $5+5=10$ | ㉝ $7+3=10$ |
| ⑮ $5+9=14$ | ㉜ $7+6=13$ | ㉞ $2+9=11$ |
| ⑯ $3+8=11$ | ㉝ $7+4=11$ | ㉟ $8+5=13$ |
| ⑰ $8+3=11$ | ㉞ $9+1=10$ |            |

ちからだめし  
くりあがりの②  
たしざん(50問)

なまえ



- |            |            |            |
|------------|------------|------------|
| ① $7+6=13$ | ⑱ $9+8=17$ | ㉑ $6+6=12$ |
| ② $9+7=16$ | ⑲ $3+7=10$ | ㉒ $8+9=17$ |
| ③ $9+1=10$ | ⑳ $7+4=11$ | ㉓ $5+7=12$ |
| ④ $6+7=13$ | ㉑ $7+3=10$ | ㉔ $2+9=11$ |
| ⑤ $8+4=12$ | ㉒ $9+6=15$ | ㉕ $8+6=14$ |
| ⑥ $6+8=14$ | ㉓ $4+9=13$ | ㉖ $9+5=14$ |
| ⑦ $5+8=13$ | ㉔ $9+6=15$ | ㉗ $3+8=11$ |
| ⑧ $8+5=13$ | ㉕ $5+9=14$ | ㉘ $8+9=17$ |
| ⑨ $6+7=13$ | ㉖ $4+7=11$ | ㉙ $7+9=16$ |
| ⑩ $3+9=12$ | ㉗ $8+3=11$ | ㉚ $9+3=12$ |
| ⑪ $6+8=14$ | ㉘ $6+4=10$ | ㉛ $5+6=11$ |
| ⑫ $6+5=11$ | ㉙ $7+7=14$ | ㉜ $8+8=16$ |
| ⑬ $5+5=10$ | ㉚ $1+9=10$ | ㉝ $4+6=10$ |
| ⑭ $9+9=18$ | ㉛ $8+7=15$ | ㉞ $7+8=15$ |
| ⑮ $4+8=12$ | ㉜ $7+9=16$ | ㉟ $9+4=13$ |
| ⑯ $4+7=11$ | ㉝ $6+9=15$ | ㊱ $8+2=10$ |
| ⑰ $2+8=10$ | ㉞ $9+2=11$ |            |

ちからだめし  
くりさがりの①  
ひきざん(50問)

なまえ



- |           |            |            |
|-----------|------------|------------|
| ① $3-6=7$ | ⑱ $2-4=8$  | ③⑤ $1-4=7$ |
| ② $5-9=6$ | ⑲ $4-9=5$  | ③⑥ $4-7=7$ |
| ③ $1-8=3$ | ⑳ $7-8=9$  | ③⑦ $1-6=5$ |
| ④ $8-9=9$ | ㉑ $3-8=5$  | ③⑧ $6-9=7$ |
| ⑤ $1-5=6$ | ㉒ $2-5=7$  | ③⑨ $6-8=8$ |
| ⑥ $3-7=6$ | ㉓ $4-6=8$  | ④⑩ $4-8=6$ |
| ⑦ $2-6=6$ | ㉔ $7-9=8$  | ④⑪ $3-9=4$ |
| ⑧ $4-5=9$ | ㉕ $4-7=7$  | ④⑫ $2-6=6$ |
| ⑨ $3-6=7$ | ㉖ $1-3=8$  | ④⑬ $5-7=8$ |
| ⑩ $5-8=7$ | ㉗ $2-7=5$  | ④⑭ $4-9=5$ |
| ⑪ $2-9=3$ | ㉘ $6-7=9$  | ④⑮ $2-3=9$ |
| ⑫ $4-7=7$ | ㉙ $3-4=9$  | ④⑯ $8-9=9$ |
| ⑬ $5-6=9$ | ⑳⑩ $0-6=4$ | ④⑰ $3-7=6$ |
| ⑭ $3-6=7$ | ㉑⑪ $4-8=6$ | ④⑱ $2-8=4$ |
| ⑮ $3-5=8$ | ㉒⑫ $6-7=9$ | ④⑲ $5-8=7$ |
| ⑯ $1-7=4$ | ㉓⑬ $7-8=9$ | ④⑳ $3-8=5$ |
| ⑰ $7-9=8$ | ㉔⑭ $0-7=3$ |            |

ちからだめし  
くりさがりの②  
ひきざん(50問)

なまえ



- |           |            |            |
|-----------|------------|------------|
| ① $4-5=9$ | ⑱ $2-4=8$  | ③⑤ $3-4=9$ |
| ② $7-8=9$ | ⑲ $3-8=5$  | ③⑥ $7-9=8$ |
| ③ $7-9=8$ | ⑳ $1-7=4$  | ③⑦ $2-5=7$ |
| ④ $2-4=8$ | ㉑ $2-3=9$  | ③⑧ $6-8=8$ |
| ⑤ $3-6=7$ | ㉒ $7-8=9$  | ③⑨ $3-8=5$ |
| ⑥ $2-7=5$ | ㉓ $1-5=6$  | ④⑩ $4-6=8$ |
| ⑦ $5-6=9$ | ㉔ $3-5=8$  | ④⑪ $1-8=3$ |
| ⑧ $4-7=7$ | ㉕ $3-6=7$  | ④⑫ $3-9=4$ |
| ⑨ $5-9=6$ | ㉖ $1-3=8$  | ④⑬ $3-7=6$ |
| ⑩ $1-2=9$ | ㉗ $4-6=8$  | ④⑭ $1-4=7$ |
| ⑪ $2-9=3$ | ㉘ $5-6=9$  | ④⑮ $6-7=9$ |
| ⑫ $8-9=9$ | ㉙ $3-9=4$  | ④⑯ $2-8=4$ |
| ⑬ $6-8=8$ | ⑳⑩ $1-5=6$ | ④⑰ $3-6=7$ |
| ⑭ $1-6=5$ | ㉑⑪ $4-9=5$ | ④⑱ $4-8=6$ |
| ⑮ $5-7=8$ | ㉒⑫ $5-8=7$ | ④⑲ $6-9=7$ |
| ⑯ $7-8=9$ | ㉓⑬ $2-7=5$ | ④⑳ $3-8=5$ |
| ⑰ $2-6=6$ | ㉔⑭ $6-9=7$ |            |

9/7  
ずうっと、ずっと、  
大すきだよ (2)

なまえ

エルフと ぼくは、まい日  
いっしょに あそんだ。

エルフは、りすを おいかけるの  
が すきで、ママの かだんを  
ほりかえすのが すきだった。

ときどき、エルフが わるさを  
すると、うちの かぞくは、すこく  
おこった。でも、エルフを

しかって いながら、みんなは、  
エルフの こと、大すきだった。  
すきなら すきと、いって

やれば よかったのに、だれも、いっ  
て やらなかつた。いわなくなつても、  
わかると おもつて いたんだね。

いっしか、ときが たつて いき、  
ぼくの せが、ぐんぐん のびる  
あいだに、エルフは、どんどん

ふとつて いった。



平成二十五年版 光村図書 こくご一年生とともだち ハンズワイルヘルムさく ひやまいたいぢやん

上の 文を よんで こたえましょう。

(1) エルフと ぼくは まい日、なにを  
しましたか。 (10)

いっしょにあそんだ。

(2) エルフの すきだった ことを、二  
つ かきましよう。 (10×2)

りすを、おいかけること。

ママのかだんをほりかえす  
こと。

(3) ②は、どんな ときに、おこつ  
たのですか。 (15)

エルフがわるさをしたとき

(4) ①③は、だれに なんと  
いって やらなかつたのですか。

( エルフ ) に ( すき )  
と いって やらなかつた。

② それは どうしてですか。 (15)  
いわなくなつても、わかると  
おもっていたから。

(5) いっしか、ときが たつて いき、  
ぼくと エルフは それぞれ どうな  
りましたか。 (10×2)

ぼく

( せがぐんぐんのびた。 )

エルフ

( どんどんふとつていった。 )



かたかなで書くことば①

名前

(1) つぎの ①〜④のようなことばは、「かたかな」で 書きます。  
□の中の ことばを ①〜④に なかまわけて、( ) に  
三つずつ 書きましよう。

① ものの 音を あらわす ことば

【れい】ドンドン (パチパチ) (ガチャン) (ドカーン)

② どうぶつなの 鳴き声

【れい】ワンワン (ブーブー) (ニャーン) (チュンチュン)

③ 外国の 地名ちや 人の 名前

【れい】アメリカ (ハワイ) (エジソン) (シンデレラ)

④ 外国から 入って きた ことば

【れい】ガラス (テレビ) (サッカー) (ライオン)



ブーブー テレビ ハワイ エジソン サッカー  
パチパチ シンデレラ ニャーン ガチャン  
チュンチュン ライオン ドカーン

(2) □の中に かたかなを 入れて、絵に あう ことばを つくりましよう。

① ケーキ



② ピアノ



③ ヨット



④ スプーン



⑤ バナナ



⑥ ジャム



(3) つぎの 中で、かたかなで 書く ものに ○を つけましよう。

① ( ) つくえ ② ( ) ベつど ③ ( ) ふとん

④ ( ) ぱん ⑤ ( ) きもの ⑥ ( ) めろん 

⑦ ( ) こあら ⑧ ( ) とけい ⑨ ( ) くりすます



2年

① たし算を しましう。

① 
$$\begin{array}{r} 23 \\ +14 \\ \hline 37 \end{array}$$

② 
$$\begin{array}{r} 42 \\ +36 \\ \hline 78 \end{array}$$

③ 
$$\begin{array}{r} 50 \\ +27 \\ \hline 77 \end{array}$$

④ 
$$\begin{array}{r} 31 \\ +8 \\ \hline 39 \end{array}$$

⑤ 
$$\begin{array}{r} 17 \\ +45 \\ \hline 62 \end{array}$$

⑥ 
$$\begin{array}{r} 28 \\ +53 \\ \hline 81 \end{array}$$

⑦ 
$$\begin{array}{r} 64 \\ +29 \\ \hline 93 \end{array}$$

⑧ 
$$\begin{array}{r} 55 \\ +15 \\ \hline 70 \end{array}$$

⑨ 
$$\begin{array}{r} 49 \\ +8 \\ \hline 57 \end{array}$$

⑩ 
$$\begin{array}{r} 4 \\ +76 \\ \hline 80 \end{array}$$

② ひき算を しましう。

① 
$$\begin{array}{r} 37 \\ -12 \\ \hline 25 \end{array}$$

② 
$$\begin{array}{r} 69 \\ -53 \\ \hline 16 \end{array}$$

③ 
$$\begin{array}{r} 86 \\ -40 \\ \hline 46 \end{array}$$

④ 
$$\begin{array}{r} 97 \\ -3 \\ \hline 94 \end{array}$$

⑤ 
$$\begin{array}{r} 41 \\ -29 \\ \hline 12 \end{array}$$

⑥ 
$$\begin{array}{r} 75 \\ -38 \\ \hline 37 \end{array}$$

⑦ 
$$\begin{array}{r} 52 \\ -36 \\ \hline 16 \end{array}$$

⑧ 
$$\begin{array}{r} 31 \\ -24 \\ \hline 7 \end{array}$$

⑨ 
$$\begin{array}{r} 92 \\ -8 \\ \hline 84 \end{array}$$

⑩ 
$$\begin{array}{r} 80 \\ -6 \\ \hline 74 \end{array}$$

2年

夏休み前の

## 計算のまとめ

なまえ

&lt;み

ほん

125Ch

Ch

① たし算を しましょう。

① 
$$\begin{array}{r} 23 \\ +14 \\ \hline 37 \end{array}$$

② 
$$\begin{array}{r} 42 \\ +36 \\ \hline 78 \end{array}$$

② ひき算を しましょう。

① 
$$\begin{array}{r} 37 \\ -12 \\ \hline 25 \end{array}$$

② 
$$\begin{array}{r} 69 \\ -53 \\ \hline 16 \end{array}$$

③ 
$$\begin{array}{r} 27 \\ +45 \\ \hline 72 \end{array}$$

④ 
$$\begin{array}{r} 4 \\ +76 \\ \hline 80 \end{array}$$

③ 
$$\begin{array}{r} 41 \\ -29 \\ \hline 12 \end{array}$$

④ 
$$\begin{array}{r} 75 \\ -38 \\ \hline 37 \end{array}$$

⑤ 
$$\begin{array}{r} 80 \\ +45 \\ \hline 125 \end{array}$$

⑥ 
$$\begin{array}{r} 69 \\ +63 \\ \hline 132 \end{array}$$

⑤ 
$$\begin{array}{r} 115 \\ -72 \\ \hline 43 \end{array}$$

⑥ 
$$\begin{array}{r} 134 \\ -69 \\ \hline 65 \end{array}$$

⑦ 
$$\begin{array}{r} 73 \\ +87 \\ \hline 160 \end{array}$$

⑧ 
$$\begin{array}{r} 95 \\ +77 \\ \hline 102 \end{array}$$

⑦ 
$$\begin{array}{r} 152 \\ -56 \\ \hline 96 \end{array}$$

⑧ 
$$\begin{array}{r} 102 \\ -99 \\ \hline 93 \end{array}$$

⑨ 
$$\begin{array}{r} 204 \\ +59 \\ \hline 263 \end{array}$$

⑩ 
$$\begin{array}{r} 618 \\ +6 \\ \hline 624 \end{array}$$

⑨ 
$$\begin{array}{r} 671 \\ -34 \\ \hline 637 \end{array}$$

⑩ 
$$\begin{array}{r} 325 \\ -7 \\ \hline 318 \end{array}$$




ずうっと、ずっと、  
大すきだよ (3)

なまえ

エルフは、としをとって、ねて  
いることが おおくなり、さん  
ぽを いやがるようになった。  
ぼくは、とても しんぱいした。

ぼくたちは、エルフを じゅうい  
さんにつれて いった。でも、  
じゅういさんにも、できることは  
なにも なかった。

「エルフは、としを  
とったんだよ。」  
じゅういさんは、  
そう いった。



まもなく、エルフは、かいたんも  
上れなく なった。でも、エルフは、  
ぼくの へやで ねなくちゃ  
いけないんだ。

ぼくは、エルフに やわらかい  
まくらを やって、ねる まえには、  
かならず、  
「エルフ、ずうっと、大すきだよ。」  
って、いって やった。エルフは、  
きつと わかかって くれたよね。

平成二十三年版 光村図書 国語 二年 上 150

上の 文を よんで こたえましょう。

- (1) ㊦ は、どうして しんぱいしたのですか。二つ かきましよう。(10×2)
- ねていることが おおくなった。
- (さんぽをいやがるようになった。
- (2) しんぱいした ぼくたちは、エルフを どこにつれて いきましたか。(10)
- (じゅういさん
- (3) じゅういさんは なんと いいましたか。(10)
- エルフは、としをとったんだよ。
- (4) じゅういさんの ことばを きいたとき、ぼくは どう おもったでしょう。(10)
- (れい) かなしいなあ。もっと いっしょにいたいなあ。
- (5) まもなく、エルフは どうになりましたか。(10)
- かいたんも 上れなくなりました。
- (6) どうして エルフに やわらかいまくらを やったのだと おもいますか。(10)
- (れい)
- エルフがよくねられるように。
- (7) ぼくが、ねる まえに かならず エルフに して やった ことは、どんな ことですか。(15)
- 「エルフ、ずうっと、大すきだよ。」って、いって やった。
- (8) ㊦ は、エルフに なにを わかかって ほしかったのでしょうか。(15)
- (れい)
- ぼくがエルフのことを 大すきだと いうこと。



# かたかなで書くことば②

名前

(1) かたかなで書いたことばの中に、まちがいがありません。正しく書きなおしましょう。

① ギター (ギター) ② プレゼント (プレゼント)

③ ケーキ (ケーキ) ④ ミツン (ミシン)

⑤ レモン (レモン) ⑥ ヨツト (ヨット)

⑦ シリー (ツリー) ⑧ ガラス (ガラス)

(2) ひらがなを かたかなに なおして 書きましょう。

① さっかあ (サッカー) ② かぬう (カヌー)

③ せえたあ (セーター) ④ しゃつ (シャツ)

⑤ あいろん (アイロン) ⑥ こんぴゅうたあ (コンピュータ)

⑦ ぶらじる (ブラジル) ⑧ にゅうようく (ニューヨーク)

(3) つぎの文の中で、かたかなで書くことばのよみに、せんをひき、そのことばをかたかなで( )に書きましょう。

① わたしは みかんと ばななが すきです。 (バナナ)

② 犬が わんわん ほえている。 (ワンワン)

③ きいろと ぴんくの 花が さきました。 (ピンク)

④ 「ふしぎの 国の ありす」の本を 読みました。 (アリス)

⑤ かみなりが ごろごろ 鳴っている。 (ゴロゴロ)

A1

1年 算数

— 年 — 月 — 日 — 曜日

名まえ

1

つぎの かずは いくつでしょう。

①10を4こ、1を6こあわせたかず  
46②10を10こあつめたかず  
100③100を1こ、10を2こあつめたかず  
120④68より4大きいかず  
72⑤93より8小さいかず  
85⑥□+○=10にあてはまるかず  
1、9 2、8 など

2

けいさんを しましょう。

①3+5=8

②6+9=15

③70+20=90

④80+4=84

⑤56+3=59

⑥92+7=99

3

けいさんを しましょう。

①9-2=7

②10-8=2

③13-7=6

④90-40=50

⑤86-6=80

⑥76-5=71

4

けいさんを しましょう。

①4+3-1=6

②6-2+5=9

③10-9+7=8

A2

1年 算数

\_\_\_年 \_\_\_くみ \_\_\_ばん  
名まえ

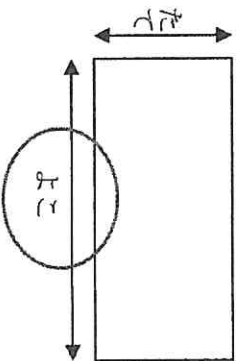
5 男の子が12人、女の子が9人います。

①あわせてなん人でしよう。  
21人

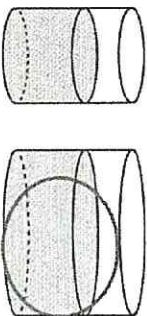
②どちらがなん人おおいでしよう。  
おとこの子が3人おおい

6 くらべましょう。

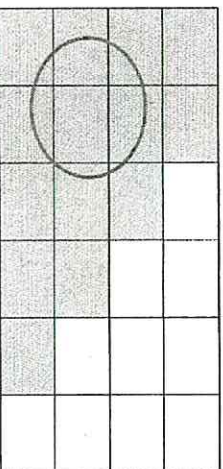
①どちらがながいでしよう。



②どちらがおおいでしよう。

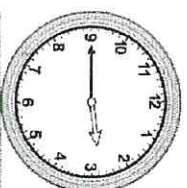


③どちらがひろいでしよう。



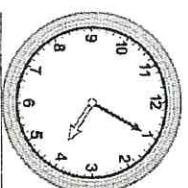
7 なんじなんふんでしょう。

①



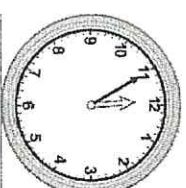
2じ45ふん

②



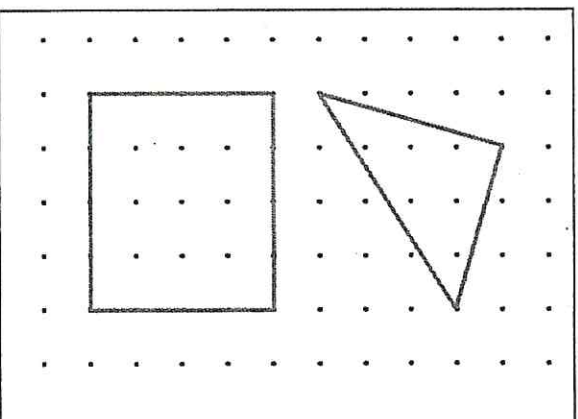
4じ5ふん

③



11じ55ふん

8 ・と・を せんで つないで、いろい  
ろなかたちをかきましょう。 れい



ずうっと、ずっと、  
大すきだよ (4)

なまえ

ある あさ、目を さますと、  
エルフが、しんで いた。  
よるの あいだに しんだんだ。  
ぼくたちは、エルフを にわに  
うめた。みんな ないて、  
かたを だきあった。

に いさんや いもうとも、エルフが  
すきだった。でも、すきって いった  
やらなかった。ぼくだって、かなしく  
て たまらなかったけど、

⑤ いくらか きもちが らくだった。  
だって、まいばん エルフに、  
「ずうっと、大すきだよ。」



って、いった やって いたからね。  
となりの 子が、子犬を くれると  
いった。もらっても、エルフは きに  
しないって わかって いたけど、  
ぼくは、いらないうって いった。

かわりに、ぼくが、エルフの  
バスケットを あげた。  
⑥ ぼくより、その 子の ほうが、  
バスケット いるもんね。

いつか、ぼくも、ほかの 犬を  
かうだろうし、子ねこや きんぎよも  
かうだろう。なにを かって、  
まいばん、きつと いった やるんだ。  
「ずうっと、ずっと、大すきだよ。」  
って。

平成二十三年版 光村図書 こくご一年 じととまご ハンズウィールヘルムさく ひきやまたいちやく

上の 文を よんで こたえましょう。

(1) ある あさ、目を さますと、エルフは どうなって いましたか。 (10)

(2) エルフが しんだのは、いつですか。 (10)

(3) よるの あいだ

(4) しんだ エルフを、ぼくたちは どう しましたか。 (10)

(5) にわに、うめた。

(6) エルフが しんで、みんなが かなしく いる ようすが わかる ところを かきましよう。 (15)

ないて、かたをだきあった。

(7) ぼくが、いくらか きもちが らくだったのは なぜですか。 (15)

(8) まいばんエルフに、「ずうっとずっと大すきだよ。」っていつてやっていたから。 (15)

(9) となりの 子が 子犬を くれると いったけど、ぼくは、いらないうって いったのは どうしてだと おもいますか。 (15)

(10) (れい) エルフのことを わすれられなかったから。 (15)

(11) ⑥ その 子とは だれですか。 (10)

(12) ⑧ 「ずうっと、ずっと、大すきだよ。」と いった もらうと、かっている どうぶつは どんな きもちに なる と おもいますか。 (15)

(13) (れい) うれしい きもち ほんっとする きもち (15)

【かためし】

かたかなで書くことば

100点

名前

(1)     の中の ことばを ①～④に なかまわけて、( )に  
三つずつ 書きましよう。

(5×12)

① ものの 音を あらわす ことば

(ガラガラ) (ドドーン) (ヒューヒュー)

② どうぶつの 鳴き声

(コケコッコ) (ヒヒーン) (ピヨピヨ)

③ 外国の 地名や 人の 名前

(フランス) (ロンドン) (ベートーベン)

④ 外国から 入って きた ことば

(テニス) (チョコレート) (ランドセル)

コケコッコ
テニス
ガラガラ
チョコレート
フランス
ドドーン
ヒヒーン
ロンドン
ヒューヒュー
ランドセル
ピヨピヨ
ベートーベン

(2) つぎの 中で、かたかなで 書くものを 五つ えらんで ○を しましよう。

(4×5)

① ( ) ぱんだ

② ( ) えんぴつ

③ ( ) らいおん

④ ( ) やきゅう

⑤ ( ) さっかあ

⑥ ( ) ちゃわん



⑦ ( ) きゃらめる



⑦ ( ) あめりか

⑧ ( ) まんじゅう

⑨ ( ) きゃらめる

(3) つぎの 文の 中で、かたかなで 書くことばに     せんを ひき、そ  
の ことばを かたかなで ( ) に 書きましよう。

(5×4)

① 風がだんだん強くなって、雨が ギアザあふってきた。( ザザ )

② くつしたと しゃつを せんたくする。( シャツ )

③ いちごと めろんを 買いました。( メロン )

④ この けえきは ふわふわで おいしい。( ケーキ )





P24

長さ (1)  
長さの大きい (cm) ① 8 ② 10

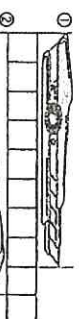

長さを はかる たんに センチメートルが  
あひます。 (センチメートルは  
1cm と ひきあます。)

1cm

④ cm を ちく かんしやうを せまします。

1cm 2cm 3cm 4cm 5cm

② 1ますが 1cm の 工作用紙で 長さを はかりまします。

①  ( 8cm )  
②  ( 9cm )


長さ (2)  
長さの大きい (cm) ③ 8 ④ 10

④ 7cm の 長さは 何 cm ですか。

①  ( 4cm )

②  ( 6cm )

③ 左の はしから ⑤ ⑥ ⑦までの 長さは それぞれ  
何 cm ですか。

①  ( 3cm ) ② ( 10cm )  
③ ( 13cm )

④ ものざして つぎの 長さの びきまを せまします。

① 2cm  
② 7cm  
③ 11cm  
略

P25

長さ (3)  
長さの大きい (mm) ① 8 ② 10

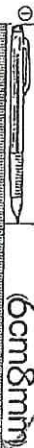

1cm を 筒し 長さに 10に 分けた  
1こぶを ミリメートル といい、  
1mm と ひきあます。 1cm = 10mm です。

1mm

④ mm を ちく かんしやうを せまします。

2mm 3mm 4mm 5mm

② つぎの 長さは 何 cm 何 mm ですか。

①  ( 6cm 8mm )  
②  ( 5cm 3mm )

③ 左の はしから ⑤ ⑥ ⑦までの 長さを それぞれ  
きまを せまします。

① ( 7mm ) ② ( 3cm 2mm )  
③ ( 4cm 5mm ) ④ ( 10cm 9mm )

長さ (4)  
長さの大きい (mm) ② 8 ③ 10

④ つぎの 長さを ものざして はかりまします。

①  ②  ③  ④ 

⑤ mm 2cm 6mm 4cm 5mm

② つぎの 長さを ものざして はかりまします。

①  ②  ③  ④ 

⑤ ( 6cm 7mm )  
⑥ ( 2cm 8mm )  
⑦ ( 6cm 1mm )  
⑧ ( 5cm 7mm )

④ つぎの 長さの びきまを せまします。

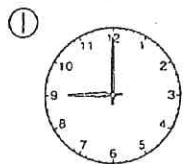
① 8cm 3mm  
② 6cm 6mm  
③ 9mm  
④ 9cm 2mm  
略

## 時間と時々①

なまえ

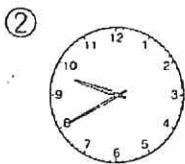



☆ きょうは ゆうえんちへ えん足です。



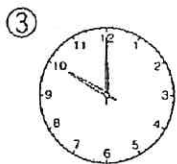
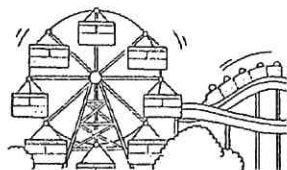
( 9 ) 時

学校を出た時こく



( 9 ) 時 ( 40 ) 分

ゆうえんちについた時こく



( 10 ) 時

あそびはじめた時こく



① 上の時計を見て、①②③の時こくを( )にかきましょう。

② ゆうえんちについた時こくから、あそびはじめた時こくまでの間に、長いはりは、何目もりすすみますか。



( 20 ) 目もり

③ 学校を出た時こくから、あそびはじめた時こくまでの時間は、何分間でしょうか。

また、何時間でしょうか。

( 60 ) 分間、( 1 ) 時間

長いはりは 1目もり  
すすむ時間は 1分間。  
長いはりは 1まわり  
する時間は、60分間  
です。

60分間を 1時間と  
いいます。

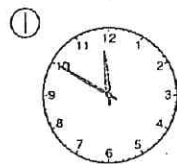
みじかいはりは、1時  
間に つぎの 数字まで  
すすみます。

## 時間と時々②

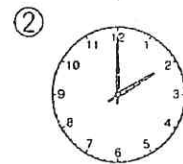
なまえ



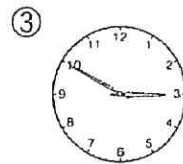
☆ きょうは ゆうえんちへ えん足です。



( 11 ) 時 ( 50 ) 分

おべんとうの時こく  
「いただきます」

( 2 ) 時

あそびが おわりの  
時こく

( 2 ) 時 ( 50 ) 分

学校にかえってきた時こく



① 上の時計を見て、①②③の時こくを( )にかきましょう。

② おべんとうの時こく「いただきます」から 40分後に「ごちそうさま」をしました。「ごちそうさま」の時こくをかきましょう。

( 12 ) 時 ( 30 ) 分

③ あそびが おわりの 時こくから、学校にかえってきた時こくまでの時間は、何分間でしょうか。

( 50 ) 分間

④ おべんとうの時こくから、学校にかえってきた時こくまでの時間は、何時間でしょうか。

( 3 ) 時間

一年(一学期)

□ — — — — — のかん字を讀みましよう。□ □ はかん字でひらがなを讀みましよう。かん字にはよみがなを讀みましよう。【各二てん】

え	絵	はる	春	ひる	昼	まえ	前	げんき	元気	きんようび	金曜日	さんすう	算数	うみ	海	きいろ	黄色	じかん	時間	がいこくご	外国語	ふね	船	じぶん	自分
なんでも がんばる。	何	やさしい はは	母	ちちおや	父親	おんどく	音読	こうえん	公園	いっぽうつうこう	一方通行	きにゆう	記入	いっしゅうかん	一週間	せいかつ	生活	いちまんえん	一万円	てんせん	点線	とおる。	通る	こたえる。	答える
おとな	大人	じょうず	上手	こんや	今夜	そうちよう	早朝	きょうだい	兄弟	きん	近じよ	は	羽ばたく	さくぶん	作文	でんわ	電話	だいく	大工	どう	道ぐ	ずがこうさく	図画工作		
きく。	聞く	たかい。	高い	かぞえる。	数える	かたる。	語る	おもいで。	思い出	ともだちと あう。	会う	がっ	合しようきよく	きしゃ	汽車	ほし	星が ひかる	ちめい	地名	い	言う	としよ	図書		

二 じまの かん字の じまを ことばの ななを 画め  
てまが。(各三画)

① ↓ 右 ( ) 画め

② ↓ 左 ( ) 画め

③ ↓ 車 ( ) 画め

三 じまの かんじの 画まじを ことばまじまじ。(各三画)

① 目 ( ) 五 (画)

② 馬 ( ) 十 (画)

③ 道 ( ) 十二 (画)

④ 糸 ( ) 六 (画)

四 ——— の かん字は ほんたいの いみの かん字を 書け  
まじまじ。(各三画)

① つくえの 下 ↑ ( ) 上 ( )

② はこの 内がわ ↑ ↓ ( ) 外 ( )

五 かたかなで 書く ことばを □ から 三つ せんぞく。  
かたかなで 書けまじまじ。(各三画)

① ( ) フランス ( ) わたあめ・ふらんす

② ( ) シジャマ ( ) ぱじやま・なわとび

③ ( ) ニャーニャー ( ) やきゆう・にやあにやあ

六 「な」が 「ジュン」「ジュン」を えらんで

——— して かなまじまじ。(各二画)

【なじが】

【ジュン】

① トマトの花が ねじ。

② ねじが ねじ。

③ 赤い夕日が ねじ。

七 じまのことばを しかって 文を作りまじまじ。(各四画)

【だけ】

(れい)

わたしは、スーパーで おかしだけを かいました。

【しか】

(れい) ※ 「しか」の 後には ひていの 言葉がくる。  
おかしは、チョコレートしか ありませんでした。

1. 計算をしましょう。

① 
$$\begin{array}{r} 56 \\ + 23 \\ \hline 79 \end{array}$$

② 
$$\begin{array}{r} 34 \\ + 16 \\ \hline 50 \end{array}$$

③ 
$$\begin{array}{r} 53 \\ - 48 \\ \hline 5 \end{array}$$

④ 
$$\begin{array}{r} 80 \\ - 63 \\ \hline 17 \end{array}$$

2. 計算をしましょう

①  $48 + 7$

②  $34 + 46$

$$\begin{array}{r} 48 \\ + 7 \\ \hline 55 \end{array}$$

$$\begin{array}{r} 34 \\ - 46 \\ \hline 80 \end{array}$$

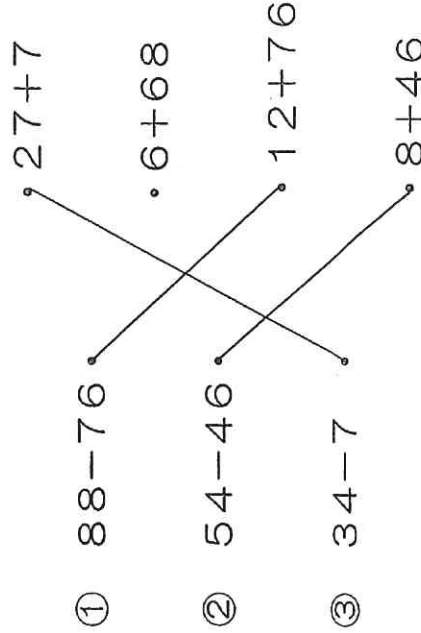
③  $42 - 16$

④  $57 - 9$

$$\begin{array}{r} 42 \\ - 16 \\ \hline 26 \end{array}$$

$$\begin{array}{r} 57 \\ - 9 \\ \hline 48 \end{array}$$

3. ひき算の答えのたしかめになる、たし算のしきはどれですか。線でもすびましょう。



4. □にあう数を書きましょう。

①  $80\text{mm} = \boxed{8} \text{cm}$

②  $9\text{cm}2\text{mm} = \boxed{92} \text{mm}$

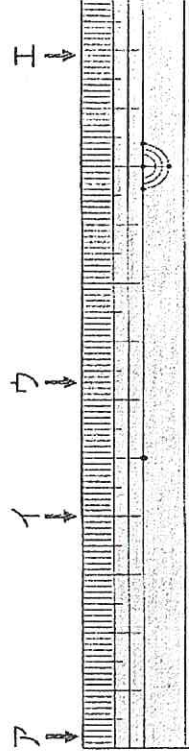
③  $23\text{mm} = \boxed{2} \text{cm} \boxed{3} \text{mm}$

5. □にあう長さのたんいを書きましょう。

① えんぴつの長さ ...  $\boxed{12} \text{cm}$

② 絵本のあつさ ...  $\boxed{8} \text{mm}$

6. 左はしから、ア、イ、ウ、エまでの長さは、それぞれだけですか。



ア (  $2\text{mm}$  ) ウ (  $6\text{cm}3\text{mm}$  )

イ (  $4\text{cm}$  ) エ (  $11\text{cm}9\text{mm}$  )

7. 下の線の長さをものさしではかりましょう。



① (  $6\text{cm}5\text{mm}$  )

② (  $3\text{cm}$  )

8. つぎの長さの直線をはかりましょう。

①  $3\text{cm}$

②  $7\text{cm}5\text{mm}$

