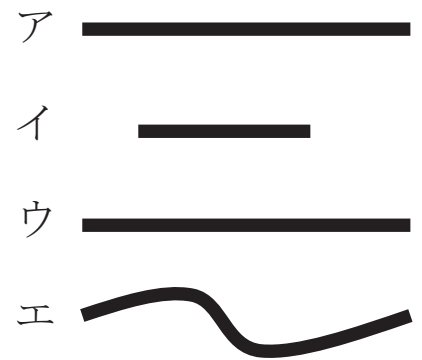
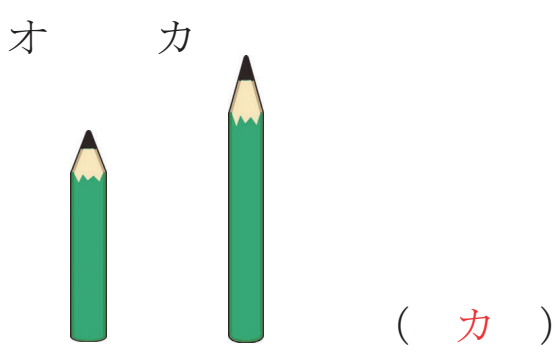
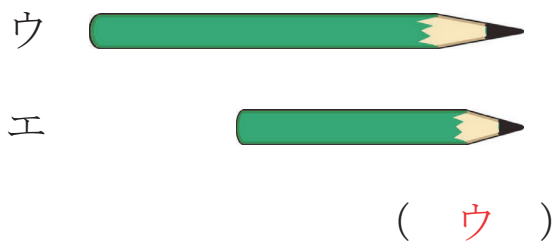
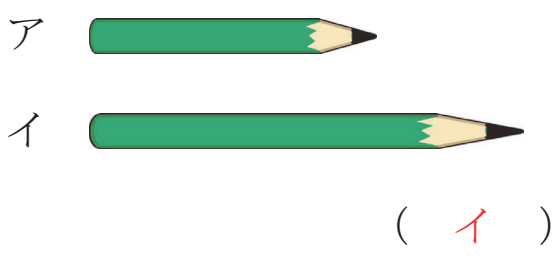



1年 6 (1)	くらべかた	___ねん ___くみ なまえ
----------------	-------	--------------------

どちらが、ながいでしょう。



- ①いちばん ながいのは、  
どれでしょう。 ( エ )
- ②いちばん みじかいのは、  
どれでしょう。 ( イ )
- ③ながさが おなじなのは、  
どれと どれでしょう。  
( ア ) と ( ウ )

どちらがながいでしょう。



1年 <b>6</b> (2)	くらべかた	____ねん ____くみ なまえ
-----------------------	-------	----------------------

たてと よこは、えんぴつ なん  
ほん  
 本ぶんの ながさでしょう。

たて  
て

よこ

たて えんぴつ ( 4 ) 本ぶん  
 よこ えんぴつ ( 5 ) 本ぶん

つぎの えんぴつは、ますめ  
 なんますぶんの ながさでしょう。

		イ						
		↑	→					ウ
	ア	↑						
	↑		→					エ

ア ますめ ( 2 ) ますぶん  
 イ ますめ ( 4 ) ますぶん  
 ウ ますめ ( 5 ) ますぶん  
 エ ますめ ( 3 ) ますぶん

いちばん ながい えんぴつは ( ウ )

だいすけくんが 知っていることは、<sup>ただ</sup>正しい でしょうか。 それとも、まちがっている でしょうか。

ノート

だいすけくん

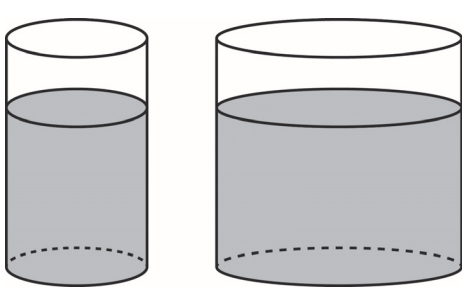
ノートのたては、えんぴつ4こぶん。ノートのよこは、けしむ4こぶん。だから、たてと よこは、おなじながさだ。

だいすけくんの かんがえは、( 正しい。 ・ まちがっている。 )

1年 <b>6</b> (3)	くらべかた	____ねん ____くみ なまえ
-----------------------	-------	----------------------

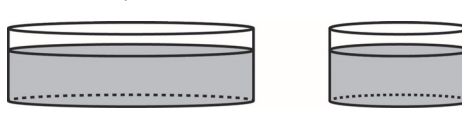
かさが おおいのは、  
どちらでしょう。

ア                      イ



( イ )


ウ                      エ



( ウ )


つぎの <sup>い</sup>入れものにはいる  
<sup>みず</sup>水のかさは、コップ なんばい  
ぶんでしょう。

ア



コップ ( 4 ) はいぶん


イ



コップ ( 9 ) はいぶん

イのほうが、アよりも ( 5 ) はい おおい。


つぎの <sup>はい</sup>入れものに入<sup>はい</sup>る 水<sup>はい</sup>のかさは コップ なんばいぶん  
でしょう。




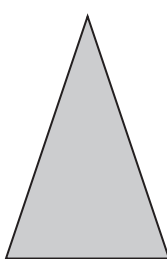
コップ ( 7 ) はいぶん


1年 <b>6</b> (4)	くらべかた	____ねん ____くみ なまえ
-----------------------	-------	----------------------

ひろいのは、どちらでしょう。

ア 

イ 

ウ 


エ 


(イ)がひろい。

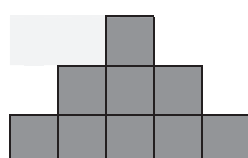
(エ)がひろい。

白いぶぶんと しろいぶぶん  
 は どちらが ひろいでしょう。


どれが いちばん ひろいでしょう。

ア 

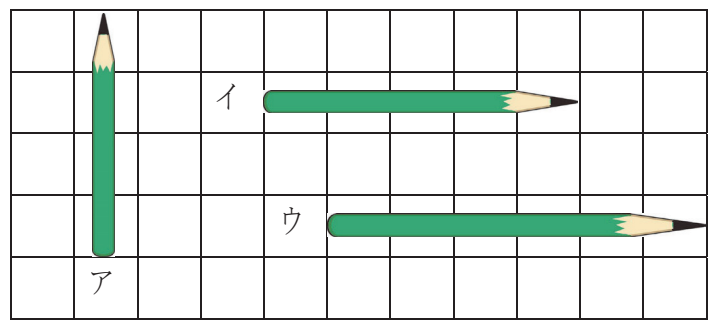
イ 

ウ 

(イ)

1年 6 (5)	かたち	___ねん ___くみ なまえ
----------------	-----	--------------------

ながいじゆんに、こたえましょう。



(ウ) → (イ) → (ア)

いちばん たくさん ものが <sup>はい</sup> 入る <sup>い</sup> 入れものは、どれですか。



どちらの けいじばんが ひろい ですか。

