


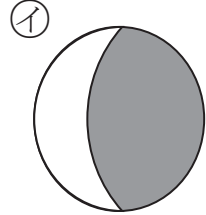
2年 2 (1)	分数	年 組 名前
-----------------------	----	-----------

① $\frac{1}{2}$ の大きさをえらびましょう。

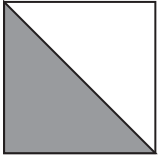
ア




イ



ウ




エ

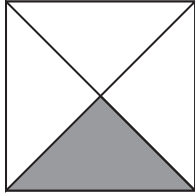


(ウ)


② 色をぬったところは、もとの大きさの何分の一ですか。



($\frac{1}{2}$)



($\frac{1}{4}$)




($\frac{1}{8}$)

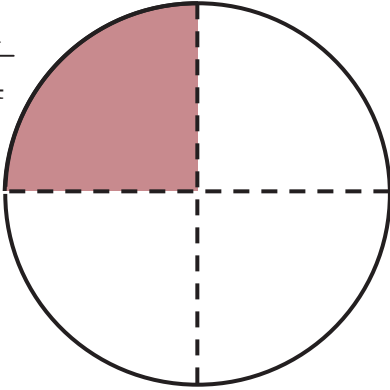
③ つぎの大きさに色をぬりましょう。

$\frac{1}{2}$

(れい)



$\frac{1}{4}$



2年 2 (2)	分数	年 組 名前
-------------------------------------	-----------	-----------

① $\frac{1}{4}$ の大きさをえらびましょう。

ア

イ

ウ

エ

(イ)

② 色をぬったところは、もとの大きさの何分の一ですか。

($\frac{1}{2}$)

($\frac{1}{4}$)

($\frac{1}{8}$)

③ つぎの大きさに色をぬりましょう。

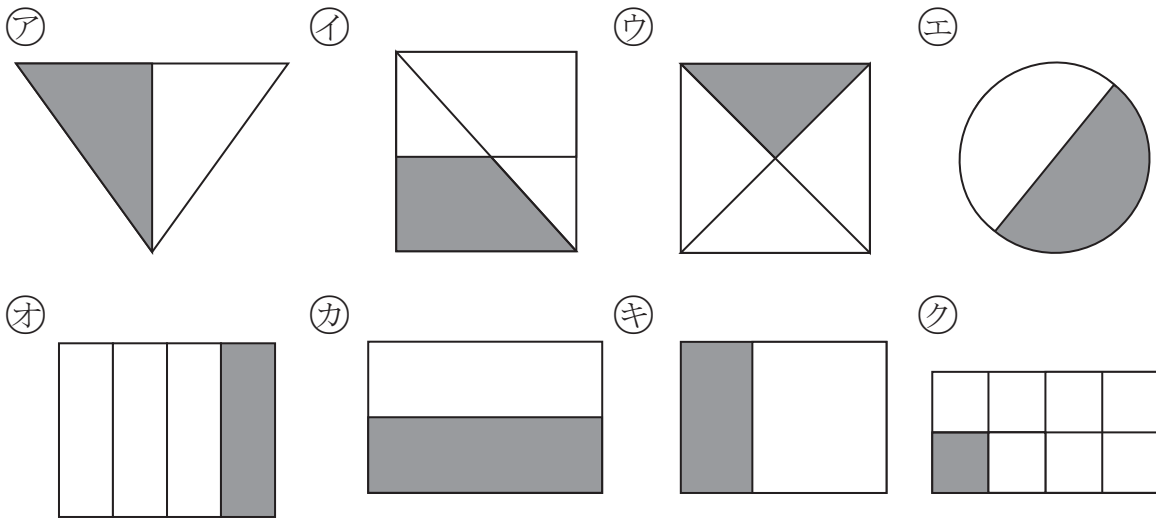
$\frac{1}{2}$

(れい)

$\frac{1}{4}$

2年 2 (3)	分数	年 組 名前
-------------------------------------	----	-----------

① $\frac{1}{2}$ 、 $\frac{1}{4}$ 、 $\frac{1}{8}$ の大きさをぜんぶえらびましょう。



$\frac{1}{2}$ (ア エ カ) $\frac{1}{4}$ (ウ オ) $\frac{1}{8}$ (ク)

② つぎの大きさに色をぬりましょう。 (れい)

