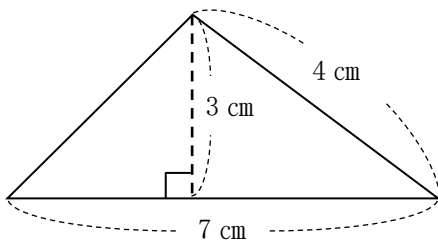


5年 11 (2)	三角形・平行四辺形・ ひし形・台形の面積	___年 ___組
		名前

1 次の三角形の面積を求めましょう。

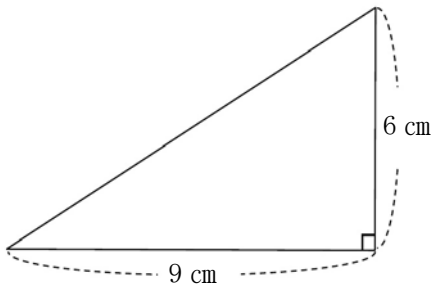
①



式 $7 \times 3 \div 2 = 10.5$

答え 10.5 cm^2

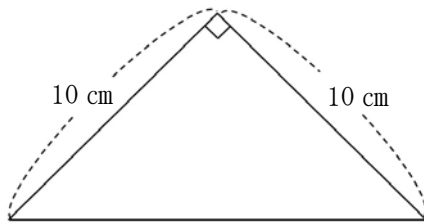
②



式 $9 \times 6 \div 2 = 27$

答え 27 cm^2

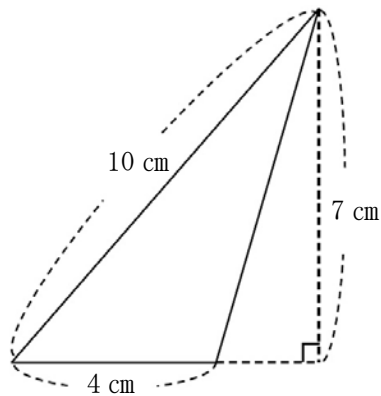
③



式 $10 \times 10 \div 2 = 50$

答え 50 cm^2

④



式 $4 \times 7 \div 2 = 14$

答え 14 cm^2