

取り組んだ日 月 日

5年
11
(4)

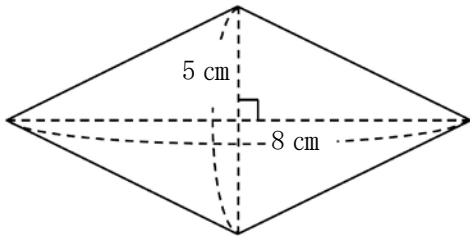
三角形・平行四辺形・
ひし形・台形の面積

___年 ___組

名前

1 次のひし形の面積を求めましょう。

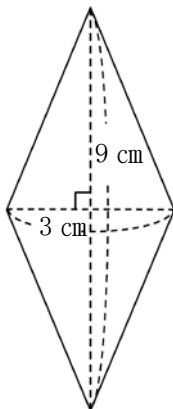
①



式 $5 \times 8 \div 2 = 20$

答え 20 cm^2

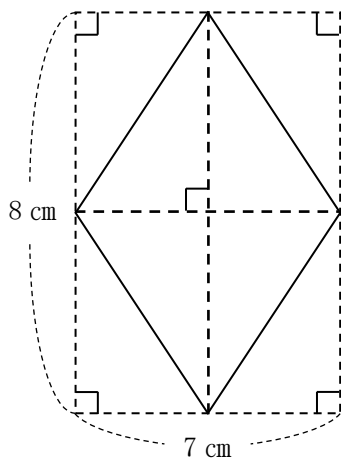
②



式 $3 \times 9 \div 2 = 13.5$

答え 13.5 cm^2

③



式 $8 \times 7 \div 2 = 28$

答え 28 cm^2