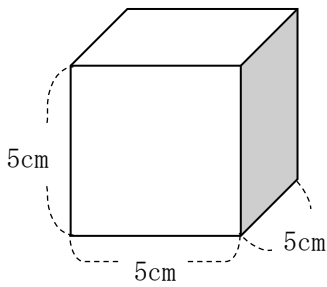
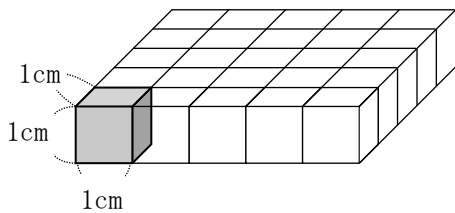


5年 12 (1)	直方体や立方体の体積 体積の単位と測定	____年 ____組
		名前

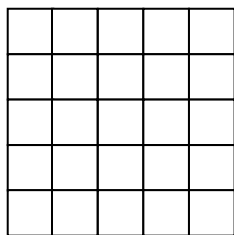
1 次の立方体の体積を求めましょう。



一段目をしきつめると



上から見ると

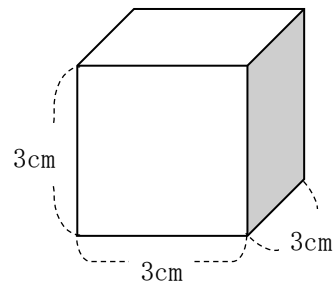


式 $5 \times 5 \times 5 = 125$

答え 125cm^3

2 次の立方体の体積を求めましょう。

①



式 $3 \times 3 \times 3 = 27$

答え 27cm^3

② 一辺が 6 cm の立方体

式 $6 \times 6 \times 6 = 216$

答え 216cm^3

③ 一辺が 1 m の立方体

式 $1 \times 1 \times 1 = 1$

答え 1m^3