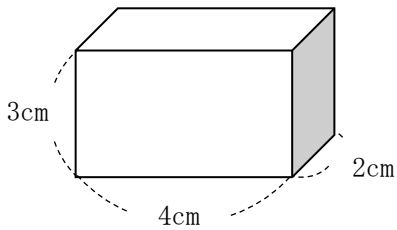


5年 12 (2)	直方体や立方体の体積 体積の単位と測定	____年 ____組
		名前

① 次の直方体の体積を求めましょ
う。

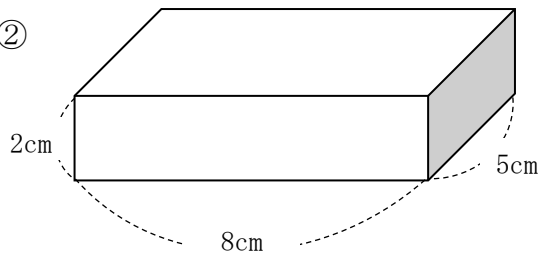
①



式 $2 \times 4 \times 3 = 24$

答え 24 cm^3

②



式 $5 \times 8 \times 2 = 80$

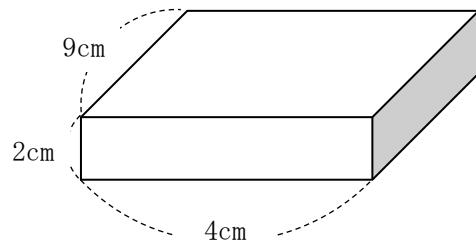
答え 80 cm^3

② 次の問題に答えましょ。

問題

体積が 36 cm^3 になる図形はどれか、
記号で答えましょ。

ア



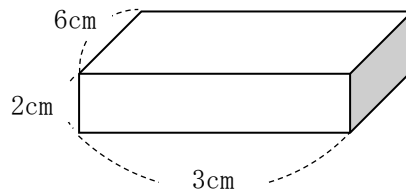
イ

一辺が 3cm の立方体

ウ

たての長さが高さが 3cm、横の長さ
が 4cm の直方体

エ



答え **ウ ・ エ**