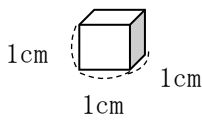


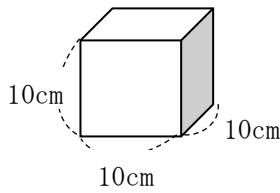
5年 12 (4)	直方体や立方体の体積 体積の単位と測定	年 組
		名前

1 □や〔 〕に数字を正しい数字を入れましょう。



1 cm³

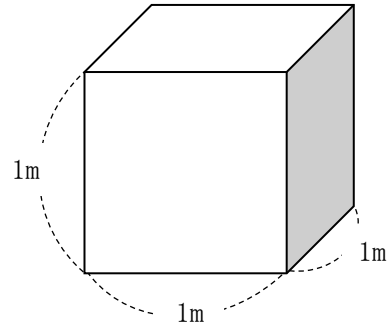
1 mL



1000 cm³

1000 mL

または〔 1 〕L



1000000 cm³

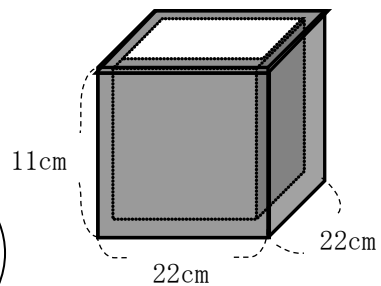
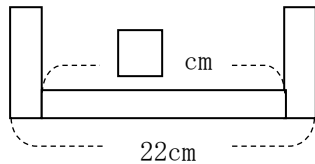
または〔 1 〕m³

1000 L

問題

厚さ1 cmの板を使って右のような直方体を作りました。
この入れ物に入る水の体積は何 cm³ですか。

横の長さは22 cm だけど、厚さが
1 cm の板で作られているから...



式 $(22-2) \times (22-2) \times (11-1) = 4000$

答え 4000cm^3