





5年 <b>2</b> (2)	整数と小数の記数法 10倍、100倍、1/10、1/100	___年 ___組
		名前

1 次の数を10倍した数、100倍した数を表に書きましょう。

①

10倍			2	.	9	4			100倍
			2		9	.	4		
			2		9	4			

②

10倍			0	.	0	1			100倍
			0		0	.	1		
			1						

2 次の数を10倍、100倍した数を書きましょう。

(10倍)

(100倍)

① 1.8 ( 18 ) ( 180 )

② 30.6 ( 306 ) ( 3060 )

③ 9.13 ( 91.3 ) ( 913 )

④ 43.09 ( 430.9 ) ( 4309 )

3 計算をしましょう。

①  $1.34 \times 10 = 13.4$

②  $3.09 \times 100 = 309$

③  $2.08 \times 1000 = 2080$