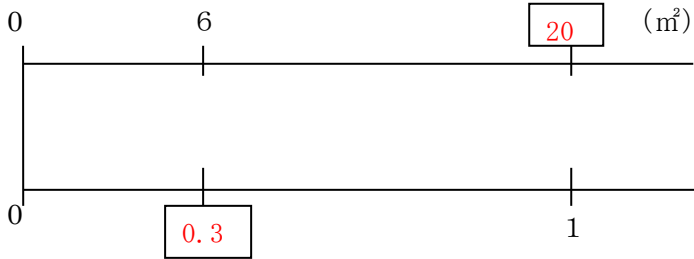


5年 9 (3)	百分率(割合)	___年 ___組
		名前

1 数直線の□をうめながら、次の問いに答えましょう。

① ある花だん全体の30%は6㎡です。花だん全体は何㎡ですか。



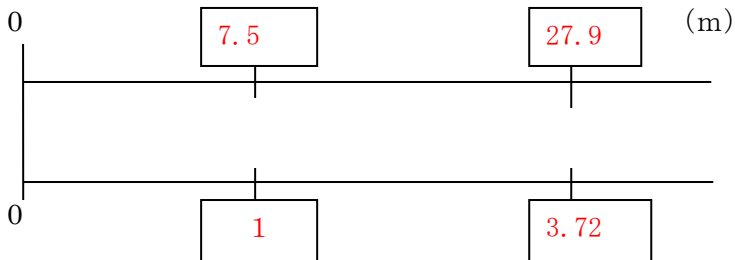
式

$$6 \div 0.3 = 20$$

答え

$$20 \text{ m}^2$$

② 27.9mは何mの3.72に当たりますか。



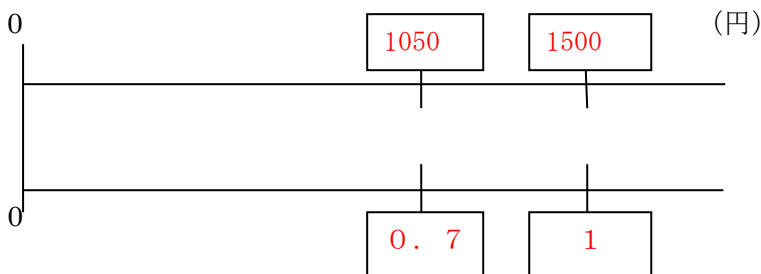
式

$$27.9 \div 3.72 = 7.5$$

答え

$$7.5 \text{ m}$$

③ はじめさんは、筆箱をもとのねだんの70%の1050円で買いました。筆箱のもとのねだんはいくらですか。



式

$$1050 \div 0.7 = 1500$$

答え

$$1500 \text{ 円}$$