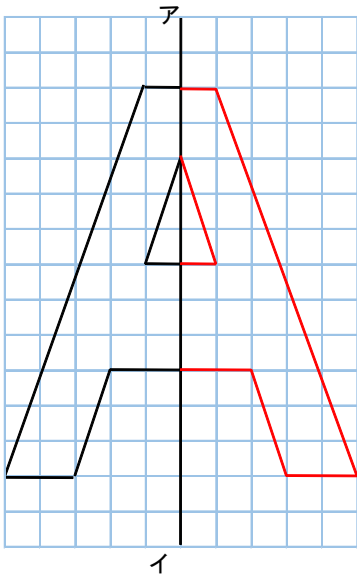


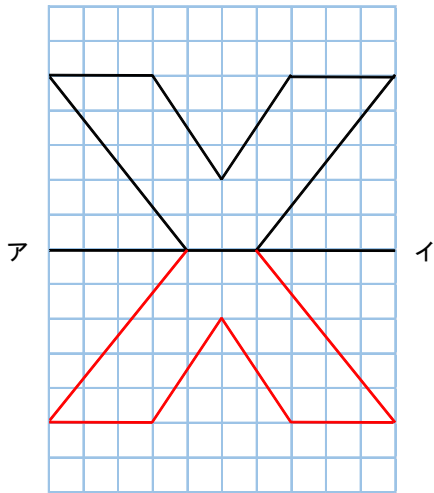
6年 15 (2)	対称な図形	____年 ____組 名前
------------------------	--------------	-------------------

1 直線アイを対称の軸とした線対称な図形の半分を表しています。

① 残り半分をかきましょう。

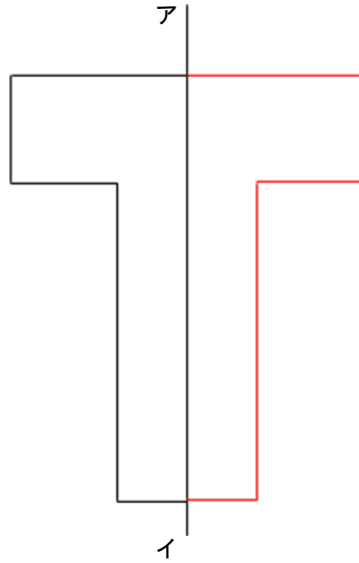


② 残り半分をかきましょう。



2 直線アイを対称の軸とした線対称な図形の半分を表しています。

① 残り半分をかきましょう。



② 残り半分をかきましょう。

