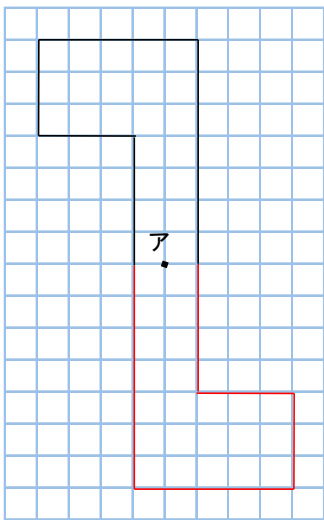


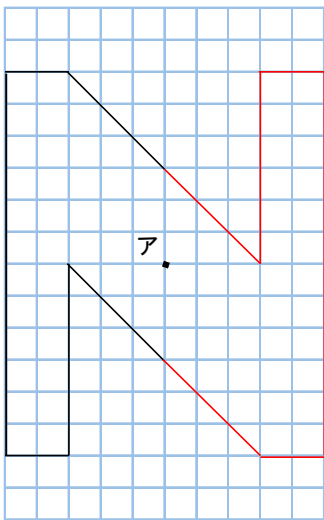
6年 15 (4)	対称な図形	____年 ____組
		名前

1 点アを対称の中心とした、点対称な図形の半分を表しています。

① 残り半分をかきましょう。

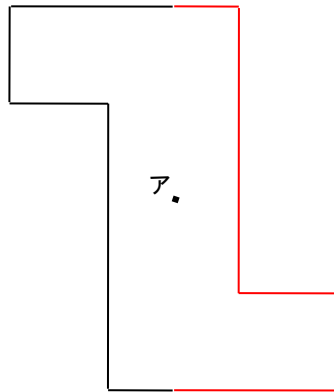


② 残り半分をかきましょう。



2 点アを対称の中心とした、点対称な図形の半分を表しています。

① 残り半分をかきましょう。



② 残り半分をかきましょう。

