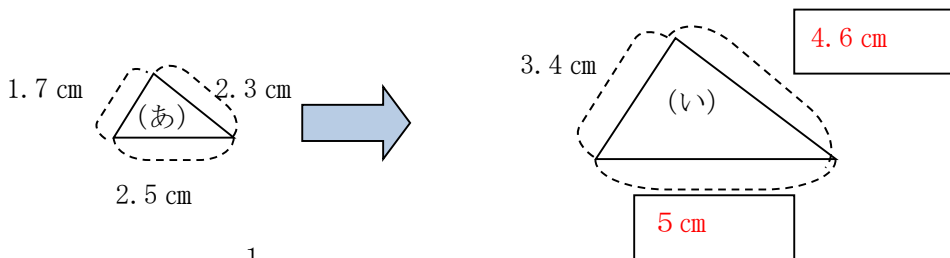


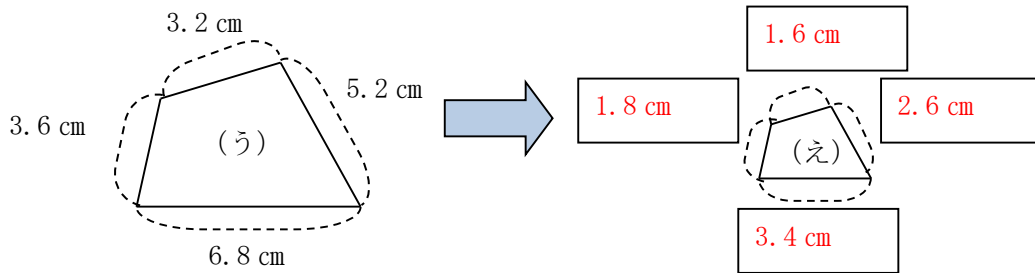
6年 16 (2)	縮図や拡大図	年 組
		名前

1 次の問題に答えましょう。

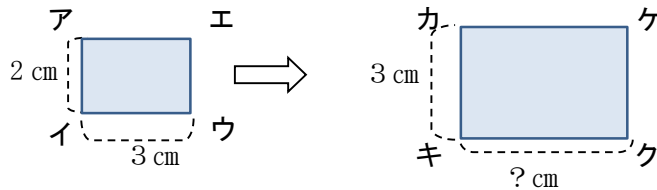
① (い) は (あ) の 2 倍の拡大図です。□に当てはまる数字を入れましょう。



② (え) は (う) の $\frac{1}{2}$ の縮図です。□に当てはまる数字を入れましょう。



2 長方形アイウエの 1.5 倍の拡大図カキクケをかきます。次の問題に答えましょう。



① 辺カキの長さを 3 cm にしたとき、辺キクの長さは、何 cm になりますか。

$$2 : 3 = 3 : \square \quad 3 \times 1.5 = 4.5$$

$\xrightarrow{\times 1.5}$
 $\xleftarrow{\times 1.5}$

答え (4.5 cm)

② 長方形カキクケのたてと横の長さを 1 cm ずつのばしたとき、長方形カキクケは、長方形アイウエの拡大図といえますか。

答え (いえない)