

9月10日(金)



漢字のまとめ

①

印 7 ~ 80
名 前

組 番

ぶらひん

/100点

8・⑩上 8・⑩I
8・⑩前

★漢字を書きまじよう。
（「は、漢字とひらがなで書きまじよう。」）

漢字

学習した漢字を正しく書くことができます。

各答2点

レベル1

- ① 前の店。
- ② 想する
- ③ 今の休み。
- ④ 気が高い。
- ⑤ 車のてん。
- ⑥ 名な山。
- ⑦ うめの。
- ⑧ の人。
- ⑨ 真理の明。
- ⑩ 言葉の意。

レベル2

- ⑪ 話の本。
- ⑫ 暗をとく。
- ⑬ 食をとる。
- ⑭ 物をかう。
- ⑮ 和の時代。
- ⑯ 文の語。
- ⑰ 黒い自車。
- ⑱ 筆の考え。
- ⑲ 火でやく。
- ⑳ 始の電車。

レベル3

- ⑳ 魚がぬ。
- ㉑ を作る。
- ㉒ 船にる。
- ㉓ 安全一。
- ㉔ をかける。
- ㉕ 想を話す。
- ㉖ 百点をる。
- ㉗ 箱の中。
- ㉘ 校に出る。
- ㉙ 校。
- ㉚ きゆう室。


レベル4

- ㉛ なくつ。
- ㉜ に着く。
- ㉝ 面をする。
- ㉞ 外国の文か。
- ㉟ バナナのかわ。
- ㊱ 文を書く。
- ㊲ 手を見る。
- ㊳ うんの日。
- ㊴ 行に行く。
- ㊵ 子を見る。

レベル5

- ㊶ 図書館でしらべる。
- ㊷ えだがまがる。
- ㊸ 絵本をひらく。
- ㊹ グラフにあらわす。
- ㊺ 切手をあつめる。
- ㊻ 友達とあそぶ。
- ㊼ 紙をかさねる。
- ㊽ 高い木にのぼる。
- ㊾ たいらな場所。
- ㊿ プールでおよぐ。

見直したら、○をつけまじよう。()



算数 夏休み宿題 3年 組()

1 計算をしましょう。

① $2378 + 5157$

② $6207 - 3849$

2 計算をしましょう。(あまりが出る場合には、あまりもだしましょう。)

① $9 \div 9$

② $48 \div 4$

③ $56 \div 6$

④ $21 \div 4$

3 □に当てはまる数を書きましょう。

① $3 \times 7 = 3 \times 6 + \square$

② $6 \times 8 = (6 \times \square) + (6 \times 4)$

4 くふうして計算しましょう。

① $3 \times 4 \times 5$

② $5 \times 2 \times 3$

5 □に当てはまる数を書きましょう。

① $2650\text{m} = \square \text{ km } \square \text{ m}$

② $700\text{m} + 350\text{m} = \square \text{ km } \square \text{ m}$

6 時間や時こくをもとめましょう。

① 午後3時40分から、50分後の時こくと50分前の時こくをもとめましょう。

50分後: _____

50分前: _____

② 午前8時20分から、午前9時10分までの時間をもとめましょう。

7 公園に子どもが12人います。とちゅうに何人かの子どもが遊びにきたので、公園の子どもは35人になりました。

①この場面を図に表しましょう。

②とちゅうに遊びにきた子どもの数を□として式に表しましょう。

式

③とちゅうに遊びにきた子どもは何人でしょう。

8 すきなくだものを調べました。表やグラフにまとめましょう。

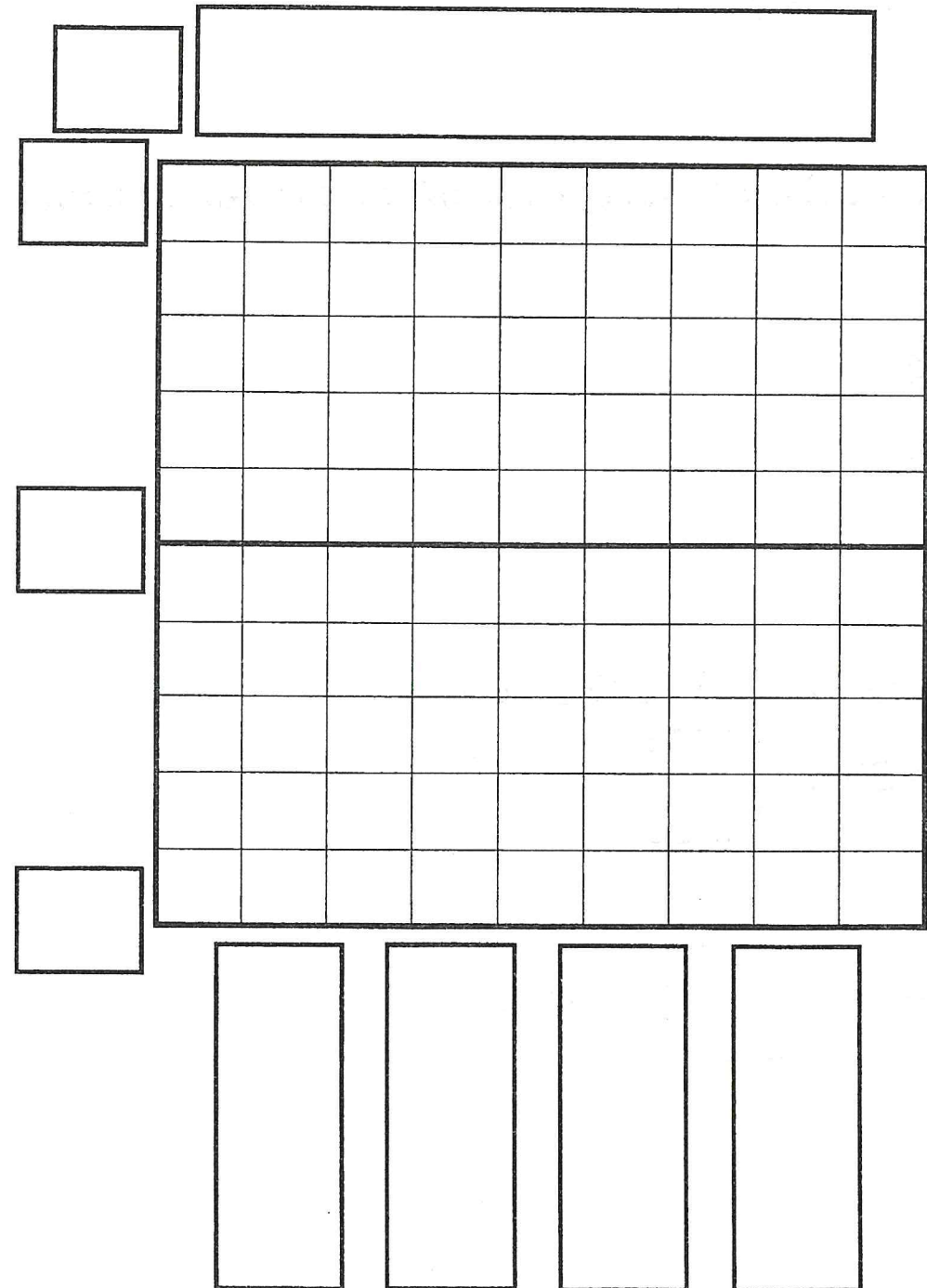
リンゴ	リンゴ	ミカン	イチゴ	リンゴ	イチゴ
リンゴ	ミカン	メロン	リンゴ	リンゴ	イチゴ
イチゴ	リンゴ	メロン	モモ	イチゴ	リンゴ
モモ	メロン	ミカン	ミカン	イチゴ	ミカン

①表にせいりしましょう。

すきなくだもの調べ

しゅるい	リンゴ	イチゴ	ミカン	その他	合計
数(人)					

②表を下のグラフに表しましょう。



漢字の音と訓②

名前

(1) 次の言葉を、音と訓の二とおりで読みましよう。

① 草原 \wedge
訓 音

② 風車 \wedge
訓 音



③ 月日 \wedge
訓 音

④ 市場 \wedge
訓 音

⑤ 春夏秋冬 \wedge
訓 音

(2) 次の——線の読み方を()——に書きましよう。

① 前半と後半



()
 ・後ろを向く。
 ()
 ・晴れ後くもり

② 交通安全

()
 ・二本の道が交わる。
 ()


③

- ・子犬が生まれた。
- ()
- ・小学生
- ()
- ・ぼくのたん生日
- ()
- ・草が生える。



④

- ・銀行
- ()
- ・学校の行事
- ()
- ・買い物に行く。
- ()
- ・まつりを行う。



(3) れいのように、次の音読みのじゆく語(漢字二文字以上の言葉)の意味を訓読みで に書き表し、それぞれの読み方も ()——に書きましよう。

れい 開店 \downarrow

 \downarrow 店を開く

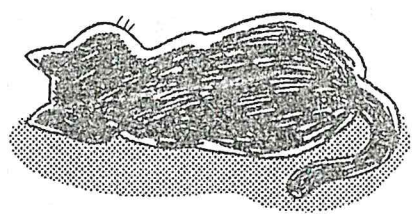
① 草原 \downarrow

② 外出 \downarrow

③ 馬力 \downarrow

④ 早朝 \downarrow

のらねこがやってきました。
 リョウのうちの庭のまん中
 で、ごろんと横になったまま、
 動きません。



真っ黒い背中と、しっぽ
 だけが、こつちから見えます。
 リョウの仲間のねこよりも、
 大きくて立派です。毛なみなんかも、つやつ
 やしているし。

リョウは、のらねこのそばへ行きます。ぐ
 るっと回って、ねこの顔のある方へ行こうと
 すると、のらねこは、ぱつと起き上がりました。
 わあ、とても速い。

じつとかまえて、リョウの様子をうかがっ
 ています。

②「こら待て。それ以上近よるな。」
 ①「あれ。ぼく、きみをいじめたりしないよ。」
 リョウは、立ち止まります。のらねこは、
 少しも油断していません。

これ以上そばへよると、とびかかってきそ
 う。
 きれいなねこだなあ。でも、少しこわい。

③「一歩でも近よると、ひっかくよ。」
 ④「わかりましたよ。きみの様子を見れば、だ
 れだって。」

リョウは、がっかりしながら言います。
 ⑤「でも、ぼくは、きみをかわいがりたいんだ
 よ。少しは、信用しなさい。」

上の文章を読んで答えましょう。

一. やってきたのらねこについて書きましょう。(3x5)

①	せなかの色	
②	体の大きさ	
③	毛なみ	
④	どこにいま したか。	
⑤	どんな様子 ですか。	

二. のらねこがぱつと起き上がったのはいつ
 ですか。(10)

三. ②③④は、それぞれだれの言ったことば
 ですか。(3x5)

② ③ ④
 ⑤ ① ②
 ③ ④ ⑤

四. リョウが声に出さずに心の中で思ったこと
 とを二つ、次の文字数で書きましょう。(10x2)
 (「や」も書きましょう。)

・	・
□	□
□	□
□	□
□	□
□	□
□	□
□	□
□	□
□	□
□	□

五. きみの様子とは、だれの、どんな様子で
 ですか。(10x2)

① だれの
 ② どんな様子

六. リョウがのらねこにしたかったのは、ど
 んなことですか。(10)

七. こたばの意味の正しい方に○をつけましょ
 う。(5x2)

- ① つかがう
- () よい時がくるのをじつとねらう。
 - () きよろきよろする。
- ② 油断
- () あわててせかせかする。
 - () 気をゆるして、注意しない

年組名前()

おばあさま (お母さん) お母さん お父さん
ô okâsan () ()

ねっこ ねこ きて
nekkô () kitte ()

地名・人名

足立区

足立区 (Adachi-ku) ()

菅 義偉
Yoshihide Suga ()

本屋 → ほしやになつていよう「の」を7Hする。
hon'ya ()

様々な言葉を練習しましょう!!

ほし むし たに たぬき
() () () ()

ほし むし ひよこ いさか
() () () ()

わに きりん かがね
() () ()

すすめ めだか とんぼ
() () ()

パンダ えんぴつ つくえ
() () ()

キャッツ リョカン まんぎょ
() () ()

お姉さん (姉妹) ねこ きて
() () ()

学株 (つぼみ + 姉妹) 新垣 結衣
() () ()

ハボン式練習 → ふつうローマ字はハボン式で表されるものが多いです。よく覚えて下さいね。
しめじ 富士ふじ 千葉ちば つめ
() () () ()

「ハ」 伸ばす記号を使わずに表すときも多いです。

東京 大阪 千住緑町
() () ()

星野源 おおたに しょうへい
星野源 大谷翔平
() ()


表とグラフ (1)

表に整理しよう

名前 _____

月 _____ 日 _____

① クラスですきな動物を調べました。



- 「正」の字を使って、動物ごとに人数を②の表に整理しましょう。
- ②の表の「正」の字を数字になおし、①の表に人数と合計を書きましょう。

② すきな動物調べ

うさぎ	
ひつじ	
ぶた	
リス	
きつね	
くま	

① すきな動物調べ

しゅるい	人数 (人)
うさぎ	
ひつじ	
リス	
くま	
その他	
合計	

② クラスですきなスポーツを調べました。

②の表の「正」の字を数字になおし、①の表に人数と合計を書きましょう。

② すきなスポーツ調べ

サッカー	正一
テニス	正
野球	正
バドミントン	一
バスケットボール	正下
水泳	一
バレーボール	下

① すきなスポーツ調べ

しゅるい	人数 (人)
サッカー	
テニス	
野球	
バスケットボール	
バレーボール	
その他	
合計	

表とグラフ (2)

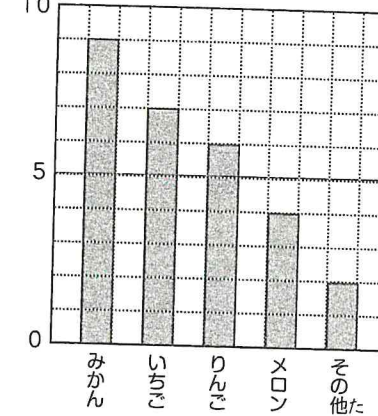
ぼうグラフの読みとり

名前 _____

月 _____ 日 _____

① 下のぼうグラフは、3年1組ですきなくだものを調べたものです。

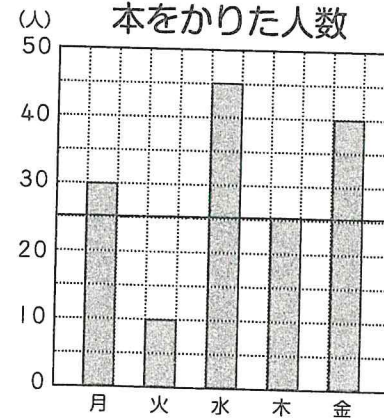
① すきなくだもの調べ



- グラフの1めもりは、何人を表していますか。
()
- みかんの人数は、メロンの人数より何人多いですか。
()
- 3年1組は、全部で何人いますか。
()

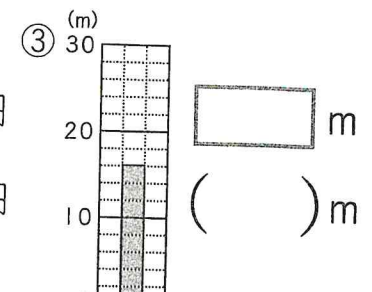
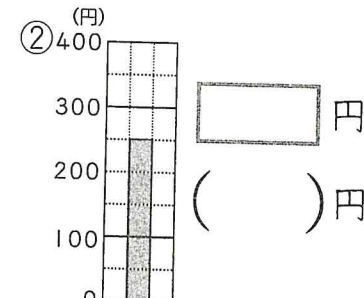

② 下のぼうグラフは、先週図書室で本をかりた3年生の人数を調べたものです。

先週図書室で本をかりた人数



- グラフの1めもりは、何人を表していますか。
()
- 本をかりた人数がいちばん多いのは、何曜日ですか。
()
- 金曜日の人数は、火曜日の人数の何倍ですか。
()

③ 下のぼうグラフで、たてじくの1めもりが表している大きさを□に書きましょう。また、ぼうが表している大きさを()に書きましょう。





。オケ

。依才了mo 同片字片字

()ロマ

。依才了折角三へノヨ折

()◎ (

。才了ト点ノマ点ノ中(

。おの景

。依才了mo

()ロト (

。依才了折角三へ

(

。才了ト点ノマ点ノ中(

。依才了折角三

(

へノヨ折全 止

(

。依才了折角三へノヨ折

(



。オケ

。依才了mo 同片字片字

()ロマ

。依才了折角三へノヨ折

()◎ (

。才了ト点ノマ点ノ中(

。おの景

。依才了mo

()ロト (

。依才了折角三へ

(

。才了ト点ノマ点ノ中(

。依才了折角三

(

へノヨ折全 止

(

。依才了折角三へノヨ折

(



。オケ

。依才了mo 同片字片字

()ロマ

。依才了折角三へノヨ折

()◎ (

。才了ト点ノマ点ノ中(

。おの景

。依才了mo

()ロト (

。依才了折角三へ

(

。才了ト点ノマ点ノ中(

。依才了折角三

(

へノヨ折全 止

(

。依才了折角三へノヨ折

(



。オケ

。依才了mo 同片字片字

()ロマ

。依才了折角三へノヨ折

()◎ (

。才了ト点ノマ点ノ中(

。おの景

。依才了mo

()ロト (

。依才了折角三へ

(

。才了ト点ノマ点ノ中(

。依才了折角三

(

へノヨ折全 止

(

。依才了折角三へノヨ折

(

表とグラフ (3)

ぼうグラフに表す ①

名前 _____

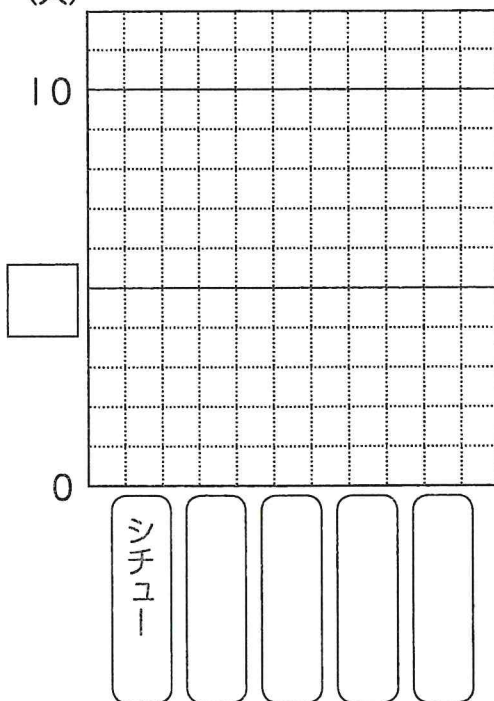
※ グラフに表すときは、大きいじゆんにかきましよう。

- ① 下の表は、3年1組ですきなきゅう食を調べたものです。表をぼうグラフに表しましょう。

すきなきゅう食調べ

しゅるい	人数 (人)
カレーライス	4
シチュー	9
ハンバーグ	7
やきそば	5
その他	3

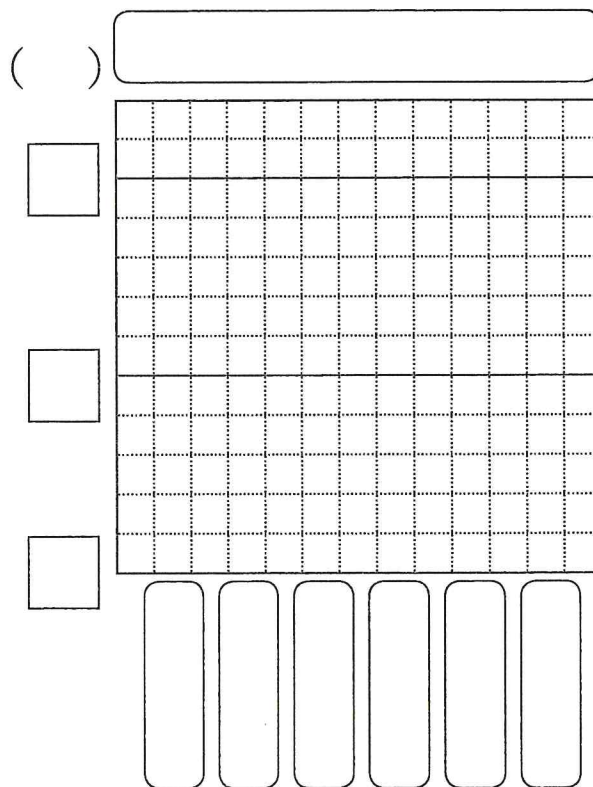
(人) すきなきゅう食調べ



- ② 下の表は、家の前を、30分間に通った乗り物の数を調べたものです。表をぼうグラフに表しましょう。

乗り物調べ

しゅるい	台数 (台)
乗用車	18
トラック	8
バス	4
オートバイ	14
タクシー	10
その他	6



表とグラフ (4)

ぼうグラフに表す ②

名前 _____

※ グラフに表すときは、大きいじゆんにかきましよう。

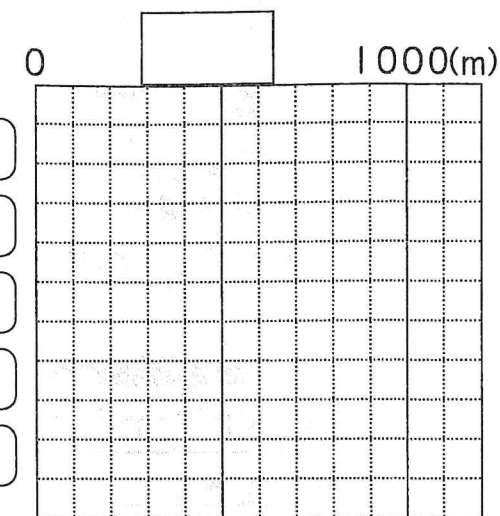
- ① 下の表は、ひろきさんの家からの道のりを調べたものです。表をぼうグラフに表しましょう。

家からの道のり調べ

ばしょ	道のり (m)
スーパー	600
学校	800
えき	400
公園	500
としょかん	1000

図書館

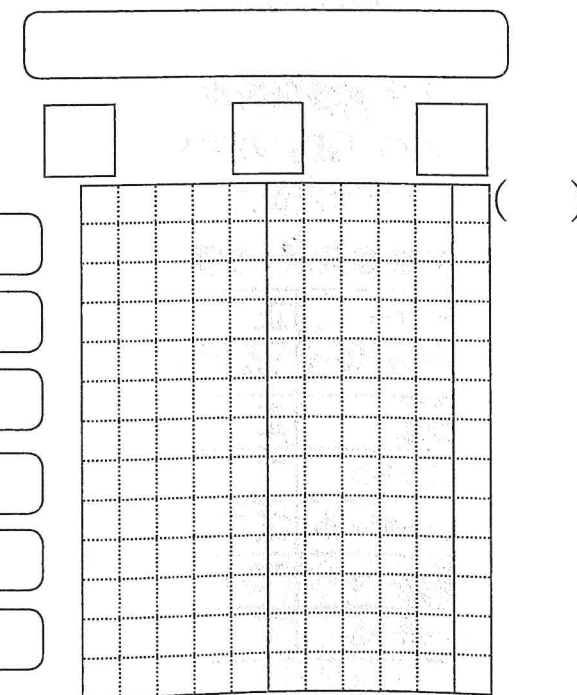
家からの道のり調べ



- ② 下の表は、6人のわ投げの点数をまとめたものです。表をぼうグラフに表しましょう。

わ投げの点数

名前	点数 (点)
ゆうた	60
たくや	40
あすか	80
かずき	100
まゆみ	30
ふみか	70



1) 七色玉書
6色配列問題OC!

2) 七色玉書
6色配列問題OC!

3) 七色玉書
6色配列問題OC!

4) 七色玉書
6色配列問題OC!

1) 七色玉書

横並び (順) 縦並び

色	縦	横
赤	1	1
青	2	2
黄	3	3
白	4	4
黒	5	5
緑	6	6

1) 七色玉書

縦並び (順) 縦並び

色	縦	横
赤	1	1
青	2	2
黄	3	3
白	4	4
黒	5	5
緑	6	6

1) 七色玉書

縦並び (順) 縦並び

色	縦	横
赤	1	1
青	2	2
黄	3	3
白	4	4
黒	5	5
緑	6	6

2) 七色玉書

横並び (順) 縦並び

色	縦	横
赤	1	1
青	2	2
黄	3	3
白	4	4
黒	5	5
緑	6	6

2) 七色玉書

縦並び (順) 縦並び

色	縦	横
赤	1	1
青	2	2
黄	3	3
白	4	4
黒	5	5
緑	6	6

2) 七色玉書

縦並び (順) 縦並び

色	縦	横
赤	1	1
青	2	2
黄	3	3
白	4	4
黒	5	5
緑	6	6

3) 七色玉書

横並び (順) 縦並び

色	縦	横
赤	1	1
青	2	2
黄	3	3
白	4	4
黒	5	5
緑	6	6

3) 七色玉書

縦並び (順) 縦並び

色	縦	横
赤	1	1
青	2	2
黄	3	3
白	4	4
黒	5	5
緑	6	6

3) 七色玉書

縦並び (順) 縦並び

色	縦	横
赤	1	1
青	2	2
黄	3	3
白	4	4
黒	5	5
緑	6	6

4) 七色玉書

横並び (順) 縦並び

色	縦	横
赤	1	1
青	2	2
黄	3	3
白	4	4
黒	5	5
緑	6	6

4) 七色玉書

縦並び (順) 縦並び

色	縦	横
赤	1	1
青	2	2
黄	3	3
白	4	4
黒	5	5
緑	6	6

4) 七色玉書

縦並び (順) 縦並び

色	縦	横
赤	1	1
青	2	2
黄	3	3
白	4	4
黒	5	5
緑	6	6