


9月2日(木)





# 3年生のみなさんへ

お元気ですか?

音楽では、リコーダーの復習やワーク中の一部をコピーしたので「お家で」練習やプリントをやって下さい♪

★リコーダー: 「笛屋人」 「さくら笛」

5音(フリップ) 「メリーさんのひつじ」 をふきましょ♪

★歌: 「ビリーゴ」 「いよんが木の实」

「いじ」 「大七刀がもの」 など

自分の好きな曲でも OKです♡

♡ テレビなどで みんなの歌や名曲アルバムなど (NHK) がありますので、ぜひ 聴いて下さい♪

NHK

Eテレ 9/2 (木) 午後 1:50 ~ 1:55

Eテレ 9/3 (金) 午前 10:55 ~ 11:00

など

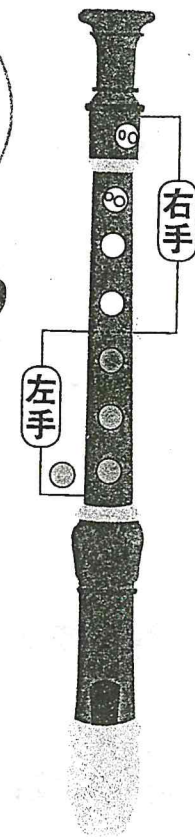
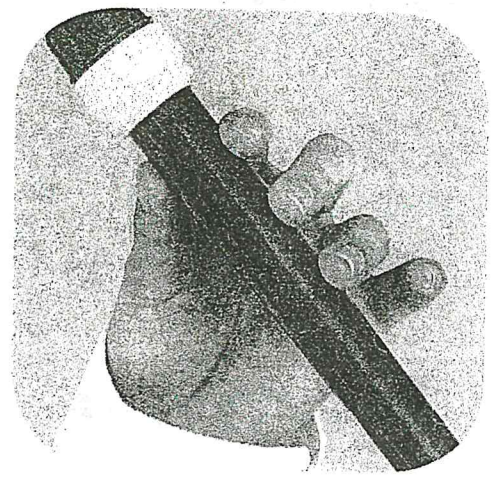
Eテレ { 毎週月曜日 午前 10時 50分  
毎週木曜日 午後 1時 50分  
毎週金曜日 午前 10時 55分

※ 時間があえば「お家で」して下さい♪


会えること楽しみにしています♡

# ソ

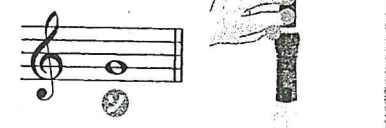
の音をひびかせよう



①の音をひびかせてから...



左手のくすり指で、●のあなをふさごう。



## 1

### またあした

K. K. 作曲

## 2

### ガンバレくすり指

K. K. 作曲

## 4

### なべなべそこぬけ

わらべ歌

## 5

### メリーさんのひつじ


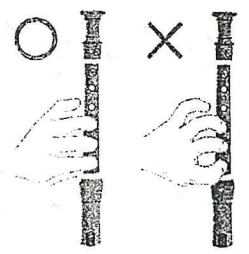
アメリカ民謡



の音は、●の音がふけるようになったらふいてみましょう。

## アンポイント

指が立っていたりななめになっていたりと、あなにすぎ間があきやすいので気をつけましょう。





# 国語辞典じてんの使い方①

名前

☆ 国語辞典では、見出し語みだしご（調べたい言葉）が五十音順にならんでいます。


- (1) 次の五つの見出し語について答えましょう。国語辞典にのっている順に、  
 ( ) に1〜5の番号を書きましよう。

( ) とら ( ) いぬ ( ) ねこ ( ) へび ( ) さる

☆ 一字目が同じ中で、二字目、三字目も五十音順にのっています。また、かたかなの見出し語はひらがなとまじってならんでいます。ひらがなの後に出てきます。

- (2) 次の三つの見出し語について答えましょう。国語辞典にのっている順に、( ) に1〜3の番号を書きましよう。

①  
 ( ) あか  
 ( ) あい  
 ( ) あお



②  
 ( ) タイ (国)  
 ( ) たい (魚)  
 ( ) たこ

③  
 ( ) さか  
 ( ) さかな  
 ( ) さかさ



☆ 清音せい（、や。のない音）↓ だく音（「が」・「ば」など、のある音）↓ 半だく音（ぱ行の、のある音）の順にならんでいます。

- (3) 次の二つの見出し語のうち、国語辞典で先にのっている方に○をつけましよう。

①  
 ( ) ぎん  
 ( ) きん

②  
 ( ) ピン  
 ( ) びん

③  
 ( ) かんびよう  
 ( ) かんぴよう

☆ かたかなの**のばす音**（長音「ー」）は、ア・イ・ウ・エ・オで読み（カード↓カード）、五十音順にならんでいます。

- (4) 次の三つの見出し語について答えましよう。国語辞典にのっている順に、( ) に1〜3の番号を書きましよう。

①  
 ( ) シーソー  
 ( ) シール  
 ( ) しいたけ

②  
 ( ) ユーモア  
 ( ) ゆうやけ  
 ( ) ゆづれい

③  
 ( ) コーン  
 ( ) こうら  
 ( ) こおり



☆ 小さく書く「ヤ・ゆ・よ・っ」は、大きく書く字の次にのっています。

- (5) 次の二つの見出し語のうち、国語辞典で先にのっている方に○をしましよう。

①  
 ( ) はっか  
 ( ) はつか

②  
 ( ) びよういん  
 ( ) びょういん

③  
 ( ) いしゃ  
 ( ) いしや



☆〈詩〉かえるのびよん

名前 〇

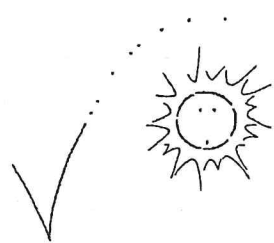
かえるのびよん

谷川 俊太郎  
たがわ しゅんたろう

①  
かえるのびよん  
とぶのがだいすき  
はじめにかあさんとびこえて  
それからとうさんとびこえる  
びよん



②  
かえるのびよん  
とぶのがだいすき  
つぎにはじどうしゃとびこえて  
しんかんせんもとびこえる  
びよん びよん



③  
かえるのびよん  
とぶのがだいすき  
とんでるひこうきとびこえて  
ついでにおひさまとびこえる  
びよん びよん びよん



④  
かえるのびよん  
とぶのがだいすき  
とうとうきょうをとびこえて  
あしたのほうへきえちやった  
びよん びよん びよん びよん

上の詩を読んで答えましょう。

一. ①〜④で、同じ部分があります。その部  
分をぬき書きしましょう。(10)

二. ①〜④で、同じことばがだんだんふえて  
います。そのことばを書きましょう。(10)

三. かえるのびよんは、何をするのがだいす  
きですか。(10)

四. ①〜④で、とびこえるものがだんだんと  
大きくなっていきます。とびこえるものを  
二つずつ書きましょう。(6×8)

① ( ) ( )  
② ( ) ( )  
③ ( ) ( )  
④ ( ) ( )

五. かえるがびよんととぶ様子をそうぞうし  
て、ほかにとびこえてほしいものを考えて  
書きましょう。(10)

六. この詩を読んで、思ったことを書きましょう。(12)

ローマ字練習プリント その1.

年組名前( )

小文字

↑ローマ字で書けるかな?

あ a ( ) i ( ) u ( ) e ( ) o ( )

か か k ( ) き ( ) く ( ) け ( ) こ ( )

さ さ s ( ) し shi ( ) す ( ) せ ( ) そ ( )

た た t ( ) ち chi ( ) つ tsu ( ) て ( ) と ( )

な な n ( ) に ( ) ぬ ( ) ね ( ) の ( )

は は h ( ) ひ ( ) ふ fu ( ) へ ( ) ほ ( )

ま ま m ( ) み ( ) め ( ) む ( ) や ( ) よ ( )

ら ら r ( ) り ( ) る ( ) れ ( ) ろ ( ) わ wo ( ) ん ( )

大文字

あ い う え お  
A ( ) I ( ) U ( ) E ( ) O ( )

か行 さ行 た行 な行  
K ( ) S ( ) T ( ) N ( )

は行 ま行 や行 ろ行  
H ( ) M ( ) Y ( ) R ( )

わ行 が行 ざ行 だ行  
W ( ) G ( ) Z ( ) D ( )

は行 (イホン式用)  
B ( ) P ( ) C ( ) F ( ) J ( )  
(ち) (に) (じ)

自分の名前を練習してみよう!!

例) Takashi Mitonoya  
(たかし) (みとのや)

自分の名前を2回書いてみましょう。最初の1文字だけ大文字!! 本とは小文字。名前→名字の順だよ!!

( )



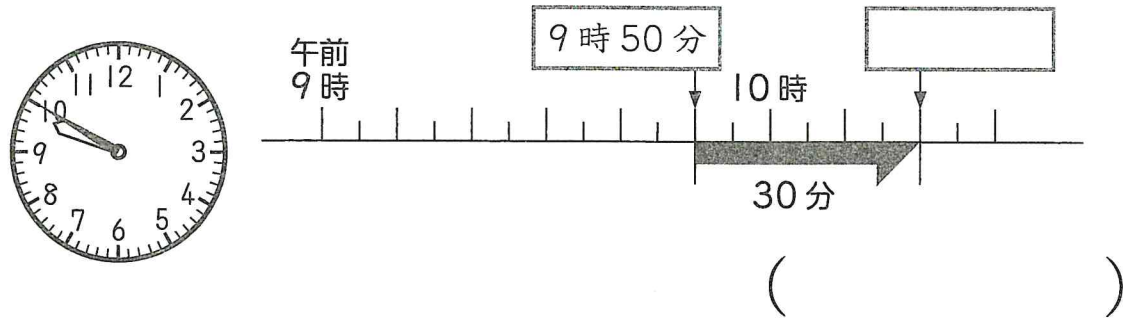


# 時こくと時間 (1)

時こくをもとめる ①

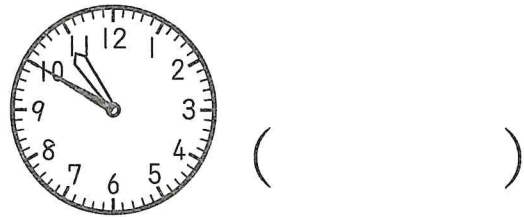
名前

- ① 家を午前 9 時 50 分に出て、30 分歩くとバスでいに着きました。バスでいに着いた時こくは何時何分ですか。

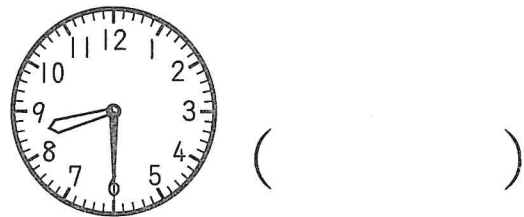


- ② 次の時こくをもとめましょう。


① 午前 10 時 50 分から 25 分後の時こく



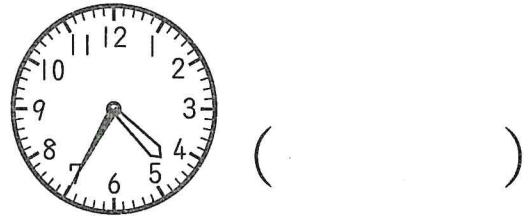
② 午前 8 時 30 分から 40 分後の時こく



③ 午後 2 時 40 分から 1 時間 10 分後の時こく



④ 午後 4 時 35 分から 35 分後の時こく



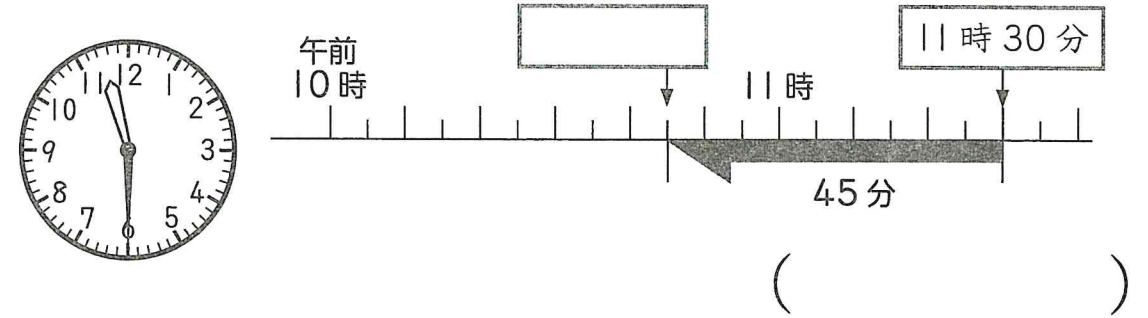
- ⑤ 午前 9 時 25 分から 50 分後の時こく ( )
- ⑥ 午前 11 時 40 分から 1 時間 25 分後の時こく ( )
- ⑦ 午後 3 時 55 分から 20 分後の時こく ( )
- ⑧ 午後 7 時 15 分から 1 時間 30 分後の時こく ( )

# 時こくと時間 (2)

時こくをもとめる ②


名前

- ① バスに 45 分乗って、遊園地ゆうえんちに午前 11 時 30 分に着きました。バスに乗った時こくは何時何分ですか。

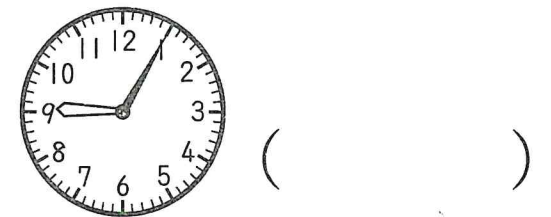


- ② 次の時こくをもとめましょう。

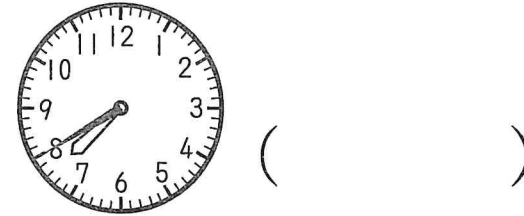
① 午前 11 時 20 分の 30 分前の時こく




② 午前 9 時 5 分の 25 分前の時こく



③ 午後 7 時 40 分の 1 時間 10 分前の時こく



④ 午後 3 時 20 分の 55 分前の時こく



- ⑤ 午前 10 時 40 分の 50 分前の時こく ( )
- ⑥ 午前 8 時 30 分の 1 時間 15 分前の時こく ( )
- ⑦ 午後 5 時 15 分の 40 分前の時こく ( )
- ⑧ 午後 1 時 10 分の 1 時間 30 分前の時こく ( )

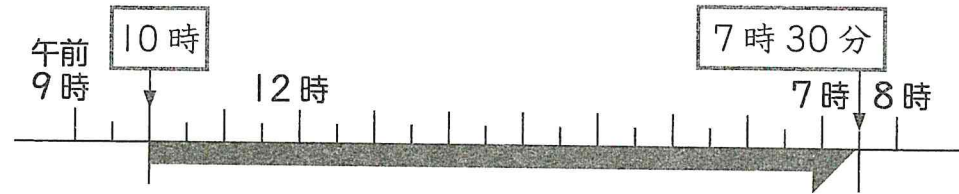


### 時こくと時間 (3)

時間をもとめる ①

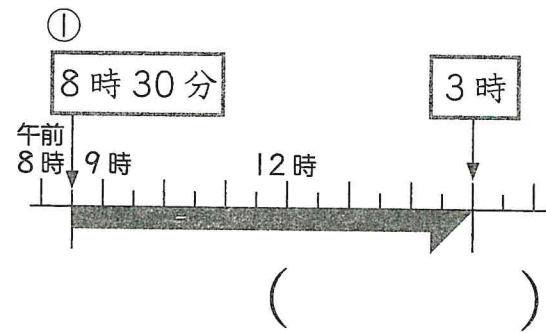
名前 \_\_\_\_\_

- ① ゆうえんち 遊園地は午前 10 時にかいえん 開園し、午後 7 時 30 分にへい園します。  
遊園地が開いている時間はどれだけですか。

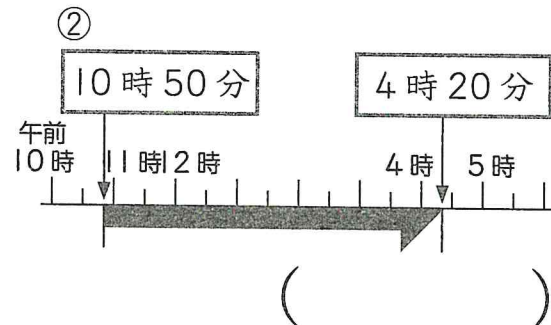


( )

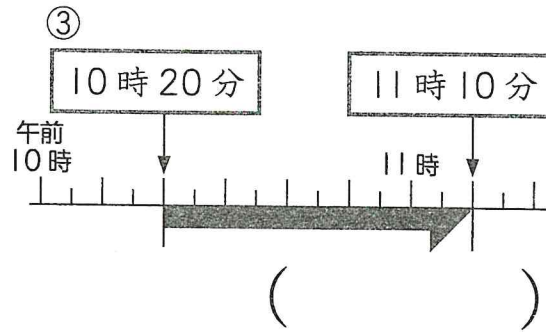
- ② 次の時間をもとめましょう。



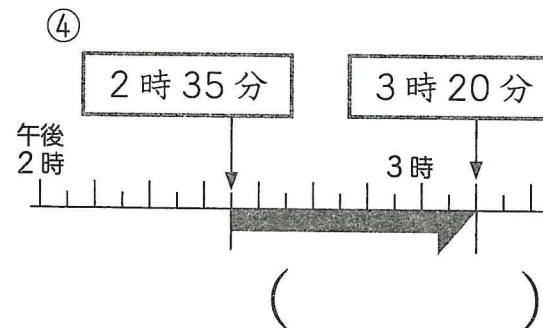
( )



( )



( )



( )

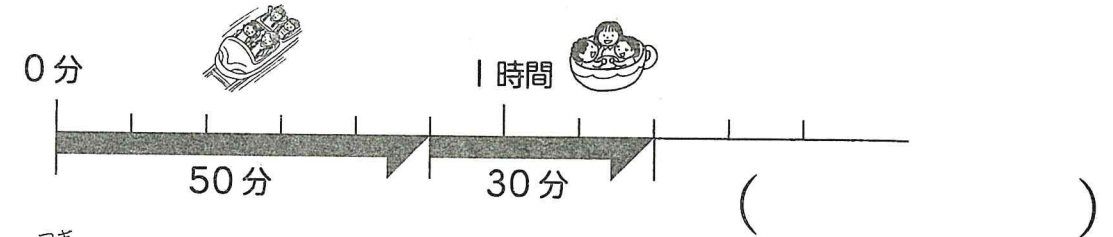
- ⑤ 午前 9 時 15 分から午後 2 時 30 分までの時間 ( )  
 ⑥ 午前 8 時 10 分から午後 6 時 25 分までの時間 ( )  
 ⑦ 午前 7 時 40 分から午前 8 時 15 分までの時間 ( )  
 ⑧ 午後 5 時 55 分から午後 6 時 45 分までの時間 ( )

### 時こくと時間 (4)

時間をもとめる ②

名前 \_\_\_\_\_

- ① ジェットコースターの待ち時間は 50 分で、コーヒーカップの待ち時間は 30 分です。あわせて何時間何分ですか。



- ② 次の時間をもとめましょう。

- ① 30 分と 25 分をあわせた時間      ② 45 分と 35 分をあわせた時間

時	分		時	分
	30			
+	25	( )		( )

- ③ 1 時間 15 分と 10 分をあわせた時間      ④ 2 時間 40 分と 45 分をあわせた時間

時	分		時	分
		( )		( )



#### 考えよう

昼間の時間(日の出から日の入りまでの時間)がいちばん長い日を夏至、いちばん短い日を冬至といいます。夏至と冬至の昼間の時間をもとめましょう。

また、その時間のちがいをもとめましょう。

2018 年東京	日の出	日の入り
夏至(6月21日)	午前 4 時 25 分	午後 7 時
冬至(12月22日)	午前 6 時 47 分	午後 4 時 32 分

夏至の昼間の時間 ( )      冬至の昼間の時間 ( )  
 昼間の時間のちがい ( )



# しぜんのかんさつ まとめテスト (1)

① 次の( )にあてはまることばを [ ] からえらび、かきましょう。  
(各4点)

(1) かんさつに出かけるときに、じゅんびをするものは、かんさつ内容をきろくする(①)、(②)、(③)などがあります。また、虫をつかまえるための(④)やつかまえた虫を入れる(⑤)、虫のこまかい部分をかんさつする(⑥)などあればべんりです。

また、かんさつするとき気をつけることは、(⑦)、かんだりする(⑧)や(⑨)植物に気をつけます。外から帰ったら(⑩)をあらいます。

プラスチックケース デジタルカメラ あみ 筆記用具  
虫めがね きろくカード さしたり かぶれる 動物 手

(2) 見つけた生き物は(①)などを使って、くわしくかんさつします。カードには絵も使って(②)、(③)、(④)など生き物のようすをくわしくかきます。

また、わかったことには、自分の(⑤)もかいておきます。

思ったこと 形 色 大きさ 虫めがね

学習日		名前	
/		点前	

② 次のかんさつカードを見て、あとの問いに答えましょう。

(1) ①のところに題名をかきましょう。(6点)

( )

(2) カマキリのあしは何本ですか。(6点)

( )

(3) かんさつした日はいつですか。(6点)

( )

(4) カマキリは、何を食べていますか。(6点)

( )

(5) ②の前あしの形は、何のような形をしていますか。(6点)

( )

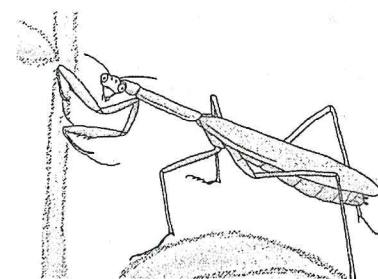
(6) カマキリのからだのみどり色をしているのは、なぜですか。(10点)

( )

(①) 野原

5月25日 午前10時 晴れ 25℃

上田 さとし



- 草原の中の葉にとまっていた。
- 近くに小さい虫がたくさんいた。
- からだはみどり色をしていて、見つけにくかった。
- 前あしは(②)のようになっていた。

# しぜんのかんさつ まとめテスト (2)

① 次の草花のせたけは、㊦タンポポ、㊧ヨモギのどちらににいていますか。( )に記号をかきましょう。(各5点)

- ① オオバコ ( )                      ② ハルジオン ( )  
 ③ アブラナ ( )                      ④ チューリップ ( )

② 住んでいる場所でからだの色がかわる生き物がいます。

(1) 住んでいる場所で、からだの色がかわるものには○、かわらないものには×をつけましょう。(各5点)

- ① アマガエル ( )                      ② アゲハ ( )  
 ③ アリ ( )                              ④ カマキリ ( )

(2) からだの色がかわるのは、なぜですか。次の中から正しいものを1つえらびましょう。(6点)


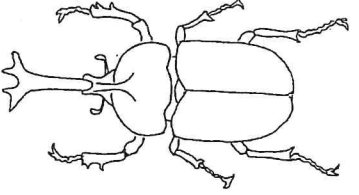
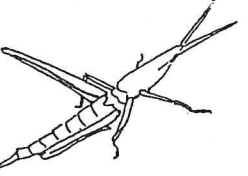
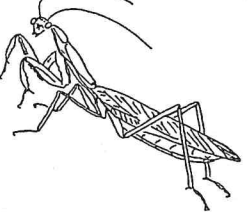
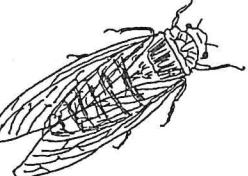
- ① ( ) 住む場所の色にあわせて、身を守るため  
 ② ( ) オス・メスで住む場所がかわるため  
 ③ ( ) 気温によって色がかわるため

③ 次の虫のうち、あしが6本のものに○、そうでないものに×をつけましょう。(各4点)

- ① アリ ( )                              ② ダンゴムシ ( )  
 ③ ハチ ( )                              ④ カマキリ ( )  
 ⑤ テントウムシ ( )                      ⑥ クモ ( )

学習日	点	名前
/		

④ 次のこん虫の食べ物と住む場所を [ ] からえらび、かきましょう。(各3点)

	食べ物	住む場所
① 		
② 		
③ 		
④ 		
⑤ 		

- 【食べ物】 草の葉 木のしる 花のみつ 小さい虫  
 【住む場所】 キャベツ畑 林 草原