


9月3日(金)







# 国語辞典じてんの使い方②

名前

☆ ううぎぎを表す言葉(走れ、走ろう…) や様子ようすを表す言葉(早く、早かった…) など、形かたちのかわる言葉は、国語辞典では「言い切りの形」(走る、早い)で調べます

(1) 次の言葉を言い切りの形にしましょう。

- ① 大きな ( )      ② 言わない ( )
- ③ 食べます ( )      ④ しずかに ( )
- ⑤ 行け ( )      ⑥ うれしかった ( )



☆ 見出し語に意味がいくつかあるときは、①、②、③…のようにならべてのっています。自分が調べている言葉の出ってくる文章をよく読んで、どの意味があてはまるか、考えます。

(2) 次の——線の言葉を国語辞典で引いて、同じ意味で使われているものを㊶㊷㊸から一つえらんで○をつけましょう。

① ああつついい氷こがははつつてていいる。

- ㊶ ( ) ——— ああつついいおおふふろ
- ㊷ ( ) ——— 夏なつはああつつい。
- ㊸ ( ) ——— 国語辞典はああつつい。



② ねねここがねねずずみみをととる。

- ㊶ ( ) ——— 写しゃ真しんをととる。
- ㊷ ( ) ——— せせみみをととる。
- ㊸ ( ) ——— よよごごこれこれをととる。



(3) 次の——線の言葉は、国語辞典にのっている㊶㊷㊸のどの意味で使われていますか。一つえらんで○をつけましょう。

① 波なみが立たつ。

- ㊶ ( ) ——— ままつつすすぐぐたたててににななる。
- ㊷ ( ) ——— ははななれる。出でかかける。
- ㊸ ( ) ——— ははげげししくくななる。たたかかぶぶる。



② ううまいまい話わががあある。

- ㊶ ( ) ——— 味あじががよよい。おおいいししい。
- ㊷ ( ) ——— つつごごううががよよい。
- ㊸ ( ) ——— じじょうょうずずだ。



# 消しゴムころりん

①

名前 55

二時間めは、作文の時間だった。さおりはとつくに書き上げて、つくえの上で消しゴムを転がしてあそんでいた。

とくに物を大切にするほうだなんて思っ  
てはいないけれど、消しゴムは、本当に小さく  
なるまでつかう。この消しゴムも、もう、パ  
チンコ玉くらいの大きさになっている。形だっ  
てパチンコ玉のように丸い。丸くなるように  
つかっている。㊦、よく転がる。といっ  
ても、まん丸じゃないから、まっすぐには転  
がらない。そこが**㊧**おもしろい。

「あ。」

ちよつと強く転がした

のがいけなかった。

㊨こんなことって、ある？



消しゴムは、ゆかいたの細長い三角形のあ  
なにすいこまれるように落ちていったのだ。

㊩とつさに、まわりを見回した。見回してな  
んとかなると思っただけではないが、見回し  
た。㊪、右どなりのせきのゆきひろと目  
が合った。ゆきひろはあわてて目をそらせ、  
書くことを考えているふりをした。その口も  
とがわらっているように見えて、さおりはむっ  
とした。

上の文章を読んで答えましょう。

一 さおりは、作文の時間に何をしていたか。  
(10)

二 さおりの消しゴムについて、答えましょう。  
(10)

① 大きさ

② 形

三 そのことは、どんなことですか。  
(10)

四 こんなこととは、どんなことですか。  
(10)

五 とつさに、まわりを見回した。について  
答えましょう。

① さおりはどんな気持ちだったと思いま  
すか。  
(10)

② 「とつさに」と同じ意味のことばに○を  
つけましょう。  
(10)

( ) ゆっくりと  
( ) そのしゅんかんに

六 ㊪、㊩にあてはまることばを  
からえらんで書きましょう。  
(10)

㊫ ( ) ( ) ( ) ( )

すると・しかし・だから

七 さおりはむっとした。とありますが、ど  
うしてむっとしたのでしょうか。  
(10)

ローマ字練習プリント その2

年組名前( )

g (か) (き) (く) (け) (こ)

z (ざ) (じ(ji)) (ず) (ぜ) (ぞ)

d (だ) (ぢ(di)) (づ(du)) (で) (ど)

b (ば) (び) (ぶ) (べ) (ぼ)

p (ぱ) (ぴ) (ぷ) (ぺ) (ぽ)

kya (きゃ) (きゅ) (きょ)

tya (ちゃ) (ちゅ) (ちょ)

hva (は) (ひ) (ふ)

rya (りゃ) (りゅ) (りょ)

sha (しゃ) (しゅ) (しょ)

nya (にゃ) (にゅ) (にょ)

mya (みゃ) (みゅ) (みょ)

gya (ぎゃ) (ぎゅ) (ぎょ)

zya (じゃ) (じゅ) (じょ)

bya (びゃ) (びゅ) (びょ)

dva (ぢゃ) (ぢゅ) (ぢょ)




### 時ごとと時間 (5)

時ごとと時間をもとめる

名前 \_\_\_\_\_

- ① 午前 9 時 40 分に家を出て、1 時間 30 分かかって動物園に着きました。動物園に着いた時ごとは何時何分ですか。



答え \_\_\_\_\_

- ② 夜は午後 9 時 15 分にねて、朝起きたのは午前 6 時 30 分です。ねていた時間は何時間何分ですか。

答え \_\_\_\_\_

- ③ 学校から家まで歩いて 30 分かかります。午後 4 時 15 分に家に着きました。学校を出たのは何時何分ですか。

答え \_\_\_\_\_

- ④ 東京を午後 3 時 20 分に発車する新かん線に乗ると、京都に午後 6 時 35 分に着きます。東京から京都まで何時間何分かかりますか。

答え \_\_\_\_\_

- ⑤ 午前 10 時にプールに着くようにバスに乗ります。プールまではバスで 45 分かかります。何時何分までにバスに乗ればよいですか。



答え \_\_\_\_\_

### 時ごとと時間 (6)

時間のたんい (秒・分・時間)

名前 \_\_\_\_\_


- ① □ にあてはまる数を書きましょう。

- ① 60 秒 = □ 分      ② 100 秒 = □ 分 □ 秒  
 ③ 169 秒 = □ 分 □ 秒      ④ 1 分 45 秒 = □ 秒  
 ⑤ 3 分 = □ 秒      ⑥ 2 分 36 秒 = □ 秒  
 ⑦ 2 時間 = □ 分      ⑧ 1 時間 25 分 = □ 分  
 ⑨ 240 分 = □ 時間      ⑩ 173 分 = □ 時間 □ 分

- ② どちらの時間が長いですか。長い方に○をつけましょう。

- ① ( 55 秒 , 1 分 )      ② ( 2 分 10 秒 , 120 秒 )  
 ③ ( 95 秒 , 1 分 34 秒 )      ④ ( 3 分 , 186 秒 )

- ③ ( ) にあてはまる時間のたんいを書きましょう。



- ① 昼ごはんを食べるのにかかる時間 ..... 50 ( )  
 ② 図書館にいた時間 ..... 3 ( )  
 ③ 50 メートルを走るのにかかる時間 ..... 11 ( )  
 ④ ピアノの練習をした時間 ..... 75 ( )  
 ⑤ 歯みがきにかかる時間 ..... 300 ( )






## わり算 (9)

○÷2~○÷5

名前 \_\_\_\_\_

- |            |            |            |
|------------|------------|------------|
| ① 15 ÷ 5 = | ② 16 ÷ 2 = | ③ 28 ÷ 4 = |
| ④ 45 ÷ 5 = | ⑤ 12 ÷ 3 = | ⑥ 12 ÷ 2 = |
| ⑦ 24 ÷ 3 = | ⑧ 10 ÷ 2 = | ⑨ 30 ÷ 5 = |
| ⑩ 8 ÷ 2 =  | ⑪ 12 ÷ 4 = | ⑫ 18 ÷ 3 = |
| ⑬ 20 ÷ 4 = | ⑭ 9 ÷ 3 =  | ⑮ 18 ÷ 2 = |
| ⑯ 28 ÷ 4 = | ⑰ 25 ÷ 5 = | ⑱ 15 ÷ 3 = |
| ⑲ 10 ÷ 5 = | ⑳ 32 ÷ 4 = | ㉑ 14 ÷ 2 = |
| ㉒ 12 ÷ 4 = | ㉓ 40 ÷ 5 = | ㉔ 16 ÷ 4 = |
| ㉕ 27 ÷ 3 = | ㉖ 35 ÷ 5 = | ㉗ 6 ÷ 2 =  |
| ㉘ 36 ÷ 4 = | ㉙ 14 ÷ 2 = | ㉚ 12 ÷ 3 = |
| ㉛ 20 ÷ 5 = | ㉜ 6 ÷ 3 =  | ㉝ 24 ÷ 4 = |
| ㉞ 12 ÷ 2 = | ㉟ 40 ÷ 5 = | ㊱ 15 ÷ 3 = |
| ㊲ 24 ÷ 4 = | ㊳ 4 ÷ 2 =  | ㊴ 8 ÷ 4 =  |
| ㊵ 21 ÷ 3 = | ㊶ 45 ÷ 5 = | ㊷ 27 ÷ 3 = |
| ㊸ 30 ÷ 5 = | ㊹ 14 ÷ 2 = | ㊺ 32 ÷ 4 = |
| ㊻ 21 ÷ 3 = | ㊼ 16 ÷ 4 = | ㊽ 18 ÷ 2 = |
| ㊾ 15 ÷ 5 = | ㊿ 18 ÷ 3 = |            |




## わり算 (10)

○÷6~○÷9

名前 \_\_\_\_\_

- |            |            |            |
|------------|------------|------------|
| ① 42 ÷ 6 = | ② 24 ÷ 8 = | ③ 35 ÷ 7 = |
| ④ 54 ÷ 9 = | ⑤ 30 ÷ 6 = | ⑥ 64 ÷ 8 = |
| ⑦ 28 ÷ 7 = | ⑧ 18 ÷ 9 = | ⑨ 24 ÷ 6 = |
| ⑩ 63 ÷ 7 = | ⑪ 45 ÷ 9 = | ⑫ 40 ÷ 8 = |
| ⑬ 54 ÷ 6 = | ⑭ 56 ÷ 8 = | ⑮ 21 ÷ 7 = |
| ⑯ 72 ÷ 9 = | ⑰ 14 ÷ 7 = | ⑱ 36 ÷ 6 = |
| ⑲ 36 ÷ 9 = | ⑳ 48 ÷ 8 = | ㉑ 18 ÷ 6 = |
| ㉒ 72 ÷ 8 = | ㉓ 49 ÷ 7 = | ㉔ 54 ÷ 9 = |
| ㉕ 30 ÷ 6 = | ㉖ 32 ÷ 8 = | ㉗ 56 ÷ 7 = |
| ㉘ 81 ÷ 9 = | ㉙ 48 ÷ 6 = | ㉚ 16 ÷ 8 = |
| ㉛ 42 ÷ 7 = | ㉜ 63 ÷ 9 = | ㉝ 36 ÷ 6 = |
| ㉞ 48 ÷ 8 = | ㉟ 21 ÷ 7 = | ㊱ 45 ÷ 9 = |
| ㊲ 63 ÷ 9 = | ㊳ 48 ÷ 6 = | ㊴ 42 ÷ 7 = |
| ㊵ 36 ÷ 9 = | ㊶ 64 ÷ 8 = | ㊷ 12 ÷ 6 = |
| ㊸ 21 ÷ 7 = | ㊹ 40 ÷ 8 = | ㊺ 27 ÷ 9 = |
| ㊻ 54 ÷ 6 = | ㊼ 49 ÷ 7 = | ㊽ 24 ÷ 8 = |
| ㊾ 72 ÷ 9 = | ㊿ 24 ÷ 6 = |            |





古

名前

下の地図記号にあてはまる建物や施設、植生などを、語句から選んで書きましよう。  
植物の集団のこと

おもな地図記号


- 郵便局 田 (水田) 市役所 図書館 交番 工場
- 畑 小・中学校 病院 博物館 高等学校
- 果樹園 寺院 警察署 発電所・変電所 温泉
- 神社 茶畑 町・村役場 消防署 老人ホーム

