

9月7日(火)







# 国語辞典じてんの使い方



名前

(1) 次の見出し語が国語辞典にのっている順に、( )に番号を書きましよう。

(完答5X6)

①

( )	( )	( )	( )	( )
( )	( )	( )	( )	( )
( )	( )	( )	( )	( )
( )	( )	( )	( )	( )
( )	( )	( )	( )	( )



②

( )	( )	( )	( )	( )
( )	( )	( )	( )	( )
( )	( )	( )	( )	( )
( )	( )	( )	( )	( )
( )	( )	( )	( )	( )



③

( )	( )	( )
( )	( )	( )
( )	( )	( )

④

( )	( )	( )
( )	( )	( )
( )	( )	( )
( )	( )	( )

⑤

( )	( )	( )
( )	( )	( )
( )	( )	( )
( )	( )	( )

⑥

( )	( )	( )
( )	( )	( )
( )	( )	( )



(2) 次の二つの見出し語のうち、国語辞典で先にのっている方に○をつけましよう。

(4X6)

①

( )	( )
( )	( )
( )	( )
( )	( )

②

( )	( )
( )	( )
( )	( )
( )	( )

③

( )	( )
( )	( )
( )	( )
( )	( )



④

( )	( )
( )	( )
( )	( )
( )	( )

⑤

( )	( )
( )	( )
( )	( )
( )	( )

⑥

( )	( )
( )	( )
( )	( )
( )	( )

(3) 次の言葉を言い切りの形にしましよう。

(5X6)

① 作って ( ) ( ) ② きれいな ( ) ( )

③ 早く ( ) ( ) ④ 歩け ( ) ( )

⑤ 買わない ( ) ( ) ⑥ 楽しかった ( ) ( )

(4) 次の——線の言葉は、国語辞典にのっているア①イ②ウ③のどの意味で使われていますか。一つえらんで○をつけましよう。

(8X2)

① パズルをとく。

② 駅のかいさつ口

ア ( ) ( ) ⑦ ( ) ( ) ① ( ) ( ) ② ( ) ( )

イ ( ) ( ) ⑧ ( ) ( ) ③ ( ) ( ) ④ ( ) ( )

ウ ( ) ( ) ⑨ ( ) ( ) ⑤ ( ) ( ) ⑥ ( ) ( )



# 消しゴムころりん

②


名前

きつと、ゆきひろは、消しゴムがあなたの中に落ちるところを見たのだ。

だって、目を大きくしていたもの。だったら、「大変なことになっちゃったね。」とか、「あなたに入るなんてすごいね。」とかの顔をしてもいいじゃない。それなのに、見ていないふりをして、一人でわらうなんて。

さおりは、□をとがらせて、足もとのあなたを見つめた。あなたの中はまっくらだった。指をつっこんでさがせるふかさははないようだ。どうしよう。せっかくあそこまで小さくしたのに。

そう思った時、細長いあなの中から、ひよいと何かが出てきた。思わず両足がうき上がり、声が出そうになった。それは、一ぴきのやもりだった。やもりは両手をゆかにつけ、さおりを見上げているように見えた。



さおりは、かえるややもりはにがてではない。さいしよのおどろきがおさまると、心の中でやもりに話しかけてみた。

「ねえ、やもり。消しゴムをそこに落としたんだけど、ひろってきてくれない。さつと、やもりがあなたの中に消えた。まるで、話を通じたみたいだった。やもりは、すぐに出てきた。びっくりしたのは、やもりが消しゴムをかかえていることだった。

④、ざんねんなことに、さおりの消しゴムではなかった。大きさはほとんど同じだが、まっ白だった。さおりの消しゴムは、もっとよこれている。

やもりは、白い消しゴムを片手でかかえ、もう片方の手の人さし指でさおりを指さし、次にかかえた消しゴムを指さした。その動作は、どう考えても、「きみが落としたのは、これ？」と、たずねているように見えた。

さおりは、あわてて首をふった。——うっん、それじゃない。

⑤、やもりは、その白い消しゴムをゆかの上におき、あなたの中にもどると、今度は、べつの消しゴムを持って出てきた。さおりの消しゴムだった。やもりはさつきと同じ動作をした。

上の文章を読んで答えましょう。  
一、なぜさおりは、きつと、ゆきひろは、消しゴムがあなたの中に落ちるところを見たのだと思ったのですか。 (10)

二、なぜさおりは、□をとがらせたのでしようか。 (10)

三、ひよいと何かが出てきた。について答えましょう。  
① 出てきたのは、何でしたか。 (10)

② そのとき、さおりはどんな様子でしたか。 (10)

四、やもりがあなたから出てきたときの様子を線でむすびましょう。 (8x3)  
① 一回目、  
② 二回目、  
③ 三回目、

④ 白い消しゴムをかかえて出てきた。  
⑤ さおりの消しゴムを持って出てきた。  
⑥ 両手をゆかにつけ、さおりを見上げているようだった。

五、その動作とは、どんな動作のことですか。 (10)

六、⑦、⑧にあてはまることばをからえらんで書きましょう。 (8x2)  
⑦、  
⑧、

すると、たとえば、けれど

七、「まるで、——みたい(だ)。」を使って文を作りましょう。 (10)

年組名前( )

のばす音 (お母さん) お母さん お父さん  
お okâsan ( ) ( )

つまる音 ねこ きて  
nekkô ( ) kitte ( )

地名・人名

足立区

足立区 (Adachi-ku) ( )

菅 義偉

よしひで すぎ

Yoshihide Suga ( )

本屋 → ほしやになすかいよう「の」をつける。

hon'ya ( )

様々な言葉を練習しましょう!!

ほんや

いえ おま たに たぬき  
( ) ( ) ( ) ( )

ほし むし ひよこ いさか

( ) ( ) ( ) ( )

わに きりん かがね

( ) ( ) ( )

すすめ めたか とんぼ  
( ) ( ) ( )

パンダ えんぴつ つくえ  
( ) ( ) ( )

キャッツ りよかん まんきょ  
( ) ( ) ( )

お姉さん (仲は猪) ねこ きて  
( ) ( ) ( )

学校 (つまる音+仲は猪) おおき 新垣 結衣  
( ) ( ) ( )

ハボン式練習 → ふつう ローマ字はハボン式で表せることが多いです。よく覚えて下さい。

しめじ 富士山 千葉さば つめ  
( ) ( ) ( ) ( )

東京 大阪 千住緑町

( ) ( ) ( )

星野源 おおたけ しょうへい  
大谷翔平

( ) ( )



# わり算 (19)

文章題 ①

名前 \_\_\_\_\_

- ① いちごが63こあります。1ふくろに7こずつ入れると、何ふくろできますか。



式 \_\_\_\_\_

答え \_\_\_\_\_

- ② チョコレートが30こあります。6人に同じ数ずつ分けると、1人分は何こになりますか。

式 \_\_\_\_\_

答え \_\_\_\_\_

- ③ りんごが16こ、みかんが4こあります。りんごの数は、みかんの数の何なんばい倍ですか。

式 \_\_\_\_\_

答え \_\_\_\_\_

- ④ テープが72cmあります。同じ長さずつ9本に切ると、1本の長さは何cmになりますか。



式 \_\_\_\_\_

答え \_\_\_\_\_

- ⑤ たまごが18こあります。1日に3こずつつか使うと、何日間使えますか。

式 \_\_\_\_\_

答え \_\_\_\_\_

# わり算 (20)

文章題 ②

名前 \_\_\_\_\_

- ① 子どもが35人います。同じ人数になるように5チームに分けられました。1チームは何人ですか。

式 \_\_\_\_\_

答え \_\_\_\_\_

- ② 18dLのジュースを、2dLずつコップに入れました。ジュースは、コップ何こ分ありましたか。



式 \_\_\_\_\_

答え \_\_\_\_\_

- ③ 1まい7円のおり紙を買います。42円では、おり紙を何まい買えますか。

式 \_\_\_\_\_

答え \_\_\_\_\_

- ④ どんぐりが72こあります。8こずつふくろに入れます。ふくろは何まいいりますか。



式 \_\_\_\_\_

答え \_\_\_\_\_

- ⑤ 赤いリボンが6cm、青いリボンが12cmあります。青いリボンの長さは、赤いリボンの長さの何なんばい倍ですか。

式 \_\_\_\_\_

答え \_\_\_\_\_





## わり算 (21)

文章題 ③

名前 \_\_\_\_\_

- ① おにぎりが 10 こあります。1 人に 2 こずつ分けると、何人に分けられますか。



しき式

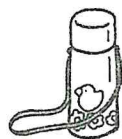
答え \_\_\_\_\_

- ② 7 日間で、おりづるを 49 こおります。毎日同じ数ずつおるとすると、1 日に何こおればよいですか。

式

答え \_\_\_\_\_

- ③ 5 L のお茶を、1 L ずつ水とうに分けるには、水とうは何こいりますか。



式

答え \_\_\_\_\_

- ④ ケーキが 12 こあります。3 まいのお皿さらに同じ数ずつ分けます。1 皿分は何こになりますか。

式

答え \_\_\_\_\_

- ⑤ 畑はたけでトマトが 54 こ、なすが 9 ことれました。トマトの数は、なすの数の何倍なんばいですか。

式

答え \_\_\_\_\_

## わり算 (22)

文章題 ④

名前 \_\_\_\_\_

- ① キャラメルが 40 こあります。1 ふくろに 8 こずつ分けると、ふくろは 2 まいあまりました。ふくろは、全部ぜんぶで何まいありますか。

しき式

答え \_\_\_\_\_

- ② パン屋やさんがクロワッサンを 27 こ作って、ふくろに 3 こずつ入れました。そのうち 5 ふくろが売れました。あと何ふくろのこっていますか。



式

答え \_\_\_\_\_

- ③ えん筆びつが 48 本あります。子ども 1 人に 6 本ずつ分けると、4 人分たりませんでした。子どもは、全部で何人いますか。

式

答え \_\_\_\_\_

- ④ みさとさんは、シールを 27 まい持っています。1 ふくろに 9 まいずつ分けて、そのうち 1 ふくろを妹にあげました。あと何ふくろのこっていますか。

式

答え \_\_\_\_\_


- ⑤ お皿さらが 9 まいあります。42 ここのたこやきを、1 一つのお皿に 7 こずつ分けました。たこやきがのっていないお皿は、何まいですか。



式

答え \_\_\_\_\_





名前

下の地図記号にあてはまる建物や施設、植生などを、語句から  
選んで書きましよう。  
植物の集団のこと

おもな地図記号


ゆうびんきょく  
郵便局

た 田 (水田)

しやくしょ  
市役所

としょかん  
図書館

こうばん  
交番

こうじょう  
工場

はたけ  
畑

しょう 小・中学校

びやういん  
病院

はくぶつかん  
博物館

しろ  
城

こうとうがっこう  
高等学校

かじゅえん  
果樹園

じいん  
寺院

けいさつしよ  
警察署

ぜいおしよ  
税務署

はつでんしよ  
発電所

おんせん  
温泉

じんじや  
神社

ちやばたけ  
茶畑

ほけんじよ  
保健所

まち おら やくば  
町・村役場

しょうぼうしよ  
消防署

らうじん  
老人ホーム

